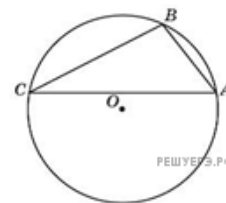
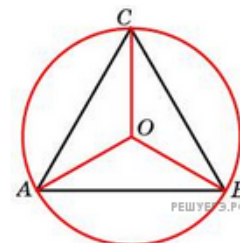


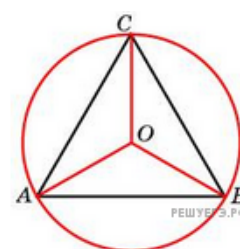
1. Точки A, B, C , расположенные на окружности, делят ее на три дуги, градусные величины которых относятся как $1 : 3 : 5$. Найдите больший угол треугольника ABC . Ответ дайте в градусах.



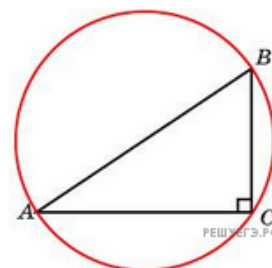
2. Сторона правильного треугольника равна $\sqrt{3}$. Найдите радиус окружности, описанной около этого треугольника.



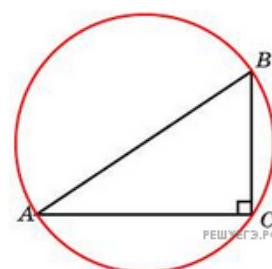
3. Радиус окружности, описанной около правильного треугольника, равен $\sqrt{3}$. Найдите сторону этого треугольника.



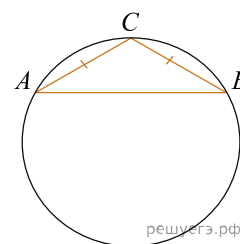
4. В треугольнике ABC $AC = 4$, $BC = 3$, угол C равен 90° . Найдите радиус описанной окружности этого треугольника.



5. В треугольнике ABC $BC = 6$, угол C равен 90° . Радиус описанной окружности этого треугольника равен 5. Найдите AC .

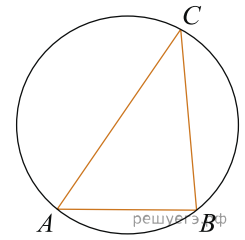


6. Боковая сторона равнобедренного треугольника равна 1, угол при вершине, противолежащей основанию, равен 120° . Найдите диаметр описанной окружности этого треугольника.

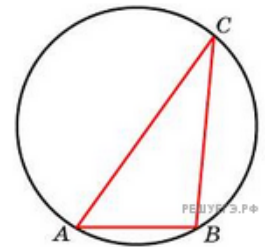


7.

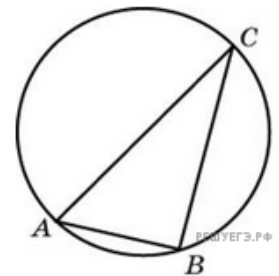
Сторона AB треугольника ABC равна 1. Противлежащий ей угол C равен 30° . Найдите радиус окружности, описанной около этого треугольника.



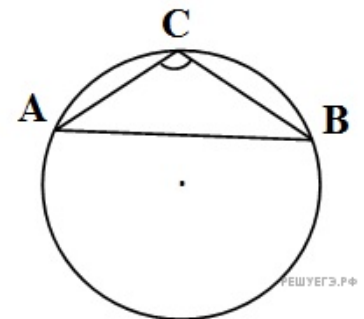
8. Одна сторона треугольника равна радиусу описанной окружности. Найдите угол треугольника, противолежащий этой стороне. Ответ дайте в градусах



9. Угол C треугольника ABC , вписанного в окружность радиуса 3, равен 30° . Найдите сторону AB этого треугольника.



10. Сторона AB треугольника ABC равна 1. Противлежащий ей угол C равен 150° . Найдите радиус окружности, описанной около этого треугольника.



11. Пусть тупым является угол C , тогда сторона AB тупоугольного треугольника ABC равна радиусу описанной около него окружности. Найдите угол C . Ответ дайте в градусах.



12. Боковые стороны равнобедренного треугольника равны 40, основание равно 48. Найдите радиус описанной окружности этого треугольника.

