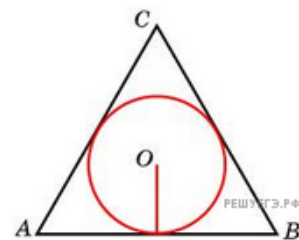
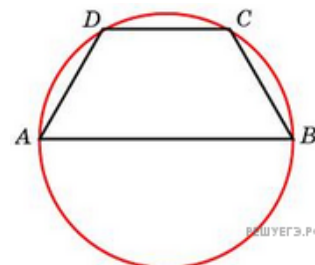


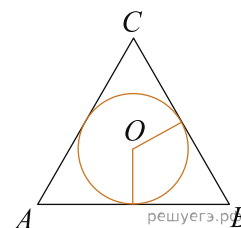
1. Радиус окружности, вписанной в правильный треугольник, равен 6. Найдите высоту этого треугольника.



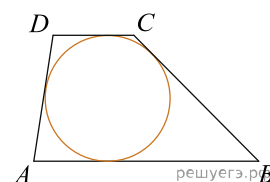
2. Боковая сторона равнобедренной трапеции равна ее меньшему основанию, угол при основании равен 60° , большее основание равно 12. Найдите радиус описанной окружности этой трапеции.



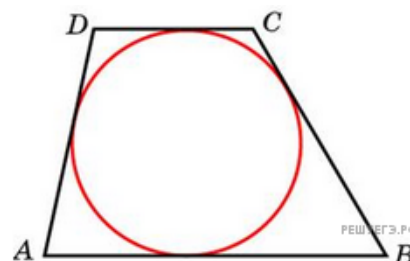
3. Окружность, вписанная в равнобедренный треугольник, делит в точке касания одну из боковых сторон на два отрезка, длины которых равны 5 и 3, считая от вершины, противоположной основанию. Найдите периметр треугольника.



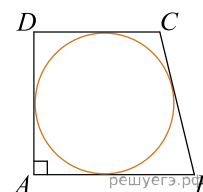
4. Боковые стороны трапеции, описанной около окружности, равны 3 и 5. Найдите среднюю линию трапеции.



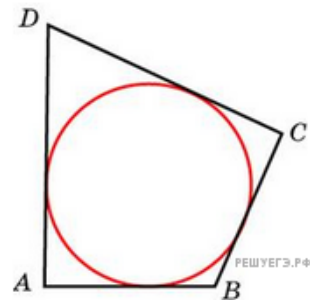
5. Около окружности описана трапеция, периметр которой равен 40. Найдите ее среднюю линию.



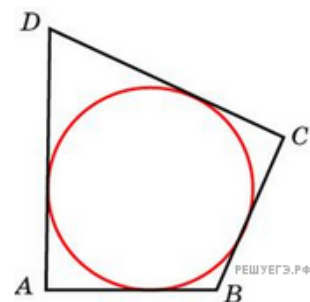
6. Периметр прямоугольной трапеции, описанной около окружности, равен 22, ее большая боковая сторона равна 7. Найдите радиус окружности.



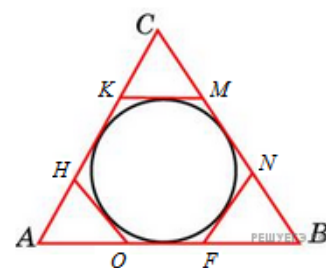
7. В четырехугольник $ABCD$ вписана окружность, $AB = 10$, $CD = 16$. Найдите периметр четырехугольника.



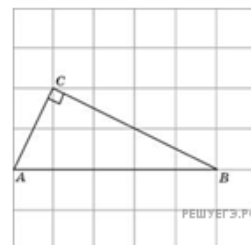
8. В четырехугольник $ABCD$ вписана окружность, $AB = 10$, $BC = 11$ и $CD = 15$. Найдите четвертую сторону четырехугольника.



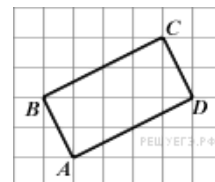
9. К окружности, вписанной в треугольник ABC , проведены три касательные. Периметры отсеченных треугольников равны 6, 8, 10. Найдите периметр данного треугольника.



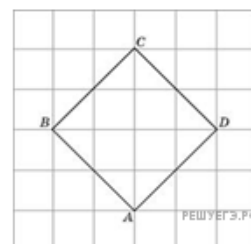
10. Найдите радиус окружности, описанной около прямоугольного треугольника ABC , если стороны квадратных клеток равны 1.



11. Найдите радиус окружности, описанной около прямоугольника $ABCD$, если стороны квадратных клеток равны 1.



12. Найдите радиус окружности, вписанной в квадрат $ABCD$, считая стороны квадратных клеток равными $\sqrt{2}$.



13. Найдите радиус окружности, описанной около правильного треугольника ABC , считая стороны квадратных клеток равными 1.

