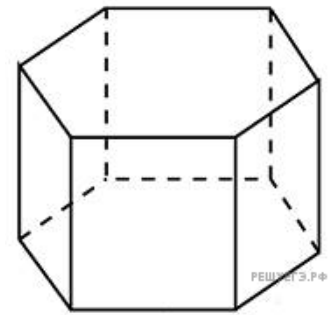
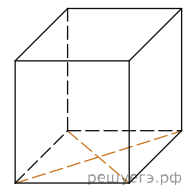


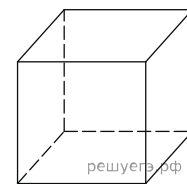
1. Найдите площадь боковой поверхности правильной шестиугольной призмы, сторона основания которой равна 5, а высота – 10.



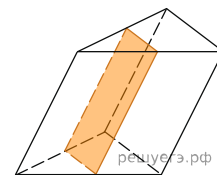
2. Найдите площадь поверхности прямой призмы, в основании которой лежит ромб с диагоналями, равными 6 и 8, а боковое ребро призмы равно 10.



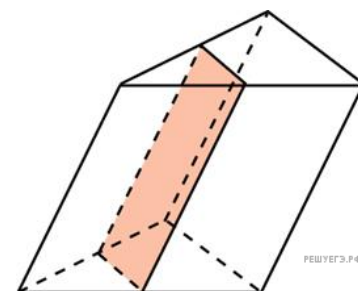
3. Найдите боковое ребро правильной четырехугольной призмы, если сторона ее основания равна 20, а площадь поверхности равна 1760.



4. Через среднюю линию основания треугольной призмы, объем которой равен 32, проведена плоскость, параллельная боковому ребру. Найдите объем отсеченной треугольной призмы.

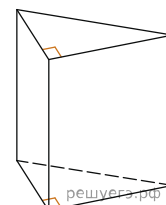


5. Через среднюю линию основания треугольной призмы проведена плоскость, параллельная боковому ребру. Объем отсеченной треугольной призмы равен 5. Найдите объем исходной призмы.

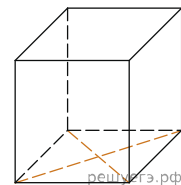


6. От треугольной призмы, объем которой равен 6, отсечена треугольная пирамида плоскостью, проходящей через сторону одного основания и противоположную вершину другого основания. Найдите объем оставшейся части.

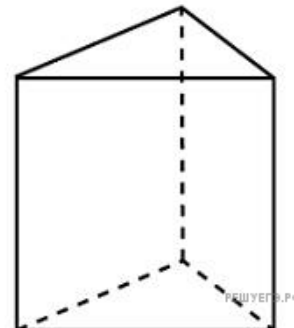
7. Основанием прямой треугольной призмы служит прямоугольный треугольник с катетами 6 и 8, высота призмы равна 10. Найдите площадь ее поверхности.



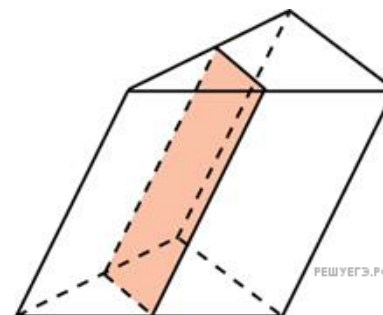
8. В основании прямой призмы лежит ромб с диагоналями, равными 6 и 8. Площадь ее поверхности равна 248. Найдите боковое ребро этой призмы.



9. Основанием прямой треугольной призмы служит прямоугольный треугольник с катетами 6 и 8. Площадь ее поверхности равна 288. Найдите высоту призмы.

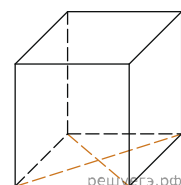


10. Через среднюю линию основания треугольной призмы проведена плоскость, параллельная боковому ребру. Площадь боковой поверхности отсеченной треугольной призмы равна 8. Найдите площадь боковой поверхности исходной призмы.

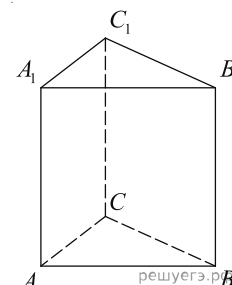


11. От треугольной призмы, объем которой равен 150, отсечена треугольная пирамида плоскостью, проходящей через сторону одного основания и противоположную вершину другого основания. Найдите объем оставшейся части.

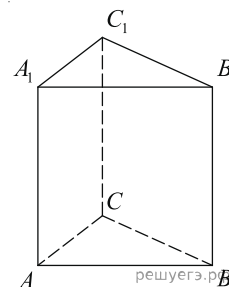
12. В основании прямой призмы лежит ромб с диагоналями, равными 16 и 30. Площадь ее поверхности равна 2588. Найдите боковое ребро этой призмы.



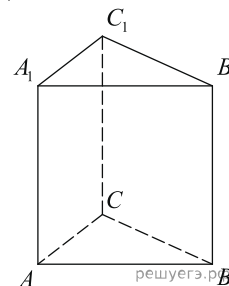
13. Найдите объем многогранника, вершинами которого являются точки  $A, B, C, A_1$  правильной треугольной призмы  $ABCA_1B_1C_1$ , площадь основания которой равна 2, а боковое ребро равно 3.



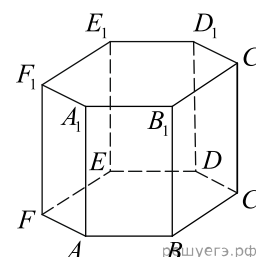
14. Найдите объем многогранника, вершинами которого являются точки  $A, B, C, A_1, C_1$  правильной треугольной призмы  $ABCA_1B_1C_1$ , площадь основания которой равна 3, а боковое ребро равно 2.



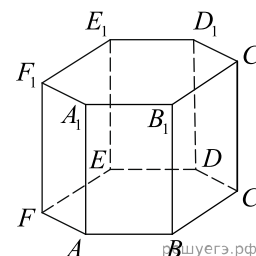
15. Найдите объем многогранника, вершинами которого являются точки  $A_1, B_1, B, C$  правильной треугольной призмы  $ABCA_1B_1C_1$ , площадь основания которой равна 4, а боковое ребро равно 3.



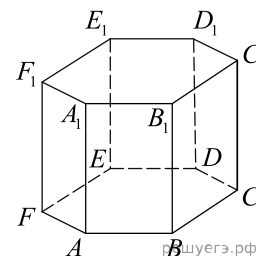
16. Найдите объем многогранника, вершинами которого являются точки  $A, B, C, D, E, F, A_1$  правильной шестиугольной призмы  $ABCDEF A_1B_1C_1D_1E_1F_1$ , площадь основания которой равна 4, а боковое ребро равно 3.



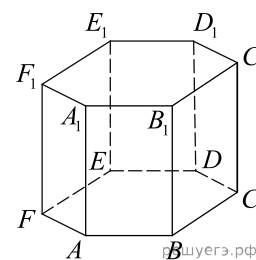
17. Найдите объем многогранника, вершинами которого являются точки  $A, B, C, A_1, B_1, C_1$  правильной шестиугольной призмы  $ABCDEF A_1B_1C_1D_1E_1F_1$ , площадь основания которой равна 6, а боковое ребро равно 3.



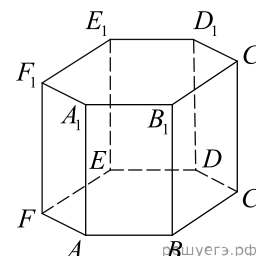
18. Найдите объем многогранника, вершинами которого являются точки  $A, B, D, E, A_1, B_1, D_1, E_1$  правильной шестиугольной призмы  $ABCDEF A_1B_1C_1D_1E_1F_1$ , площадь основания которой равна 6, а боковое ребро равно 2.



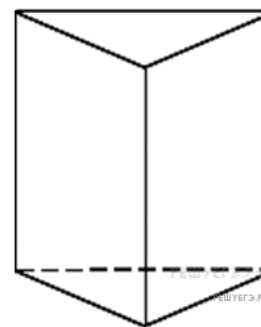
19. Найдите объем многогранника, вершинами которого являются точки  $A, B, C, D, A_1, B_1, C_1, D_1$  правильной шестиугольной призмы  $ABCDEF A_1 B_1 C_1 D_1 E_1 F_1$ , площадь основания которой равна 6, а боковое ребро равно 2.



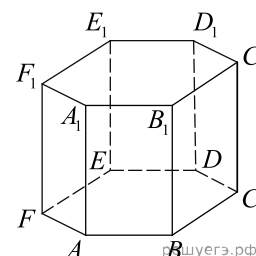
20. Найдите объем многогранника, вершинами которого являются точки  $A, B, C, B_1$  правильной шестиугольной призмы  $ABCDEF A_1 B_1 C_1 D_1 E_1 F_1$ , площадь основания которой равна 6, а боковое ребро равно 3.



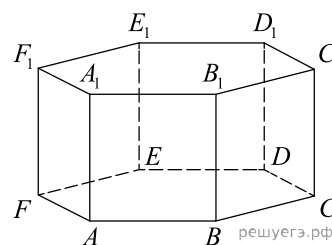
21. Площадь поверхности правильной треугольной призмы равна 6. Какой будет площадь поверхности призмы, если все ее ребра увеличить в три раза?



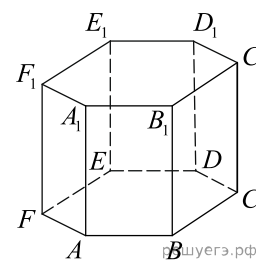
22. В правильной шестиугольной призме  $ABCDEF A_1 B_1 C_1 D_1 E_1 F_1$  все ребра равны 1. Найдите расстояние между точками  $B$  и  $E$ .



23. В правильной шестиугольной призме  $ABCDEF A_1 B_1 C_1 D_1 E_1 F_1$  все ребра равны 1. Найдите угол  $DAB$ . Ответ дайте в градусах.

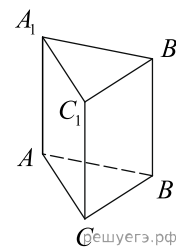


24. В правильной шестиугольной призме  $ABCDEF A_1 B_1 C_1 D_1 E_1 F_1$ , все ребра которой равны 8, найдите угол между прямыми  $FA$  и  $D_1 E_1$ . Ответ дайте в градусах.



25. В кубе  $ABCD A_1 B_1 C_1 D_1$  найдите угол между прямыми  $AD_1$  и  $B_1 D_1$ . Ответ дайте в градусах.

26. В правильной треугольной призме  $ABCA_1 B_1 C_1$ , все ребра которой равны 3, найдите угол между прямыми  $AA_1$  и  $BC_1$ . Ответ дайте в градусах.



27. В прямоугольном параллелепипеде  $ABCD A_1 B_1 C_1 D_1$  известны длины рёбер  $AB = 8$ ,  $AD = 6$ ,  $AA_1 = 21$ . Найдите синус угла между прямыми  $CD$  и  $A_1 C_1$ .

28. В правильной четырёхугольной призме  $ABCD A_1 B_1 C_1 D_1$  известно, что  $AC_1 = 2BC$ . Найдите угол между диагоналями  $BD_1$  и  $CA_1$ . Ответ дайте в градусах.

29. Сторона основания правильной треугольной призмы  $ABCA_1 B_1 C_1$  равна 3, а высота этой призмы равна  $4\sqrt{3}$ . Найдите объём призмы  $ABCA_1 B_1 C_1$ .

