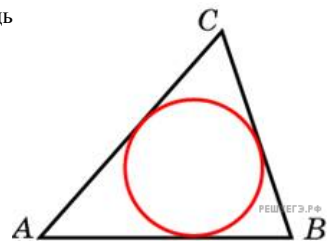
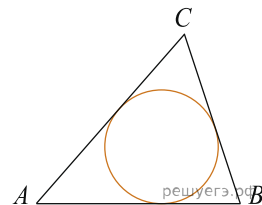


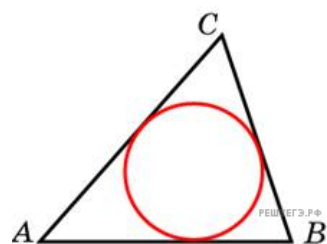
1. Периметр треугольника равен 12, а радиус вписанной окружности равен 1. Найдите площадь этого треугольника.



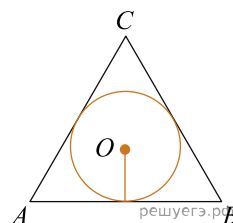
2. Площадь треугольника равна 24, а радиус вписанной окружности равен 2. Найдите периметр этого треугольника.



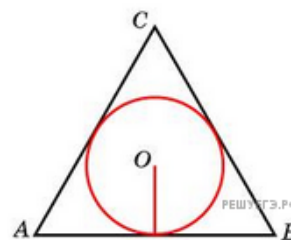
3. Площадь треугольника равна 54, а его периметр 36. Найдите радиус вписанной окружности.



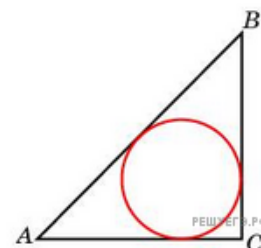
4. Сторона правильного треугольника равна  $\sqrt{3}$ . Найдите радиус окружности, вписанной в этот треугольник.



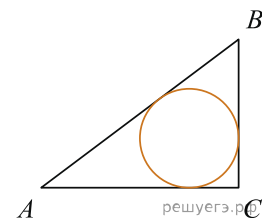
5. Радиус окружности, вписанной в правильный треугольник, равен  $\frac{\sqrt{3}}{6}$ . Найдите сторону этого треугольника.



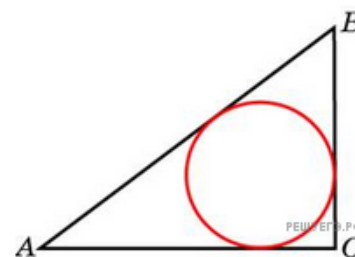
6. Радиус окружности, вписанной в равнобедренный прямоугольный треугольник, равен 2. Найдите гипотенузу  $c$  этого треугольника. В ответе укажите  $c(\sqrt{2} - 1)$ .



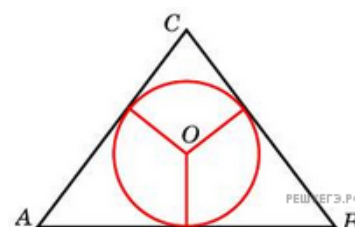
7. Катеты равнобедренного прямоугольного треугольника равны  $2 + \sqrt{2}$ . Найдите радиус окружности, вписанной в этот треугольник.



8. В треугольнике  $ABC$   $AC = 4$ ,  $BC = 3$ , угол  $C$  равен  $90^\circ$ . Найдите радиус вписанной окружности.



9. Боковые стороны равнобедренного треугольника равны 5, основание равно 6. Найдите радиус вписанной окружности.



10.

Найдите радиус окружности, вписанной в треугольник  $ABC$ , считая стороны квадратных клеток равными 1.

