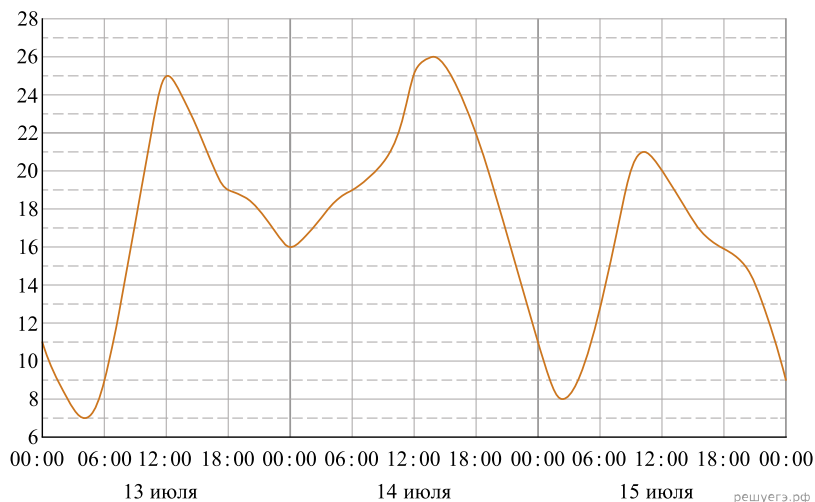
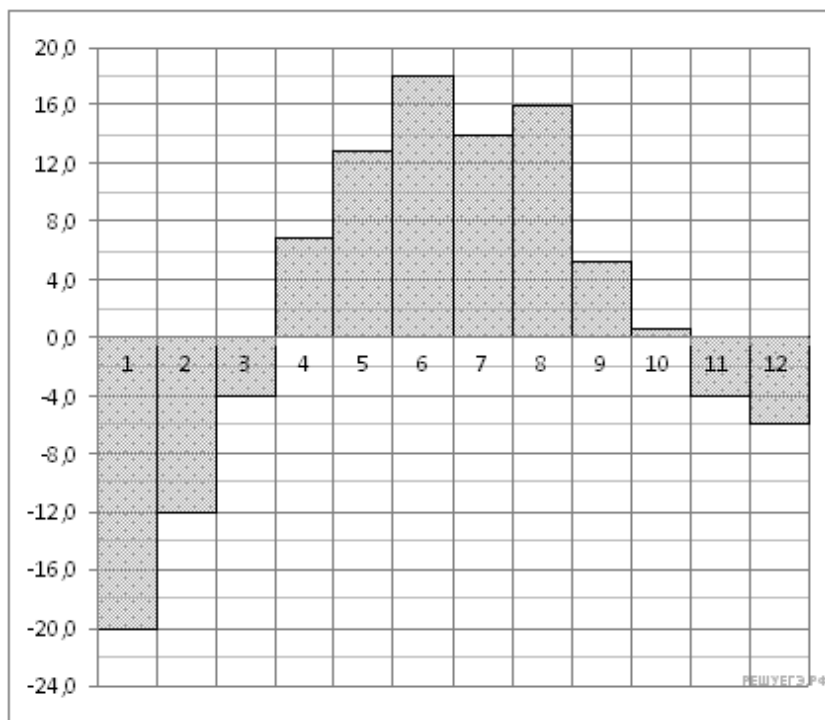


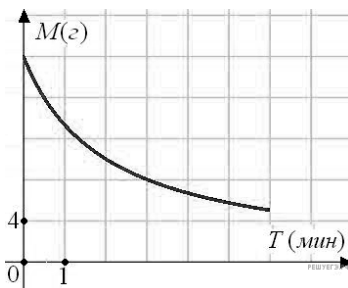
1. На рисунке показано изменение температуры воздуха на протяжении трех суток. По горизонтали указывается дата и время суток, по вертикали — значение температуры в градусах Цельсия. Определите по рисунку разность между наибольшей и наименьшей температурой воздуха 15 июля. Ответ дайте в градусах Цельсия.



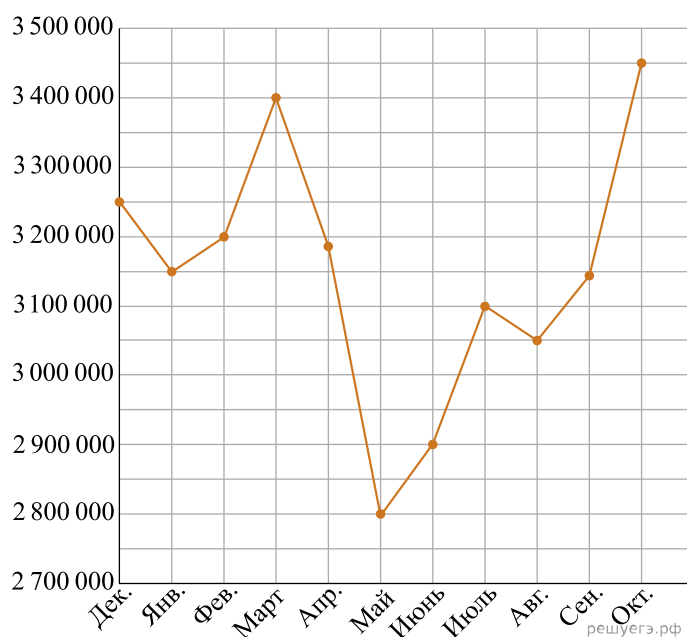
2. На диаграмме показана среднемесячная температура воздуха в Екатеринбурге (Свердловске) за каждый месяц 1973 года. По горизонтали указываются месяцы, по вертикали — температура в градусах Цельсия. Определите по диаграмме разность между наибольшей и наименьшей среднемесячными температурами в 1973 году. Ответ дайте в градусах Цельсия.



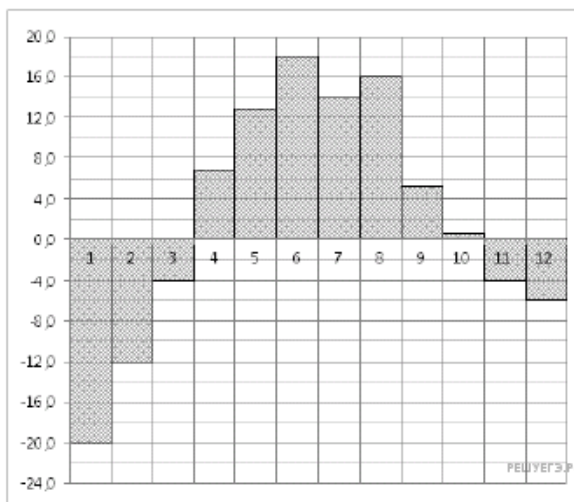
3. В ходе химической реакции количество исходного вещества (реагента), которое еще не вступило в реакцию, со временем постепенно уменьшается. На рисунке эта зависимость представлена графиком. На оси абсцисс откладывается время в минутах, прошедшее с момента начала реакции, на оси ординат – масса оставшегося реагента, который еще не вступил в реакцию (в граммах). Определите по графику, сколько граммов реагента вступило в реакцию за три минуты?



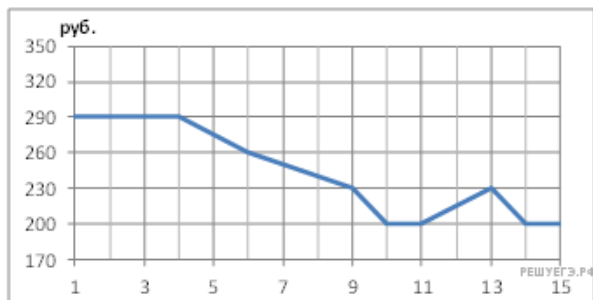
4. На рисунке точками показана аудитория поискового сайта Ya.ru во все месяцы с декабря 2008 по октябрь 2009 года. По горизонтали указываются месяцы, по вертикали — количество посетителей сайта хотя бы раз в данном месяце. Для наглядности точки на рисунке соединены линией. Определите по рисунку разность между наибольшей и наименьшей аудиторией сайта Ya.ru в указанный период.



5. На диаграмме показана среднемесячная температура воздуха в Екатеринбурге (Свердловске) за каждый месяц 1973 года. По горизонтали указываются месяцы, по вертикали — температура в градусах Цельсия. Определите по диаграмме, на сколько градусов Цельсия март был в среднем холоднее августа.



6. На рисунке показано изменение биржевой стоимости акций целлюлозно-бумажного завода в первой половине апреля. 2 апреля бизнесмен приобрёл 250 акций этого завода. 6 апреля он продал 150 акций, а оставшиеся акции продал 11 апреля. Сколько рублей потерял бизнесмен в результате этих операций?



7. На рисунке показано изменение биржевой стоимости акций горно-обогатительного комбината во второй половине октября. 18 октября бизнесмен приобрёл 480 акций этого комбината. Треть своих акций он продал 25 октября, а оставшиеся акции — 27 октября. Сколько рублей приобрёл бизнесмен в результате этих операций?

