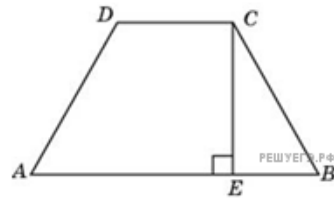
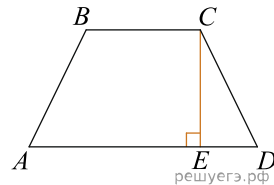


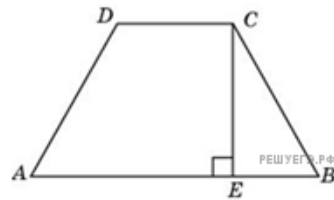
1. Основания равнобедренной трапеции равны 51 и 65. Боковые стороны равны 25. Найдите синус острого угла трапеции.



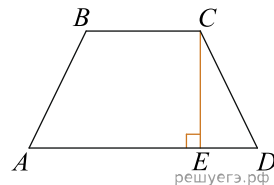
2. Основания равнобедренной трапеции равны 43 и 73. Косинус острого угла трапеции равен  $\frac{5}{7}$ . Найдите боковую сторону.



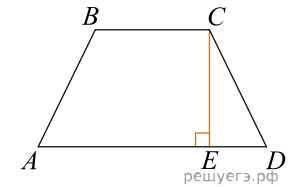
3. Большее основание равнобедренной трапеции равно 34. Боковая сторона равна 14. Синус острого угла равен  $\frac{2\sqrt{10}}{7}$ . Найдите меньшее основание.



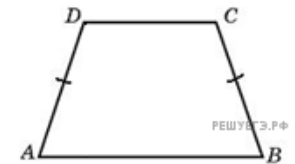
4. Основания равнобедренной трапеции равны 7 и 51. Тангенс острого угла равен  $\frac{5}{11}$ . Найдите высоту трапеции.



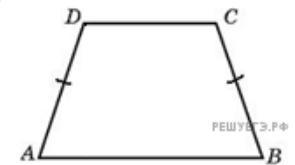
5. Меньшее основание равнобедренной трапеции равно 23. Высота трапеции равна 39. Тангенс острого угла равен  $\frac{13}{8}$ . Найдите большее основание.



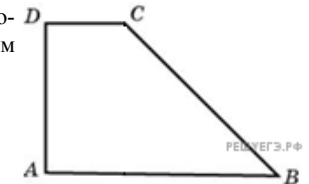
6. Основания равнобедренной трапеции равны 14 и 26, а ее периметр равен 60. Найдите площадь трапеции.



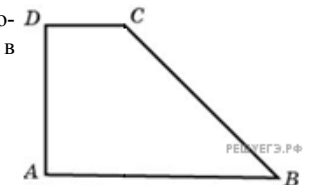
7. Основания равнобедренной трапеции равны 7 и 13, а ее площадь равна 40. Найдите периметр трапеции.



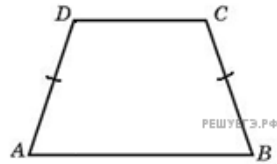
8. Найдите площадь прямоугольной трапеции, основания которой равны 6 и 2, большая боковая сторона составляет с основанием угол  $45^\circ$ .



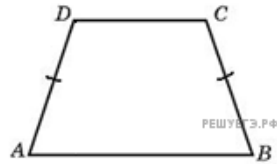
9. Основания прямоугольной трапеции равны 12 и 4. Ее площадь равна 64. Найдите острый угол этой трапеции. Ответ дайте в градусах.




10. Основания равнобедренной трапеции равны 14 и 26, а ее боковые стороны равны 10. Найдите площадь трапеции.



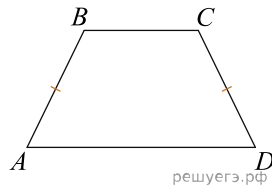
11. Основания равнобедренной трапеции равны 7 и 13, а ее площадь равна 40. Найдите боковую сторону трапеции.



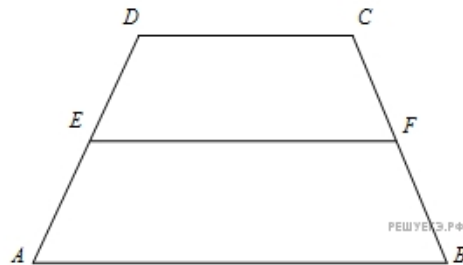
12. Основания трапеции равны 27 и 9, боковая сторона равна 8. Площадь трапеции равна 72. Найдите острый угол трапеции, прилежащий к данной боковой стороне. Ответ выразите в градусах.



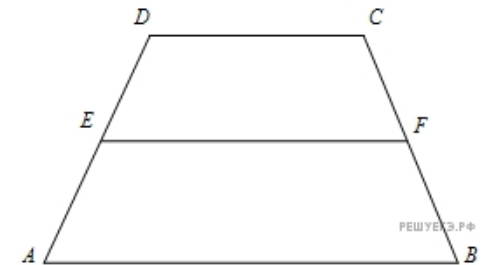
13. Чему равен больший угол равнобедренной трапеции, если известно, что разность противоположных углов равна  $50^\circ$ ? Ответ дайте в градусах.



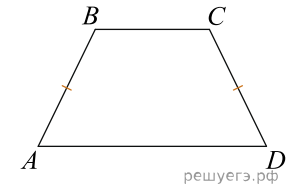
14. Найдите среднюю линию трапеции, если ее основания равны 30 и 16.



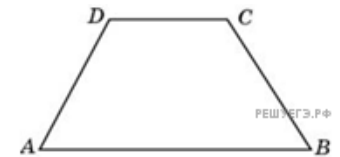
15. Средняя линия трапеции равна 28, а меньшее основание равно 18. Найдите большее основание трапеции.



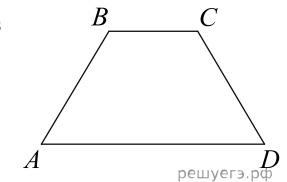
16. В равнобедренной трапеции большее основание равно 25, боковая сторона равна 10, угол между ними  $60^\circ$ . Найдите меньшее основание.



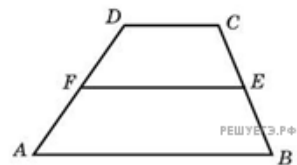
17. В равнобедренной трапеции основания равны 12 и 27, острый угол равен  $60^\circ$ . Найдите ее периметр.



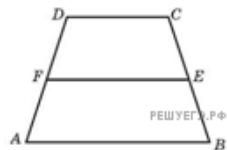
18. Основания равнобедренной трапеции равны 15 и 9, один из углов равен  $45^\circ$ . Найдите высоту трапеции.



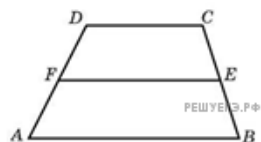
19. Основания трапеции относятся как  $2:3$ , а средняя линия равна 5. Найдите меньшее основание.



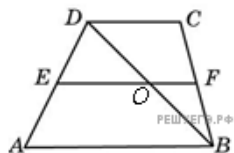
20. Периметр равнобедренной трапеции равен 80, ее средняя линия равна боковой стороне. Найдите боковую сторону трапеции.



21. Средняя линия трапеции равна 7, а одно из ее оснований больше другого на 4. Найдите большее основание трапеции.



22. Средняя линия трапеции равна 12. Одна из диагоналей делит ее на два отрезка, разность которых равна 2. Найдите большее основание трапеции.



23. Основания трапеции равны 3 и 2. Найдите отрезок, соединяющий середины диагоналей трапеции.

