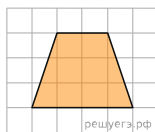
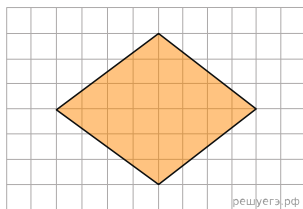


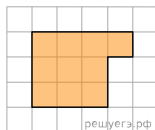
1. План местности разбит на клетки. Каждая клетка обозначает квадрат $10\text{ м} \times 10\text{ м}$. Найдите площадь участка, изображённого на плане. Ответ дайте в м^2 .



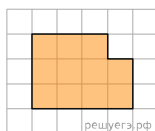
2. План местности разбит на клетки. Каждая клетка обозначает квадрат $10\text{ м} \times 10\text{ м}$. Найдите площадь участка, изображённого на плане. Ответ дайте в м^2 .



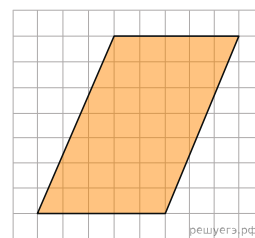
3. План местности разбит на клетки. Каждая клетка обозначает квадрат $1\text{ м} \times 1\text{ м}$. Найдите площадь участка, выделенного на плане. Ответ дайте в квадратных метрах.



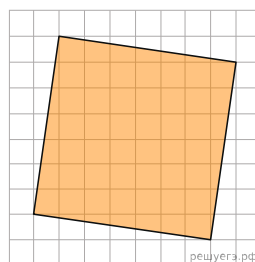
4. План местности разбит на клетки. Каждая клетка обозначает квадрат $1\text{ м} \times 1\text{ м}$. Найдите площадь участка, выделенного на плане. Ответ дайте в квадратных метрах.



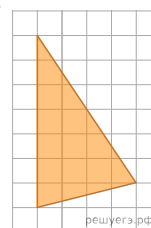
5. План местности разбит на клетки. Каждая клетка является квадратом размером $1\text{ м} \times 1\text{ м}$. Найдите площадь участка, изображённого на плане. Ответ дайте в квадратных метрах.



6. План местности разбит на клетки. Каждая клетка обозначает квадрат $1\text{ м} \times 1\text{ м}$. Найдите площадь участка, выделенного на плане. Ответ дайте в квадратных метрах.



7. План местности разбит на клетки. Каждая клетка обозначает квадрат $1\text{ м} \times 1\text{ м}$. Найдите площадь участка, выделенного на плане. Ответ дайте в квадратных метрах.



8. План местности разбит на клетки. Каждая клетка обозначает квадрат $1\text{ м} \times 1\text{ м}$. Найдите площадь участка, выделенного на плане. Ответ дайте в квадратных метрах.

