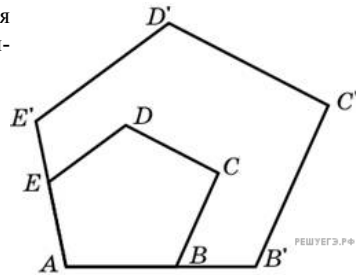
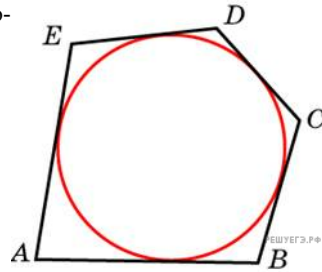


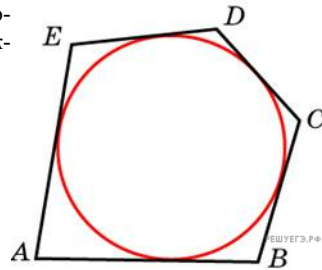
1. Периметры двух подобных многоугольников относятся как 3 : 5. Площадь меньшего многоугольника равна 18. Найдите площадь большего многоугольника.



2. Около окружности, радиус которой равен 3, описан многоугольник, площадь которого равна 33. Найдите его периметр.



3. Около окружности описан многоугольник, площадь которого равна 5. Его периметр равен 10. Найдите радиус этой окружности.



4. Сумма трёх углов выпуклого четырёхугольника равна 322° . Найдите его четвёртый угол. Ответ дайте в градусах.

