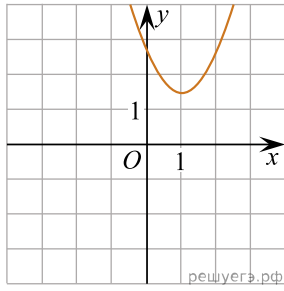
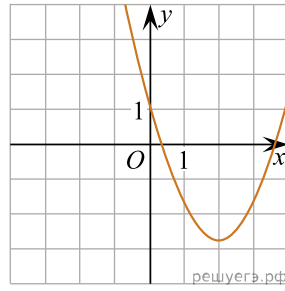


1. Установите соответствие между графиками функций и графиками их производных.

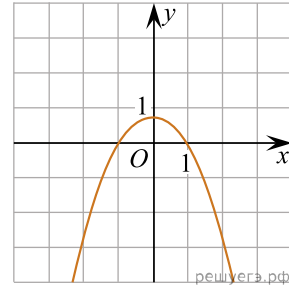
ГРАФИКИ ФУНКЦИЙ



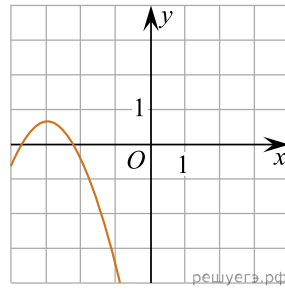
А)



Б)

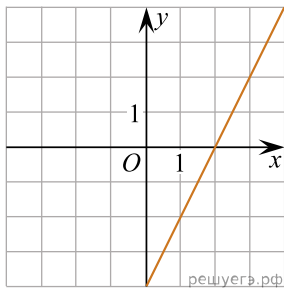


В)

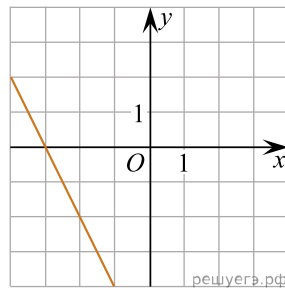


Г)

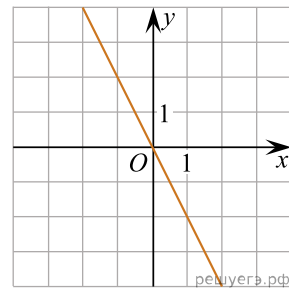
ГРАФИКИ ПРОИЗВОДНЫХ



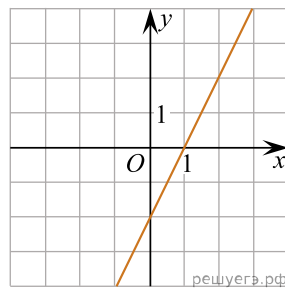
1)



2)



3)



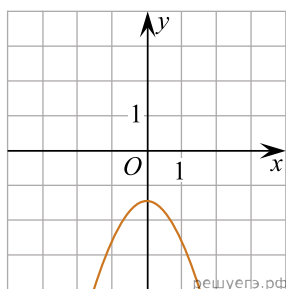
4)

Запишите в ответ цифры, расположив их в порядке, соответствующем буквам:

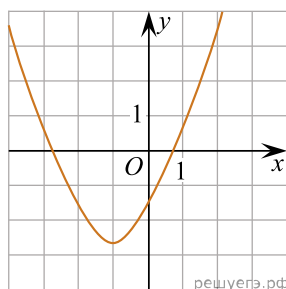
А	Б	В	Г

2. Установите соответствие между графиками функций и графиками их производных.

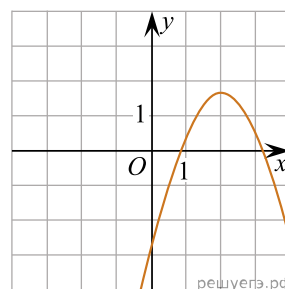
ГРАФИКИ ФУНКЦИЙ



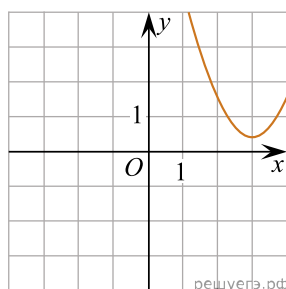
A)



Б)

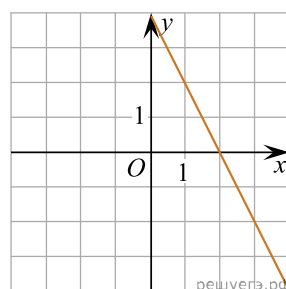


В)

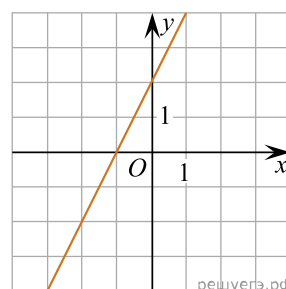


Г)

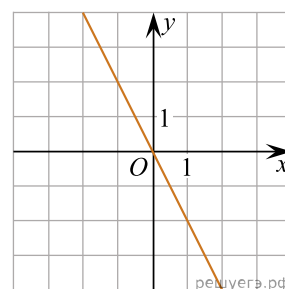
ГРАФИКИ ПРОИЗВОДНЫХ



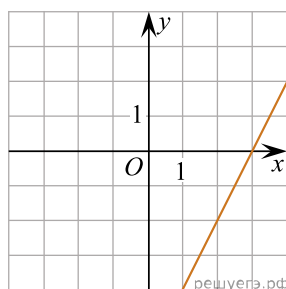
1)



2)



3)



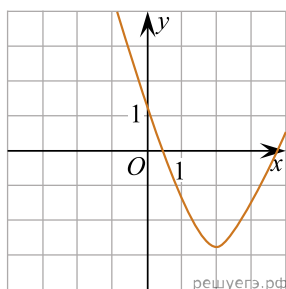
4)

Запишите в ответ цифры, расположив их в порядке, соответствующем буквам:

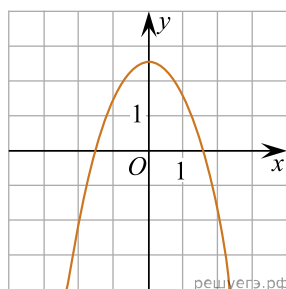
А	Б	В	Г

3. Установите соответствие между графиками функций и графиками их производных.

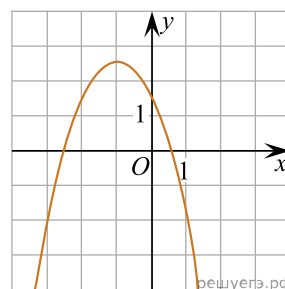
ГРАФИКИ ФУНКЦИЙ



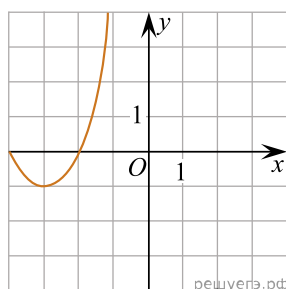
A)



Б)

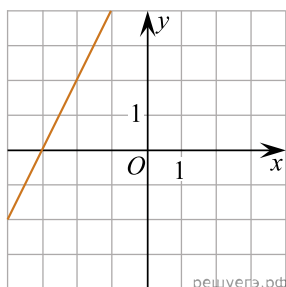


В)

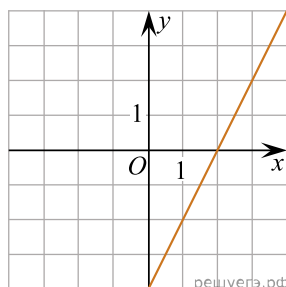


Г)

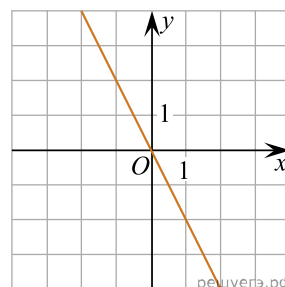
ГРАФИКИ ПРОИЗВОДНЫХ



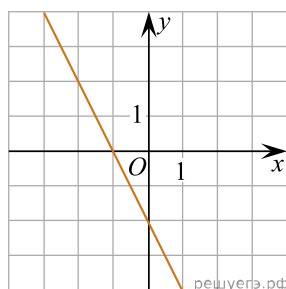
1)



2)



3)



4)

Запишите в ответ цифры, расположив их в порядке, соответствующем буквам:

А	Б	В	Г