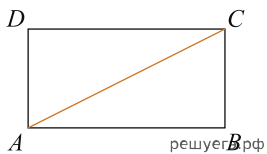
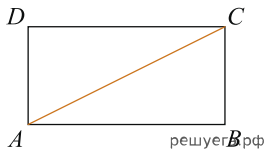


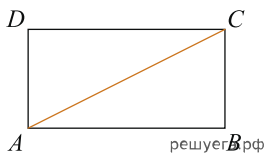
1. Площадь прямоугольника равна 660, а одна из сторон равна 11. Найдите длину диагонали этого прямоугольника.



2. Площадь прямоугольника равна 300, а одна из сторон равна 20. Найдите длину диагонали этого прямоугольника.



3. Площадь прямоугольника равна 12, а одна из сторон равна 4. Найдите длину диагонали этого прямоугольника.



4. Площадь прямоугольника равна 60, а одна из сторон равна 5. Найдите длину диагонали этого прямоугольника.

