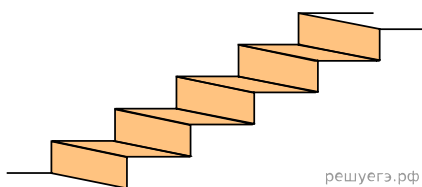
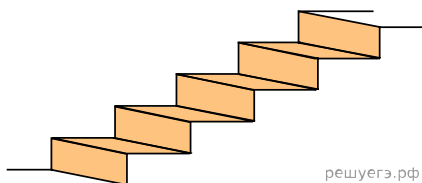


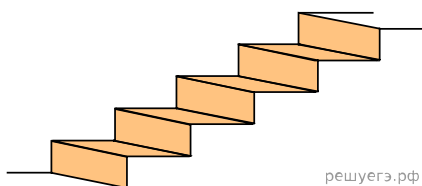
1. Пять ступеней лестницы покрасили, как показано на рисунке. Найдите площадь окрашенной поверхности, если глубина каждой ступеньки равна 40 см, высота — 15 см, а ширина — 90 см. Ответ дайте в квадратных сантиметрах.



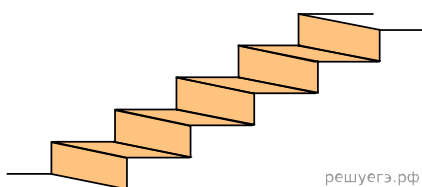
2. Пять ступеней лестницы покрасили, как показано на рисунке. Найдите площадь окрашенной поверхности, если глубина каждой ступеньки равна 30 см, высота — 15 см, а ширина — 90 см. Ответ дайте в квадратных сантиметрах.



3. Пять ступеней лестницы покрасили, как показано на рисунке. Найдите площадь окрашенной поверхности, если глубина каждой ступеньки равна 25 см, высота — 15 см, а ширина — 80 см. Ответ дайте в квадратных сантиметрах.



4. Пять ступеней лестницы покрасили, как показано на рисунке. Найдите площадь окрашенной поверхности, если глубина каждой ступеньки равна 35 см, высота — 15 см, а ширина — 80 см. Ответ дайте в квадратных сантиметрах.



5. Пять ступеней лестницы покрасили, как показано на рисунке. Найдите площадь окрашенной поверхности, если глубина каждой ступеньки равна 35 см, высота — 20 см, а ширина — 90 см. Ответ дайте в квадратных сантиметрах.

