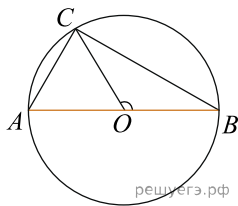
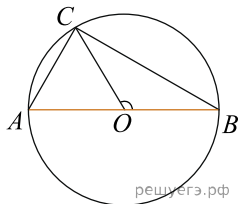


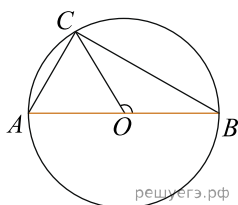
1. В окружности с центром O проведён диаметр AB , и на окружности взята точка C так, что угол COB равен 120° , $AC = 50$. Найдите диаметр окружности.



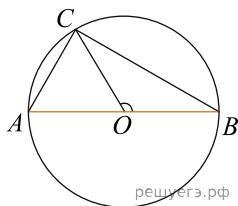
2. В окружности с центром O проведён диаметр AB и на окружности взята точка C так, что угол COB равен 120° , $AC = 34$. Найдите диаметр окружности.



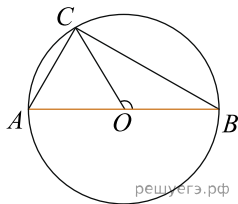
3. В окружности с центром O проведён диаметр AB и на окружности взята точка C так, что угол COB равен 120° , $AC = 30$. Найдите диаметр окружности.



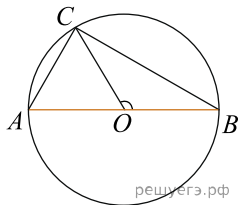
4. В окружности с центром O проведён диаметр AB и на окружности взята точка C так, что угол COB равен 120° , $AC = 11$. Найдите диаметр окружности.



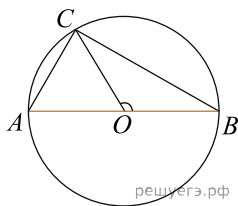
5. В окружности с центром O проведён диаметр AB и на окружности взята точка C так, что угол COB равен 120° , $AC = 53$. Найдите диаметр окружности.



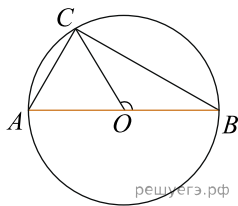
6. В окружности с центром O проведён диаметр AB и на окружности взята точка C так, что угол COB равен 120° , $AC = 23$. Найдите диаметр окружности.



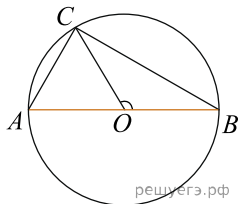
7. В окружности с центром O проведён диаметр AB и на окружности взята точка C так, что угол COB равен 120° , $AC = 12$. Найдите диаметр окружности.



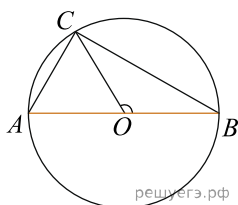
8. В окружности с центром O проведён диаметр AB и на окружности взята точка C так, что угол COB равен 120° , $AC = 8$. Найдите диаметр окружности.



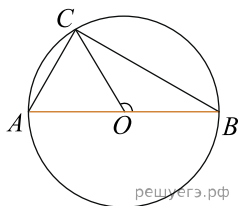
9. На окружности с центром O и диаметром AB отмечена точка C так, что угол COB равен 120° , $AC = 26$. Найдите диаметр окружности.



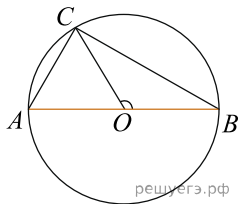
10. На окружности с центром O и диаметром AB отмечена точка C так, что угол COB равен 120° , $AC = 27$. Найдите диаметр окружности.



11. На окружности с центром O и диаметром AB отмечена точка C так, что угол COB равен 120° , $AC = 18$. Найдите диаметр окружности.



12. На окружности с центром O и диаметром AB отмечена точка C так, что угол COB равен 120° , $AC = 35$. Найдите диаметр окружности.



13. В окружности с центром O проведён диаметр AB и на окружности взята точка C так, что угол COB равен 120° , $AC = 19$. Найдите диаметр окружности.

