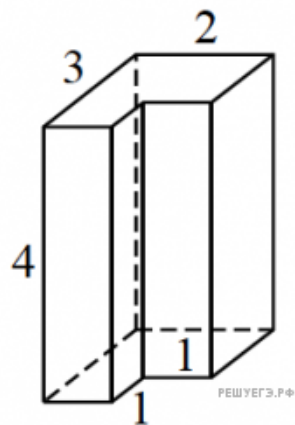
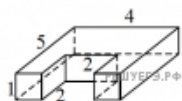


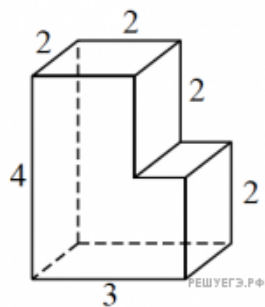
1. На рисунке изображён многогранник (все двугранные углы прямые). Сколько вершин у этого многогранника?



2. На рисунке изображён многогранник (все двугранные углы прямые). Сколько вершин у этого многогранника?



3. На рисунке изображён многогранник (все двугранные углы прямые). Сколько вершин у этого многогранника?



4. На рисунке изображён многогранник (все двугранные углы прямые). Сколько вершин у этого многогранника?

