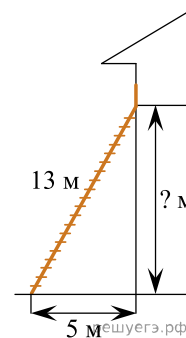
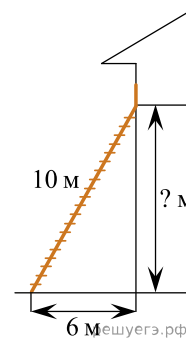


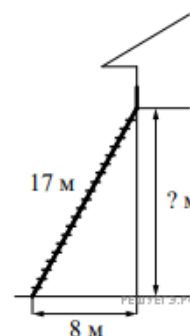
1. Пожарную лестницу длиной 13 м приставили к окну дома (см. рис.). Нижний конец лестницы отстоит от стены дома на 5 м. На какой высоте расположено окно? Ответ дайте в метрах.



2. Пожарную лестницу длиной 10 м приставили к окну дома. Нижний конец лестницы отстоит от стены на 6 м. На какой высоте находится верхний конец лестницы? Ответ дайте в метрах.



3. Пожарную лестницу длиной 17 м приставили к окну дома. Нижний конец лестницы отстоит от стены на 8 м. На какой высоте находится верхний конец лестницы? Ответ дайте в метрах.



4. Пожарную лестницу длиной 13 м приставили к окну дома. Нижний конец лестницы отстоит от стены на 5 м. На какой высоте находится верхний конец лестницы? Ответ дайте в метрах.

