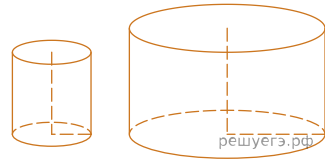
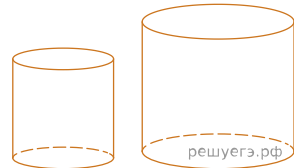


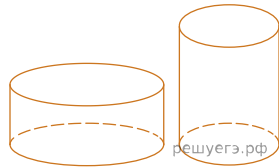
1. Даны два цилиндра. Радиус основания и высота первого равны соответственно 2 и 6, а второго — 6 и 7. Во сколько раз объём второго цилиндра больше объёма первого?



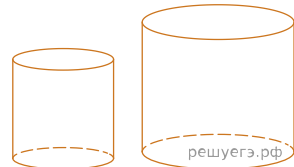
2. Даны два цилиндра. Радиус основания и высота первого равны соответственно 3 и 2, а второго — 8 и 9. Во сколько раз объём второго цилиндра больше объёма первого?



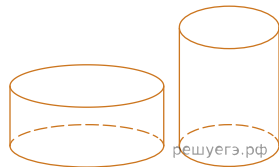
3. Даны два цилиндра. Радиус основания и высота первого равны соответственно 9 и 8, а второго — 4 и 9. Во сколько раз объём первого цилиндра больше объёма второго?



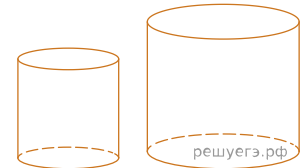
4. Даны два цилиндра. Радиус основания и высота первого равны соответственно 4 и 1, а второго — 6 и 4. Во сколько раз объём второго цилиндра больше объёма первого?



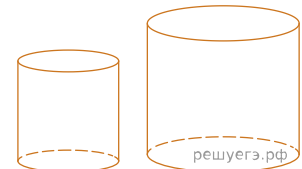
5. Даны два цилиндра. Радиус основания и высота первого равны соответственно 9 и 3, а второго — 3 и 9. Во сколько раз объём первого цилиндра больше объёма второго?



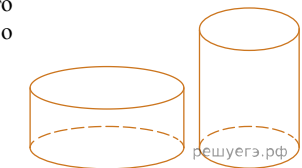
6. Даны два цилиндра. Радиус основания и высота первого равны соответственно 2 и 3, а второго — 8 и 3. Во сколько раз объём второго цилиндра больше объёма первого?



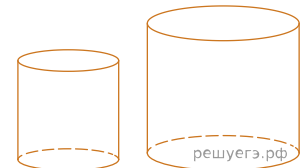
7. Даны два цилиндра. Радиус основания и высота первого цилиндра равны соответственно 6 и 9, а второго — 9 и 2. Во сколько раз объём первого цилиндра больше объёма второго?



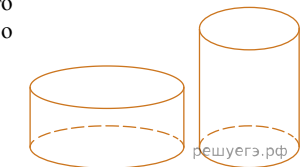
8. Даны два цилиндра. Радиус основания и высота первого цилиндра равны соответственно 9 и 3, а второго — 3 и 9. Во сколько раз объём первого цилиндра больше объёма второго?



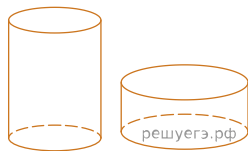
9. Даны два цилиндра. Радиус основания и высота первого цилиндра равны соответственно 4 и 1, а второго — 6 и 4. Во сколько раз объём второго цилиндра больше объёма первого?



10. Даны два цилиндра. Радиус основания и высота первого цилиндра равны соответственно 6 и 5, а второго — 2 и 6. Во сколько раз объём первого цилиндра больше объёма второго?



11. Даны два цилиндра. Радиус основания и высота первого цилиндра равны соответственно 2 и 6, а второго — 6 и 4. Во сколько раз объём второго цилиндра больше объёма первого?



12. Даны два цилиндра. Радиус основания и высота первого равны соответственно 4 и 10, а второго — 5 и 4. Во сколько раз объём первого цилиндра больше объёма второго?

