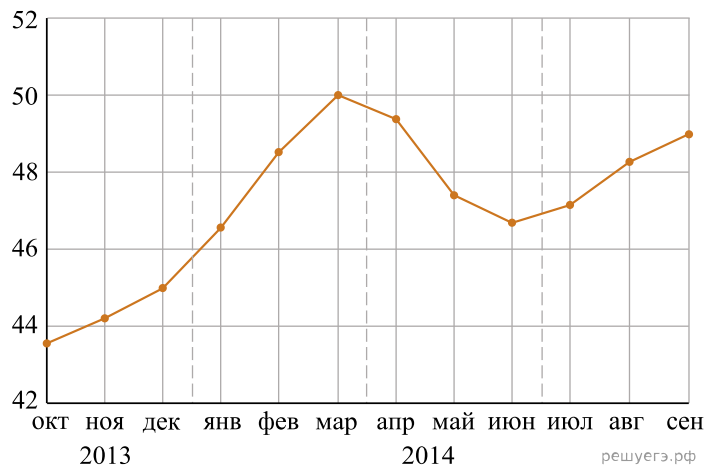


1. На рисунке точками изображён среднемесячный курс евро в период с октября 2013 года по сентябрь 2014 года. По горизонтали указываются месяц и год, по вертикали — курс евро в рублях. Для наглядности точки соединены линиями.



Пользуясь рисунком, поставьте в соответствие каждому из указанных периодов времени характеристику курса евро.

ПЕРИОДЫ ВРЕМЕНИ

- А) октябрь — декабрь 2013 г.
- Б) январь — март 2014 г.
- В) апрель — июнь 2014 г.
- Г) июль — сентябрь 2014 г.

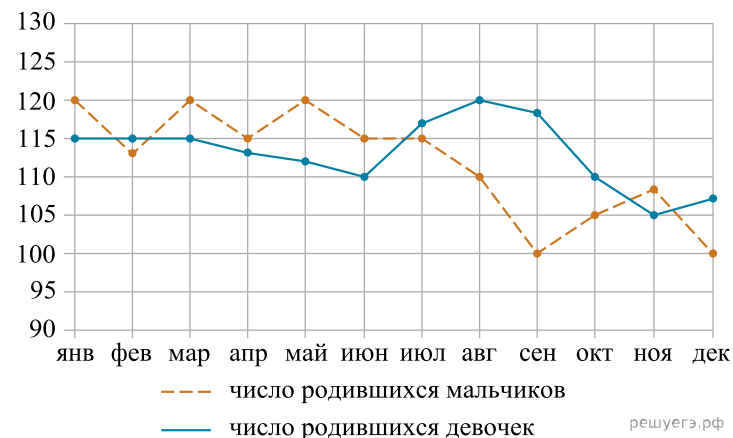
ХАРАКТЕРИСТИКИ КУРСА ЕВРО

- 1) курс евро падал
- 2) курс евро медленно рос
- 3) после падения курс евро начал расти
- 4) курс евро достиг максимума

В таблице под каждой буквой укажите соответствующий номер.

А	Б	В	Г

2. На рисунке точками изображено число мальчиков и девочек (по отдельности), родившихся в городском роддоме за каждый календарный месяц 2013 года. По горизонтали указываются месяцы, по вертикали — число рождений. Для наглядности точки соединены линиями.



ПЕРИОДЫ ВРЕМЕНИ

- А) январь — март
- Б) апрель — июнь
- В) июль — сентябрь
- Г) октябрь — декабрь

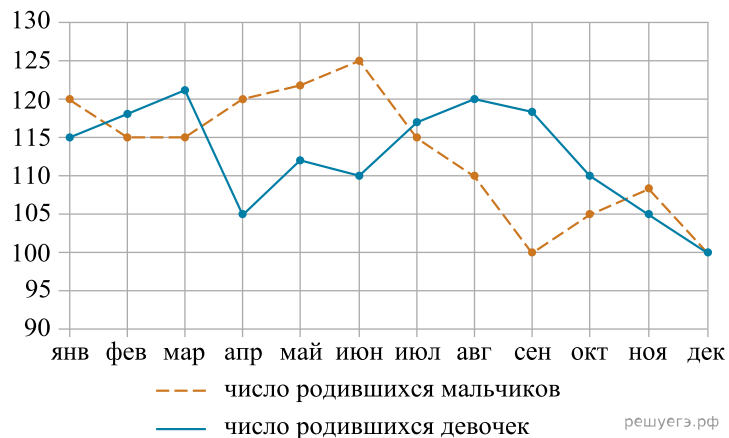
ХАРАКТЕРИСТИКИ

- 1) В каждый месяц этого периода число рождений девочек и мальчиков различалось не более чем на 5.
- 2) В один из месяцев этого периода число рождений мальчиков и девочек различалось более чем на 10.
- 3) В каждом месяце этого периода мальчиков рождалось больше, чем девочек.
- 4) Рождаемость девочек достигла минимума за весь год.

В таблице под каждой буквой укажите соответствующий номер.

А	Б	В	Г

3. На рисунке точками изображено число родившихся в городском роддоме мальчиков и девочек (по отдельности) за каждый календарный месяц 2013 года. По горизонтали указываются месяцы, по вертикали — число рождений. Для наглядности точки соединены ломаными линиями.



Пользуясь рисунком, поставьте в соответствие каждому из указанных периодов времени характеристику рождаемости в этот период.

ПЕРИОДЫ ВРЕМЕНИ

- А) январь – март
- Б) апрель – июнь
- В) июль – сентябрь
- Г) октябрь – декабрь

ХАРАКТЕРИСТИКИ

- 1) Рождаемость мальчиков в течение второго и третьего месяцев этого периода была одинаковой.
- 2) В течение этого периода рождаемость девочек только снижалась.
- 3) В каждом месяце этого периода девочек рождалось больше, чем мальчиков.
- 4) В каждом месяце этого периода мальчиков рождалось больше, чем девочек.

В таблице под каждой буквой укажите соответствующий номер.

А	Б	В	Г