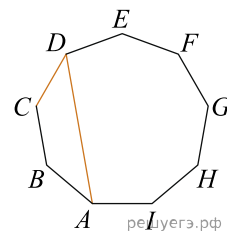
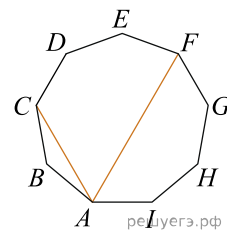


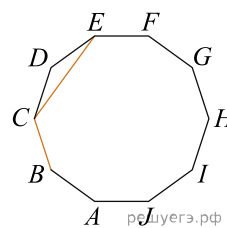
1. $ABCDEFGHI$ — правильный девятиугольник. Найдите угол ADC . Ответ дайте в градусах.



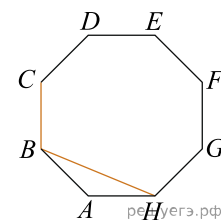
2. $ABCDEFGHI$ — правильный девятиугольник. Найдите угол CAF . Ответ дайте в градусах.



3. $ABCDEFGHIJ$ — правильный десятиугольник. Найдите угол BCE . Ответ дайте в градусах.



4. $ABCDEFGH$ — правильный восьмиугольник. Найдите угол CBH . Ответ дайте в градусах.



5. $ABCDEFGH$ — правильный восьмиугольник. Найдите угол DBE . Ответ дайте в градусах.

