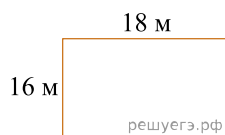


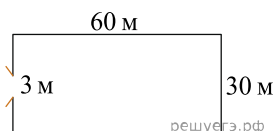
1. Участок земли имеет прямоугольную форму. Стороны прямоугольника 25 м и 70 м. Найдите длину забора (в метрах), которым нужно огородить участок, если в заборе нужно предусмотреть ворота шириной 4 м.



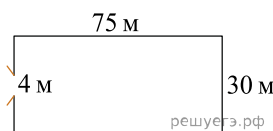
2. Строители огораживают место для проведения работ забором. Забор имеет форму прямоугольника со сторонами 18 м и 16 м. Причём необходимо оставить проёмы в заборе для проезда машин. Проездов четыре, каждый шириной 2 м. Найдите общую длину забора.



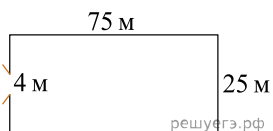
3. Участок земли имеет прямоугольную форму. Стороны прямоугольника 30 м и 60 м. Найдите длину забора (в метрах), которым нужно огородить участок, если в заборе нужно предусмотреть ворота шириной 3 м.



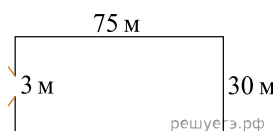
4. Участок земли имеет прямоугольную форму. Стороны прямоугольника равны 30 м и 75 м. Найдите длину забора (в метрах), которым нужно огородить участок, если в заборе предусмотрен проезд шириной 4 м.



5. Участок земли имеет прямоугольную форму. Стороны прямоугольника равны 25 м и 75 м. Найдите длину забора, которым нужно огородить участок, предусмотрев проезд шириной 4 м. Ответ дайте в метрах.



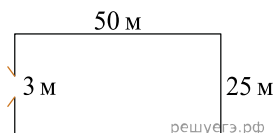
6. Участок земли имеет прямоугольную форму. Стороны прямоугольника равны 30 м и 75 м. Найдите длину забора, которым нужно огородить участок, предусмотрев проезд шириной 3 м. Ответ дайте в метрах.



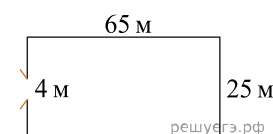
7. Участок земли имеет прямоугольную форму. Стороны прямоугольника равны 35 м и 60 м. Найдите длину забора, которым нужно огородить участок, предусмотрев проезд шириной 4 м. Ответ дайте в метрах.



8. Участок земли имеет прямоугольную форму. Стороны прямоугольника равны 25 м и 50 м. Найдите длину забора, которым нужно огородить участок, предусмотрев проезд шириной 3 м. Ответ дайте в метрах.



9. Участок земли имеет прямоугольную форму. Стороны прямоугольника равны 25 м и 65 м. Найдите длину забора (в метрах), которым нужно огородить участок, предусмотрев проезд шириной 4 м.



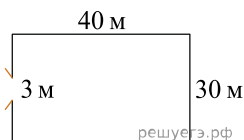
10. Участок земли имеет прямоугольную форму. Стороны прямоугольника равны 35 м и 70 м. Найдите длину забора (в метрах), которым нужно огородить участок, предусмотрев проезд шириной 4 м.



11. Участок земли имеет прямоугольную форму. Стороны прямоугольника равны 40 м и 55 м. Найдите длину забора (в метрах), которым нужно огородить участок, предусмотрев проезд шириной 3 м.



12. Участок земли имеет прямоугольную форму. Стороны прямоугольника равны 30 м и 40 м. Найдите длину забора (в метрах), которым нужно огородить участок, предусмотрев проезд шириной 3 м.



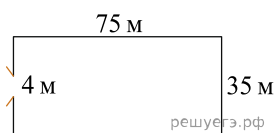
13. Участок земли имеет прямоугольную форму. Стороны прямоугольника 30 м и 65 м. Найдите длину забора (в метрах), которым нужно огородить участок, если в заборе нужно предусмотреть ворота шириной 4 м.



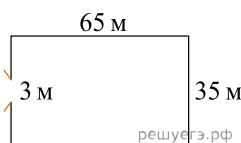
14. Участок земли имеет прямоугольную форму. Стороны прямоугольника равны 30 м и 45 м. Найдите длину забора (в метрах), которым нужно огородить участок, предусмотрев проезд шириной 3 м.



15. Участок земли имеет прямоугольную форму. Стороны прямоугольника равны 35 м и 75 м. Найдите длину забора (в метрах), которым нужно огородить участок, предусмотрев проезд шириной 4 м.



16. Участок земли имеет прямоугольную форму. Стороны прямоугольника равны 35 м и 65 м. Найдите длину забора (в метрах), которым нужно огородить участок, предусмотрев проезд шириной 3 м.



17. Участок земли имеет прямоугольную форму. Стороны прямоугольника равны 40 м и 50 м. Найдите длину забора (в метрах), которым нужно огородить участок, предусмотрев проезд шириной 3 м.

