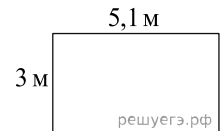
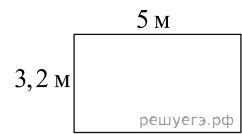


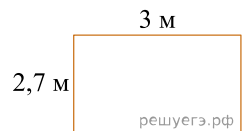
1. На плане указано, что прямоугольная комната имеет площадь 15,2 кв. м. Точные измерения показали, что ширина комнаты равна 3 м, а длина 5,1 м. На сколько квадратных метров площадь комнаты отличается от значения, указанного в плане?



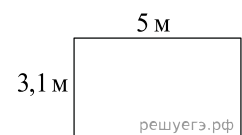
2. На плане указано, что прямоугольная комната имеет площадь 15,7 кв. м. Точные измерения показали, что ширина комнаты равна 3,2 м, а длина 5 м. На сколько квадратных метров площадь комнаты отличается от значения, указанного в плане?



3. В плане указано, что прямоугольная кухня имеет площадь 7,8 м². Точные измерения показали, что ширина кухни равна 2,7 м, а длина 3 м. На сколько квадратных метров отличаются площади кухни на плане и в реальности?



4. На плане указано, что прямоугольная комната имеет площадь 15,3 кв. м. Точные измерения показали, что ширина комнаты равна 3,1 м, а длина 5 м. На сколько квадратных метров площадь комнаты отличается от значения, указанного на плане?



5. На плане указано, что прямоугольная комната имеет площадь 20 кв. м. Точные измерения показали, что ширина комнаты равна 4,1 м, а длина 5 м. На сколько квадратных метров площадь комнаты отличается от значения, указанного на плане?

