



1. Даны две кружки цилиндрической формы. Первая кружка в полтора раза ниже второй, а вторая вдвое шире первой. Во сколько раз объём второй кружки больше объёма первой?



2.

Одна цилиндрическая кружка вдвое выше второй, зато вторая в полтора раза шире. Найдите отношение объёма второй кружки к объёму первой.




3. Даны две кружки цилиндрической формы. Первая кружка вдвое выше второй, а вторая в четыре раза шире первой. Во сколько раз объём второй кружки больше объёма первой?




4. Даны две кружки цилиндрической формы. Первая кружка вдвое выше второй, а вторая в четыре раза шире первой. Во сколько раз объём второй кружки больше объёма первой?




5. Даны две кружки цилиндрической формы. Первая кружка в четыре раза ниже второй, а вторая в полтора раза шире первой. Во сколько раз объём первой кружки меньше объёма второй?




6. Даны две кружки цилиндрической формы. Первая кружка в четыре раза ниже второй, а вторая в полтора раза шире первой. Во сколько раз объём первой кружки меньше объёма второй?




7. Две кружки имеют форму цилиндра. Первая кружка в полтора раза ниже второй, а вторая вдвое шире первой. Во сколько раз объём первой кружки меньше объёма второй?




8. Две кружки имеют форму цилиндра. Первая кружка в полтора раза ниже второй, а вторая втрое уже первой. Во сколько раз объём первой кружки больше объёма второй?



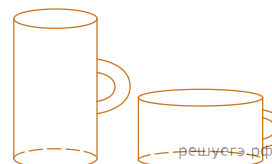
9. Даны две кружки цилиндрической формы. Первая кружка в четыре с половиной раза выше второй, а вторая в полтора раза шире первой. Во сколько раз объём второй кружки меньше объёма первой?




10. Даны две кружки цилиндрической формы. Первая кружка в полтора раза ниже второй, а вторая втрое уже первой. Во сколько раз объём первой кружки больше объёма второй?



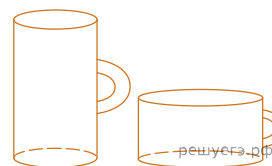
11. Даны две кружки цилиндрической формы. Первая кружка в четыре с половиной раза выше второй, а вторая в полтора раза шире первой. Во сколько раз объём второй кружки меньше объёма первой?




12. Даны две кружки цилиндрической формы. Первая кружка в полтора раза ниже второй, а вторая вдвое шире первой. Во сколько раз объём первой кружки меньше объёма второй?



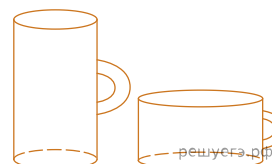
13. Даны две кружки цилиндрической формы. Первая кружка вчетверо выше второй, а вторая в четыре раза шире первой. Во сколько раз объём первой кружки меньше объёма второй?



14. Даны две кружки цилиндрической формы. Первая кружка в четыре с половиной раза ниже второй, а вторая в три раза уже первой. Во сколько раз объём первой кружки больше объёма второй?



15. Даны две кружки цилиндрической формы. Первая кружка в полтора раза выше второй, а вторая в три раза шире первой. Во сколько раз объём первой кружки меньше объёма второй?



16. Даны две кружки цилиндрической формы. Первая кружка в четыре раза выше второй, а вторая в полтора раза уже первой. Во сколько раз объём первой кружки больше объёма второй?

