



1. Керамическая плитка одной и той же торговой марки выпускается трёх разных размеров. Плитки упакованы в пачки. Требуется купить плитку, чтобы облицевать пол квадратной комнаты со стороной 3 м. Размеры плитки, количество плиток в пачке и стоимость пачки приведены в таблице

Размер плитки (см x см)	Количество плиток в пачке	Цена пачки
20 x 20	25	604 р.
20 x 30	16	595 р. 20 к.
30 x 30	11	594 р.

Во сколько рублей обойдётся наиболее дешёвый вариант покупки?

2.


Керамическая плитка одной и той же торговой марки выпускается трёх разных размеров. Плитки упакованы в пачки. Требуется купить плитку, чтобы облицевать пол квадратной комнаты со стороной 2 м 40 см. Размеры плитки, количество плиток в пачке и стоимость пачки приведены в таблице..

Размер плитки (см  см)	Количество плиток в пачке	Цена пачки
20  30	20	693 р. 60 к.
40  40	8	736 р.
20  20	30	702 р.

Во сколько рублей обойдётся наиболее дешёвый вариант покупки?

3.

Керамическая плитка одной и той же торговой марки выпускается трёх разных размеров. Плитки упакованы в пачки. Требуется купить плитку, чтобы облицевать пол квадратной комнаты со стороной 4 м 80 см. Размеры плитки, количество плиток в пачке и стоимость пачки приведены в таблице

Размер плитки (см  см)	Количество плиток в пачке	Цена пачки
20  40	12	700 р. 80 к.
20  30	17	739 р. 50 к.
30  40	8	691 р. 20 к.

Во сколько рублей обойдётся наиболее дешёвый вариант покупки?

4.

Керамическая плитка одной и той же торговой марки выпускается трёх разных размеров. Плитки упакованы в пачки. Требуется купить плитку, чтобы облицевать пол квадратной комнаты со стороной 3 м 60 см. Размеры плитки, количество плиток в пачке и стоимость пачки приведены в таблице.

Размер плитки (см $\times$ см)	Количество плиток в пачке	Цена пачки
20 $\times$ 30	17	663 р.
20 $\times$ 20	25	662 р.
30 $\times$ 40	8	628 р. 80 к.

Во сколько рублей обойдётся наиболее дешёвый вариант покупки?

5.

Керамическая плитка одной и той же торговой марки выпускается трёх разных размеров. Плитки упакованы в пачки. Требуется купить плитку, чтобы облицевать пол квадратной комнаты со стороной 4 м 80 см. Размеры плитки, количество плиток в пачке и стоимость пачки приведены в таблице.

Размер плитки (см $\times$ см)	Количество плиток в пачке	Цена пачки
30 $\times$ 40	9	594 р.
20 $\times$ 30	17	566 р. 10 к.
30 $\times$ 30	12	604 р. 80 к.

Во сколько рублей обойдётся наиболее дешёвый вариант покупки?

6.



Керамическая плитка одной и той же торговой марки выпускается трёх разных размеров. Плитки упакованы в пачки. Требуется купить плитку, чтобы облицевать пол квадратной комнаты со стороной 3 м 60 см. Размеры плитки, количество плиток в пачке и стоимость пачки приведены в таблице.

Размер плитки (см $\times$ см)	Количество плиток в пачке	Цена пачки
30 $\times$ 30	14	573 р. 30 к.
30 $\times$ 40	11	600 р. 60 к.
40 $\times$ 40	7	504 р.

Во сколько рублей обойдётся наиболее дешёвый вариант покупки?

7.


Керамическая плитка одной и той же торговой марки выпускается трёх разных размеров. Плитки упакованы в пачки. Пользуясь данными таблицы, определите, в каком случае цена одного квадратного метра плитки будет наименьшей.

Размер плитки (см  times см)	Количество плиток в пачке	Цена пачки
30  times 30	11	504 р. 90 к.
30  times 40	9	540 р.
20  times 20	25	520 р.

В ответ запишите найденную наименьшую цену квадратного метра в рублях.

8.




Керамическая плитка одной и той же торговой марки выпускается трёх разных размеров. Плитки упакованы в пачки. Пользуясь данными таблицы, определите, в каком случае цена одного квадратного метра плитки будет наименьшей.

Размер плитки (см  times см)	Количество плиток в пачке	Цена пачки
20  times 30	21	567 р.
30  times 30	13	538 р. 20 к.
20  times 40	15	546 р.

В ответ запишите найденную наименьшую цену квадратного метра в рублях.

9.

Керамическая плитка одной и той же торговой марки выпускается трёх разных размеров. Плитки упакованы в пачки. Пользуясь данными таблицы, определите, в каком случае цена одного квадратного метра плитки будет наименьшей.

Размер плитки (см  times см)	Количество плиток в пачке	Цена пачки
20  times 40	13	676 р.
20  times 20	26	670 р. 80 к.
30  times 40	9	675 р.

В ответ запишите найденную наименьшую цену квадратного метра в рублях.

**10.**

Керамическая плитка одной и той же торговой марки выпускается трёх разных размеров. Плитки упакованы в пачки. Пользуясь данными таблицы, определите, в каком случае цена одного квадратного метра плитки будет наименьшей.

Размер плитки (см $\times$ см)	Количество плиток в пачке	Цена пачки
40 $\times$ 40	8	716 р. 80 к.
20 $\times$ 30	21	693 р.
20 $\times$ 20	31	713 р.

В ответ запишите найденную наименьшую цену квадратного метра в рублях.

**11.**

Керамическая плитка одной и той же торговой марки выпускается трёх разных размеров. Плитки упакованы в пачки. Пользуясь данными таблицы, определите, в каком случае цена одного квадратного метра плитки будет наименьшей.

Размер плитки (см $\times$ см)	Количество плиток в пачке	Цена пачки
20 $\times$ 30	20	612 р.
30 $\times$ 40	11	679 р. 80 к.
20 $\times$ 20	29	585 р. 80 к.

В ответ запишите найденную наименьшую цену квадратного метра в рублях.

**12.**

Керамическая плитка одной и той же торговой марки выпускается трёх разных размеров. Плитки упакованы в пачки. Пользуясь данными таблицы, определите, в каком случае цена одного квадратного метра плитки будет наименьшей.

Размер плитки (см $\times$ см)	Количество плиток в пачке	Цена пачки
20 $\times$ 20	25	655 р.
20 $\times$ 30	17	663 р.
30 $\times$ 30	11	653 р. 40 к.

В ответ запишите найденную наименьшую цену квадратного метра в рублях.