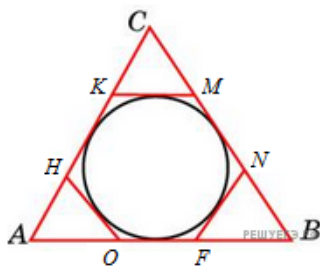
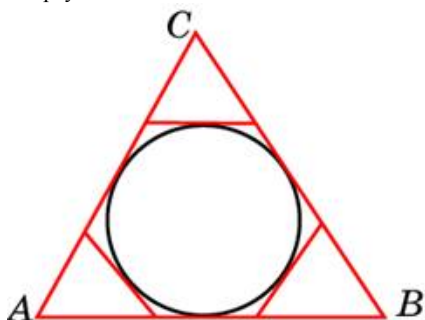


1. К окружности, вписанной в треугольник  $ABC$ , проведены три касательные. Периметры отсеченных треугольников равны 6, 8, 10. Найдите периметр данного треугольника.



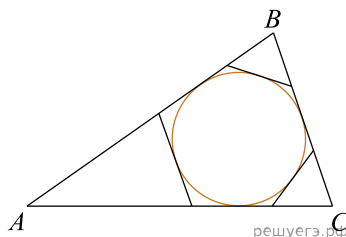
2.

К окружности, вписанной в треугольник  $ABC$ , проведены три касательные. Периметры отсеченных треугольников равны 8, 23, 78. Найдите периметр данного треугольника.



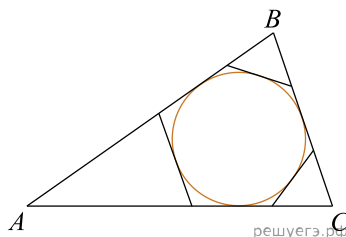
3.

К окружности, вписанной в треугольник  $ABC$ , проведены три касательные. Периметры отсеченных треугольников равны 10, 32, 24. Найдите периметр данного треугольника.



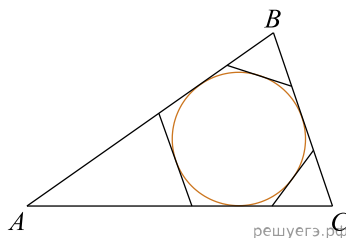
4.

К окружности, вписанной в треугольник  $ABC$ , проведены три касательные. Периметры отсеченных треугольников равны 6, 14, 85. Найдите периметр данного треугольника.



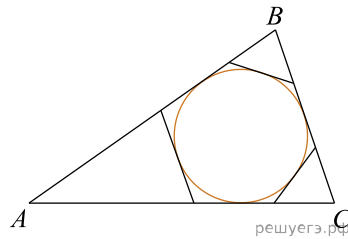
5.

К окружности, вписанной в треугольник  $ABC$ , проведены три касательные. Периметры отсеченных треугольников равны 10, 18, 33. Найдите периметр данного треугольника.



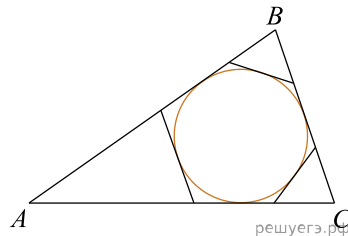
6.

К окружности, вписанной в треугольник  $ABC$ , проведены три касательные. Периметры отсеченных треугольников равны 6, 8, 8. Найдите периметр данного треугольника.



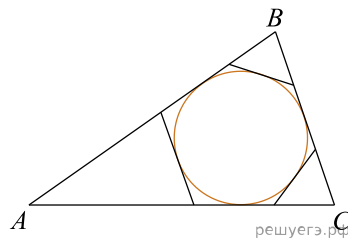
7.

К окружности, вписанной в треугольник  $ABC$ , проведены три касательные. Периметры отсеченных треугольников равны 10, 11, 63. Найдите периметр данного треугольника.



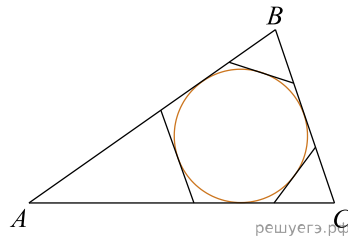
8.

К окружности, вписанной в треугольник  $ABC$ , проведены три касательные. Периметры отсеченных треугольников равны 8, 25, 19. Найдите периметр данного треугольника.



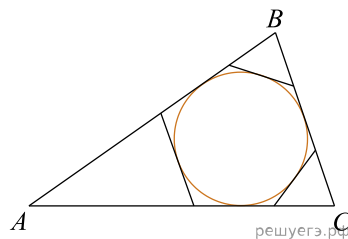
9.

К окружности, вписанной в треугольник  $ABC$ , проведены три касательные. Периметры отсеченных треугольников равны 7, 18, 34. Найдите периметр данного треугольника.



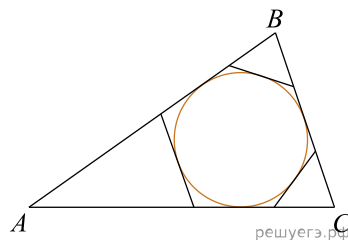
10.

К окружности, вписанной в треугольник  $ABC$ , проведены три касательные. Периметры отсеченных треугольников равны 7, 19, 12. Найдите периметр данного треугольника.



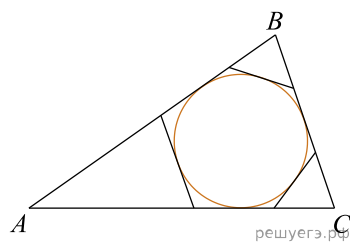
11.

К окружности, вписанной в треугольник  $ABC$ , проведены три касательные. Периметры отсеченных треугольников равны 10, 29, 11. Найдите периметр данного треугольника.



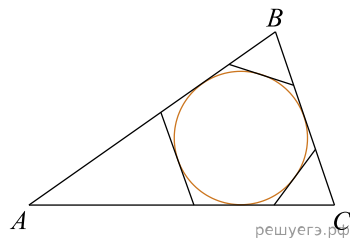
12.

К окружности, вписанной в треугольник  $ABC$ , проведены три касательные. Периметры отсеченных треугольников равны 10, 28, 78. Найдите периметр данного треугольника.



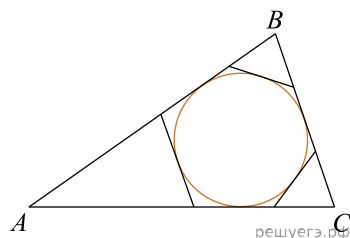
13.

К окружности, вписанной в треугольник  $ABC$ , проведены три касательные. Периметры отсеченных треугольников равны 10, 14, 44. Найдите периметр данного треугольника.



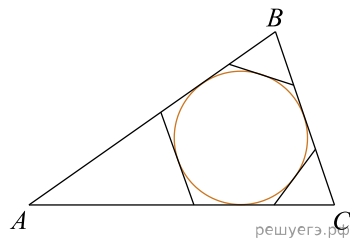
14.

К окружности, вписанной в треугольник  $ABC$ , проведены три касательные. Периметры отсеченных треугольников равны 10, 31, 41. Найдите периметр данного треугольника.



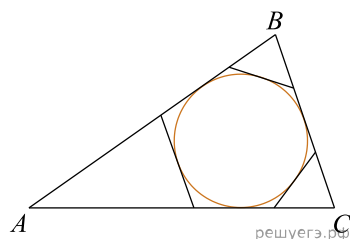
15.

К окружности, вписанной в треугольник  $ABC$ , проведены три касательные. Периметры отсеченных треугольников равны 6, 12, 6. Найдите периметр данного треугольника.



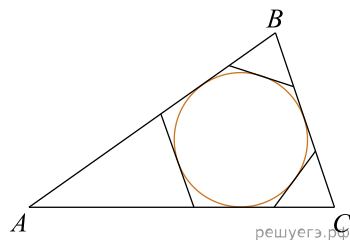
16.

К окружности, вписанной в треугольник  $ABC$ , проведены три касательные. Периметры отсеченных треугольников равны 7, 16, 56. Найдите периметр данного треугольника.



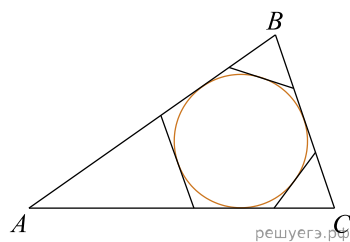
17.

К окружности, вписанной в треугольник  $ABC$ , проведены три касательные. Периметры отсеченных треугольников равны 10, 20, 32. Найдите периметр данного треугольника.



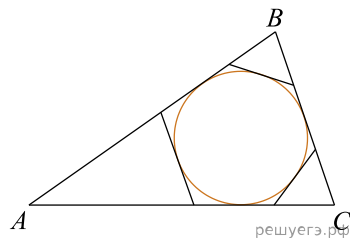
18.

К окружности, вписанной в треугольник  $ABC$ , проведены три касательные. Периметры отсеченных треугольников равны 6, 11, 34. Найдите периметр данного треугольника.



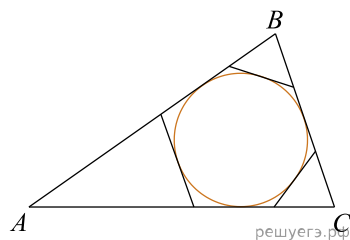
19.

К окружности, вписанной в треугольник  $ABC$ , проведены три касательные. Периметры отсеченных треугольников равны 10, 22, 74. Найдите периметр данного треугольника.



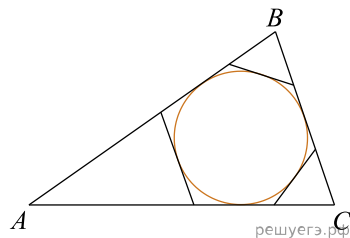
20.

К окружности, вписанной в треугольник  $ABC$ , проведены три касательные. Периметры отсеченных треугольников равны 8, 24, 11. Найдите периметр данного треугольника.



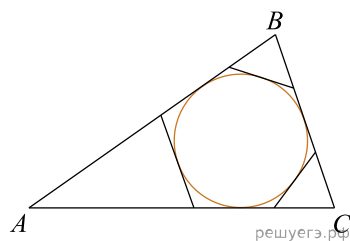
21.

К окружности, вписанной в треугольник  $ABC$ , проведены три касательные. Периметры отсеченных треугольников равны 7, 22, 36. Найдите периметр данного треугольника.



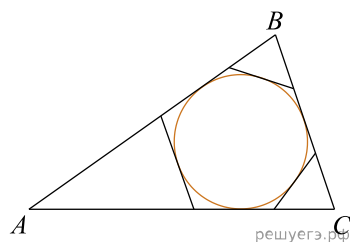
22.

К окружности, вписанной в треугольник  $ABC$ , проведены три касательные. Периметры отсеченных треугольников равны 10, 19, 85. Найдите периметр данного треугольника.



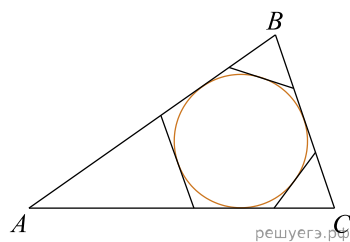
23.

К окружности, вписанной в треугольник  $ABC$ , проведены три касательные. Периметры отсеченных треугольников равны 8, 29, 53. Найдите периметр данного треугольника.



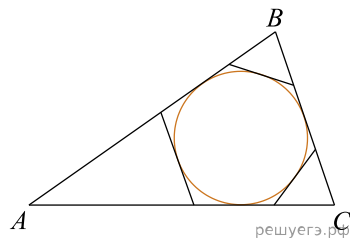
24.

К окружности, вписанной в треугольник  $ABC$ , проведены три касательные. Периметры отсеченных треугольников равны 10, 33, 67. Найдите периметр данного треугольника.



25.

К окружности, вписанной в треугольник  $ABC$ , проведены три касательные. Периметры отсеченных треугольников равны 8, 28, 67. Найдите периметр данного треугольника.



26.

К окружности, вписанной в треугольник  $ABC$ , проведены три касательные. Периметры отсеченных треугольников равны 10, 23, 34. Найдите периметр данного треугольника.

