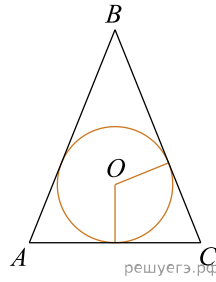


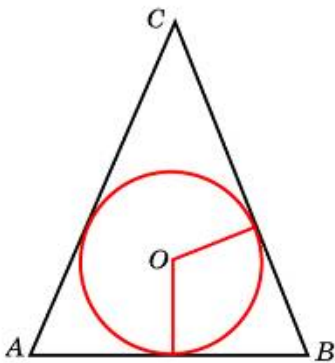
1.

Окружность, вписанная в равнобедренный треугольник, делит в точке касания одну из боковых сторон на два отрезка, длины которых равны 5 и 3, считая от вершины, противоположащей основанию. Найдите периметр треугольника.



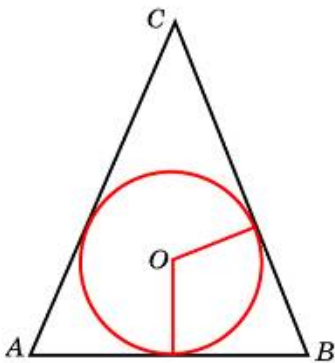
2.

Окружность, вписанная в равнобедренный треугольник, делит в точке касания одну из боковых сторон на два отрезка, длины которых равны 10 и 1, считая от вершины, противоположащей основанию. Найдите периметр треугольника.



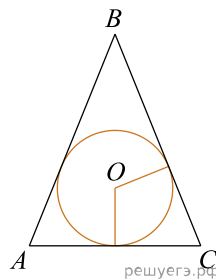
3.

Окружность, вписанная в равнобедренный треугольник, делит в точке касания одну из боковых сторон на два отрезка, длины которых равны 9 и 4, считая от вершины, противоположащей основанию. Найдите периметр треугольника.



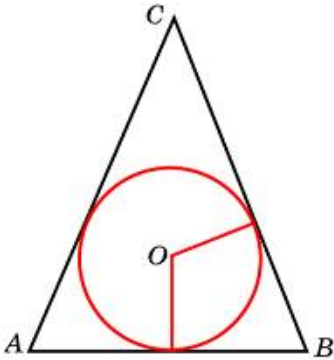
4.

Окружность, вписанная в равнобедренный треугольник, делит в точке касания одну из боковых сторон на два отрезка, длины которых равны 15 и 3, считая от вершины, противоположащей основанию. Найдите периметр треугольника.



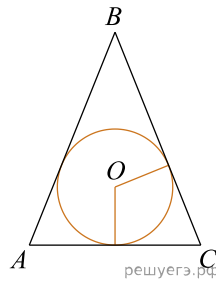
5.

Окружность, вписанная в равнобедренный треугольник, делит в точке касания одну из боковых сторон на два отрезка, длины которых равны 27 и 5, считая от вершины, противоположной основанию. Найдите периметр треугольника.



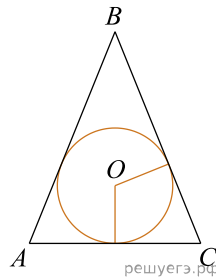
6.

Окружность, вписанная в равнобедренный треугольник, делит в точке касания одну из боковых сторон на два отрезка, длины которых равны 13 и 2, считая от вершины, противоположной основанию. Найдите периметр треугольника.



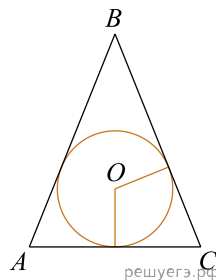
7.

Окружность, вписанная в равнобедренный треугольник, делит в точке касания одну из боковых сторон на два отрезка, длины которых равны 19 и 5, считая от вершины, противоположной основанию. Найдите периметр треугольника.



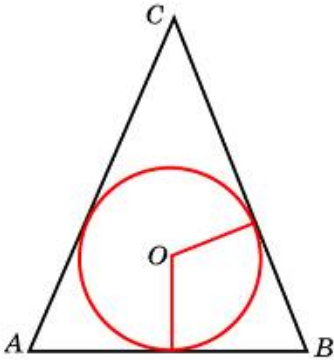
8.

Окружность, вписанная в равнобедренный треугольник, делит в точке касания одну из боковых сторон на два отрезка, длины которых равны 15 и 2, считая от вершины, противоположной основанию. Найдите периметр треугольника.



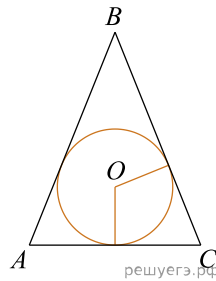
9.

Окружность, вписанная в равнобедренный треугольник, делит в точке касания одну из боковых сторон на два отрезка, длины которых равны 16 и 2, считая от вершины, противоположной основанию. Найдите периметр треугольника.



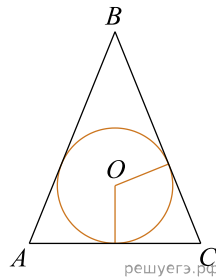
10.

Окружность, вписанная в равнобедренный треугольник, делит в точке касания одну из боковых сторон на два отрезка, длины которых равны 20 и 3, считая от вершины, противоположной основанию. Найдите периметр треугольника.



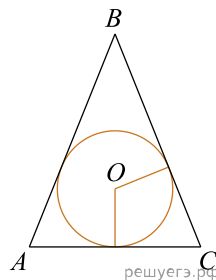
11.

Окружность, вписанная в равнобедренный треугольник, делит в точке касания одну из боковых сторон на два отрезка, длины которых равны 19 и 2, считая от вершины, противоположной основанию. Найдите периметр треугольника.



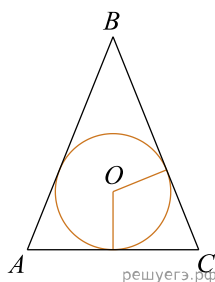
12.

Окружность, вписанная в равнобедренный треугольник, делит в точке касания одну из боковых сторон на два отрезка, длины которых равны 20 и 2, считая от вершины, противоположной основанию. Найдите периметр треугольника.



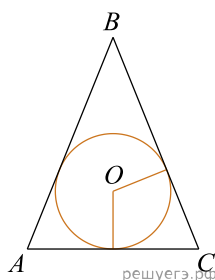
13.

Окружность, вписанная в равнобедренный треугольник, делит в точке касания одну из боковых сторон на два отрезка, длины которых равны 27 и 4, считая от вершины, противоположной основанию. Найдите периметр треугольника.



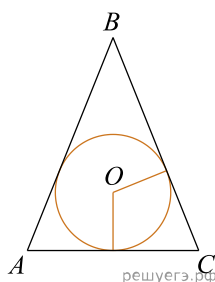
14.

Окружность, вписанная в равнобедренный треугольник, делит в точке касания одну из боковых сторон на два отрезка, длины которых равны 14 и 2, считая от вершины, противоположной основанию. Найдите периметр треугольника.



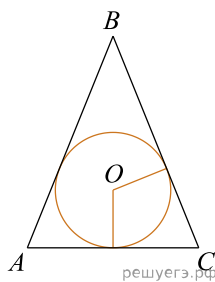
15.

Окружность, вписанная в равнобедренный треугольник, делит в точке касания одну из боковых сторон на два отрезка, длины которых равны 7 и 4, считая от вершины, противоположной основанию. Найдите периметр треугольника.



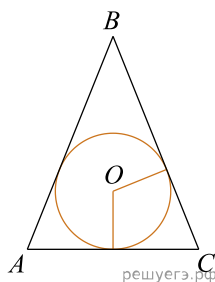
16.

Окружность, вписанная в равнобедренный треугольник, делит в точке касания одну из боковых сторон на два отрезка, длины которых равны 22 и 2, считая от вершины, противоположной основанию. Найдите периметр треугольника.

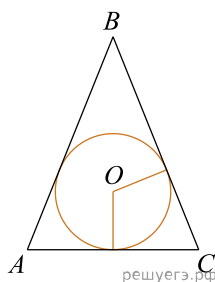


17.

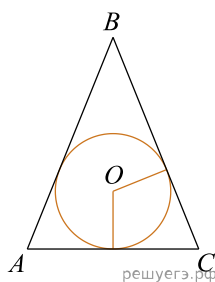
Окружность, вписанная в равнобедренный треугольник, делит в точке касания одну из боковых сторон на два отрезка, длины которых равны 11 и 1, считая от вершины, противоположной основанию. Найдите периметр треугольника.



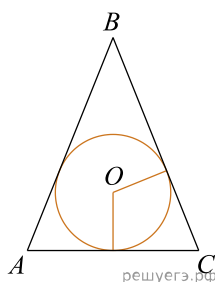
18. Окружность, вписанная в равнобедренный треугольник, делит в точке касания одну из боковых сторон на два отрезка, длины которых равны 12 и 2, считая от вершины, противоположной основанию. Найдите периметр треугольника.



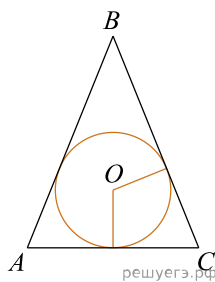
19. Окружность, вписанная в равнобедренный треугольник, делит в точке касания одну из боковых сторон на два отрезка, длины которых равны 23 и 3, считая от вершины, противоположной основанию. Найдите периметр треугольника.



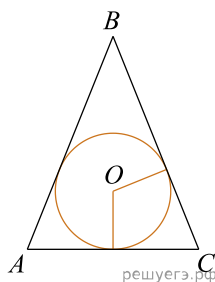
20. Окружность, вписанная в равнобедренный треугольник, делит в точке касания одну из боковых сторон на два отрезка, длины которых равны 21 и 2, считая от вершины, противоположной основанию. Найдите периметр треугольника.



21. Окружность, вписанная в равнобедренный треугольник, делит в точке касания одну из боковых сторон на два отрезка, длины которых равны 21 и 3, считая от вершины, противоположной основанию. Найдите периметр треугольника.

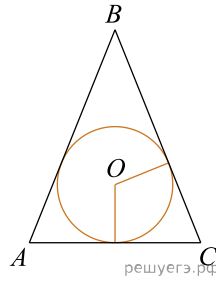


22. Окружность, вписанная в равнобедренный треугольник, делит в точке касания одну из боковых сторон на два отрезка, длины которых равны 26 и 3, считая от вершины, противоположной основанию. Найдите периметр треугольника.



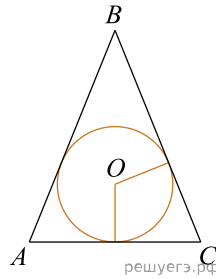
23.

Окружность, вписанная в равнобедренный треугольник, делит в точке касания одну из боковых сторон на два отрезка, длины которых равны 8 и 1, считая от вершины, противоположной основанию. Найдите периметр треугольника.



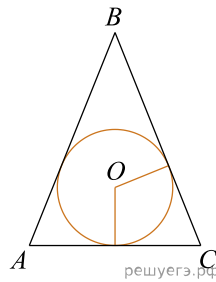
24.

Окружность, вписанная в равнобедренный треугольник, делит в точке касания одну из боковых сторон на два отрезка, длины которых равны 18 и 3, считая от вершины, противоположной основанию. Найдите периметр треугольника.



25.

Окружность, вписанная в равнобедренный треугольник, делит в точке касания одну из боковых сторон на два отрезка, длины которых равны 6 и 1, считая от вершины, противоположной основанию. Найдите периметр треугольника.



26.

Окружность, вписанная в равнобедренный треугольник, делит в точке касания одну из боковых сторон на два отрезка, длины которых равны 18 и 2, считая от вершины, противоположной основанию. Найдите периметр треугольника.

