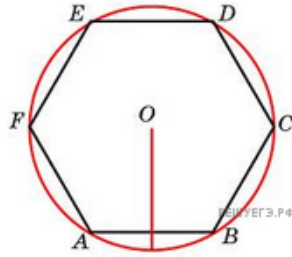
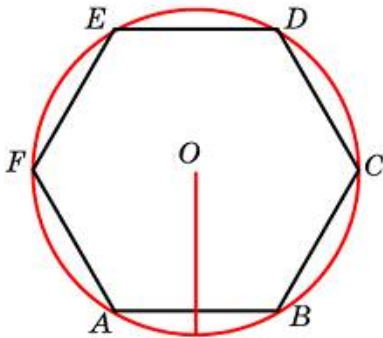


1. Чему равна сторона правильного шестиугольника, вписанного в окружность, радиус которой равен 6?



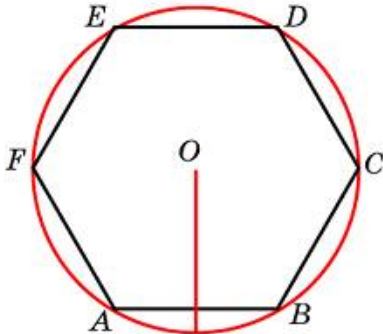
2.

Чему равна сторона правильного шестиугольника, вписанного в окружность, радиус которой равен 39?



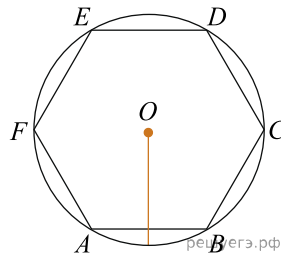
3.

Чему равна сторона правильного шестиугольника, вписанного в окружность, радиус которой равен 28?



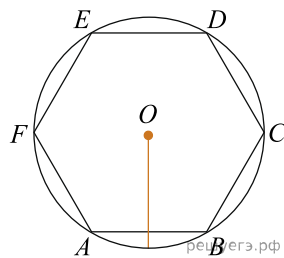
4.

Чему равна сторона правильного шестиугольника, вписанного в окружность, радиус которой равен 41?



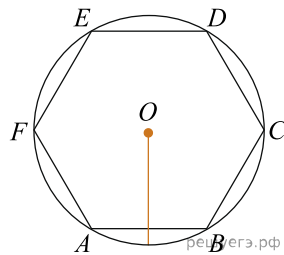
5.

Чему равна сторона правильного шестиугольника, вписанного в окружность, радиус которой равен 14?



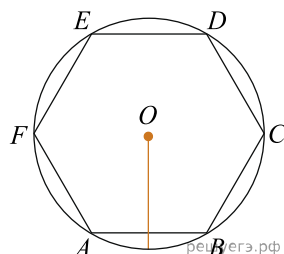
6.

Чему равна сторона правильного шестиугольника, вписанного в окружность, радиус которой равен 33?



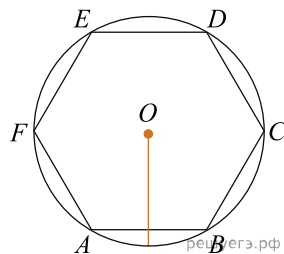
7.

Чему равна сторона правильного шестиугольника, вписанного в окружность, радиус которой равен 43?



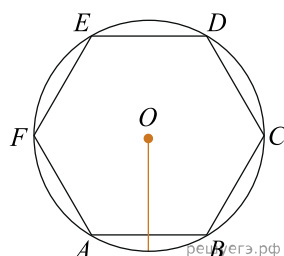
8.

Чему равна сторона правильного шестиугольника, вписанного в окружность, радиус которой равен 22?



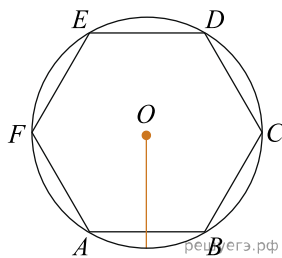
9.

Чему равна сторона правильного шестиугольника, вписанного в окружность, радиус которой равен 12?



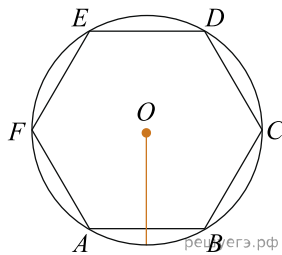
10.

Чему равна сторона правильного шестиугольника, вписанного в окружность, радиус которой равен 29?



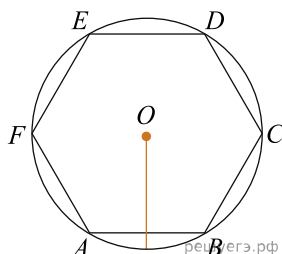
11.

Чему равна сторона правильного шестиугольника, вписанного в окружность, радиус которой равен 21?



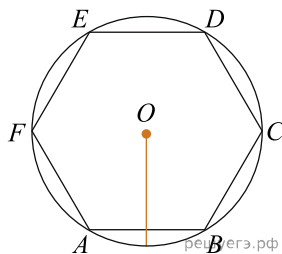
12.

Чему равна сторона правильного шестиугольника, вписанного в окружность, радиус которой равен 3?



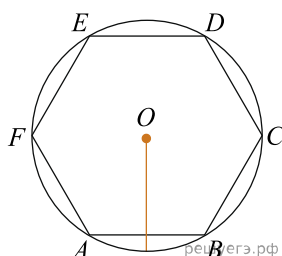
13.

Чему равна сторона правильного шестиугольника, вписанного в окружность, радиус которой равен 46?



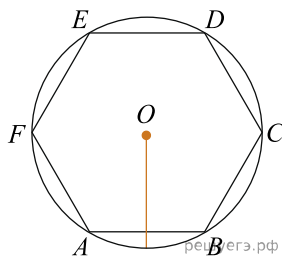
14.

Чему равна сторона правильного шестиугольника, вписанного в окружность, радиус которой равен 2?



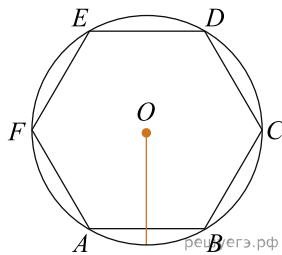
15.

Чему равна сторона правильного шестиугольника, вписанного в окружность, радиус которой равен 47?



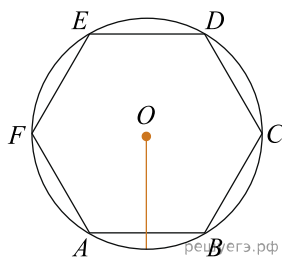
16.

Чему равна сторона правильного шестиугольника, вписанного в окружность, радиус которой равен 35?



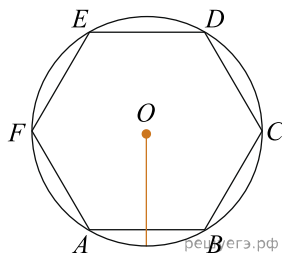
17.

Чему равна сторона правильного шестиугольника, вписанного в окружность, радиус которой равен 24?



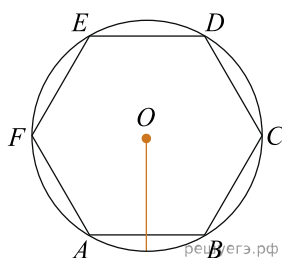
18.

Чему равна сторона правильного шестиугольника, вписанного в окружность, радиус которой равен 38?



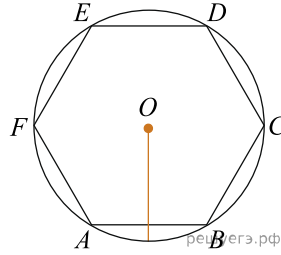
19.

Чему равна сторона правильного шестиугольника, вписанного в окружность, радиус которой равен 49?



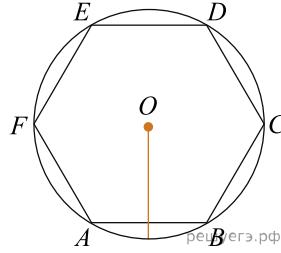
20.

Чему равна сторона правильного шестиугольника, вписанного в окружность, радиус которой равен 25?



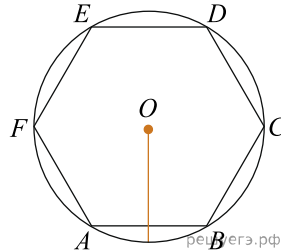
21.

Чему равна сторона правильного шестиугольника, вписанного в окружность, радиус которой равен 50?



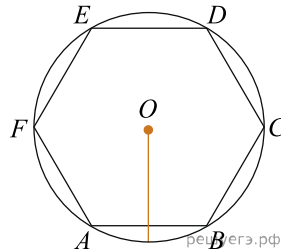
22.

Чему равна сторона правильного шестиугольника, вписанного в окружность, радиус которой равен 7?



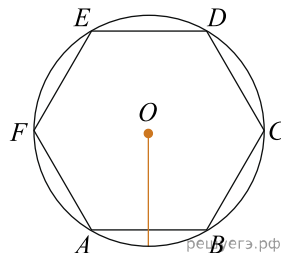
23.

Чему равна сторона правильного шестиугольника, вписанного в окружность, радиус которой равен 4?



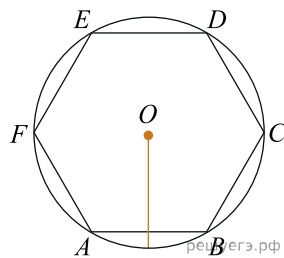
24.

Чему равна сторона правильного шестиугольника, вписанного в окружность, радиус которой равен 44?



25.

Чему равна сторона правильного шестиугольника, вписанного в окружность, радиус которой равен 45?



26.

Чему равна сторона правильного шестиугольника, вписанного в окружность, радиус которой равен 15?

