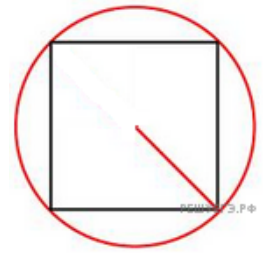
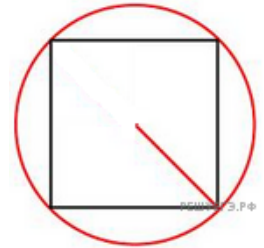


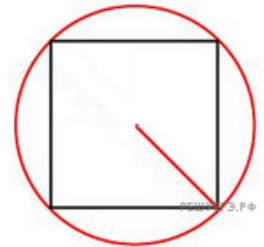
1. Найдите сторону квадрата, вписанного в окружность радиуса $\sqrt{8}$.



2. Найдите сторону квадрата, вписанного в окружность радиуса $43\sqrt{2}$.




3. Найдите сторону квадрата, вписанного в окружность радиуса $46\sqrt{2}$.




4.

Найдите сторону квадрата, вписанного в окружность радиуса $45\sqrt{2}$.




5.

Найдите сторону квадрата, вписанного в окружность радиуса $7\sqrt{2}$.




6.

Найдите сторону квадрата, вписанного в окружность радиуса $16\sqrt{2}$.




7.

Найдите сторону квадрата, вписанного в окружность радиуса $9\sqrt{2}$.




8.

Найдите сторону квадрата, вписанного в окружность радиуса $4\sqrt{2}$.




9.

Найдите сторону квадрата, вписанного в окружность радиуса $36\sqrt{2}$.




10.

Найдите сторону квадрата, вписанного в окружность радиуса $19\sqrt{2}$.




11.

Найдите сторону квадрата, вписанного в окружность радиуса $35\sqrt{2}$.




12.

Найдите сторону квадрата, вписанного в окружность радиуса $47\sqrt{2}$.




13.

Найдите сторону квадрата, вписанного в окружность радиуса $2\sqrt{2}$.




14.

Найдите сторону квадрата, вписанного в окружность радиуса $34\sqrt{2}$.




15.

Найдите сторону квадрата, вписанного в окружность радиуса $50\sqrt{2}$.




16.

Найдите сторону квадрата, вписанного в окружность радиуса $23\sqrt{2}$.




17.

Найдите сторону квадрата, вписанного в окружность радиуса $48\sqrt{2}$.




18.

Найдите сторону квадрата, вписанного в окружность радиуса $41\sqrt{2}$.




19.

Найдите сторону квадрата, вписанного в окружность радиуса $27\sqrt{2}$.




20.

Найдите сторону квадрата, вписанного в окружность радиуса $49\sqrt{2}$.




21.

Найдите сторону квадрата, вписанного в окружность радиуса $32\sqrt{2}$.




22.

Найдите сторону квадрата, вписанного в окружность радиуса $40\sqrt{2}$.




23.

Найдите сторону квадрата, вписанного в окружность радиуса $29\sqrt{2}$.




24.

Найдите сторону квадрата, вписанного в окружность радиуса $24\sqrt{2}$.



25.

Найдите сторону квадрата, вписанного в окружность радиуса $30\sqrt{2}$.



26.

Найдите сторону квадрата, вписанного в окружность радиуса $5\sqrt{2}$.

