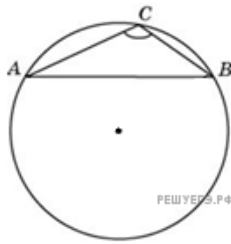
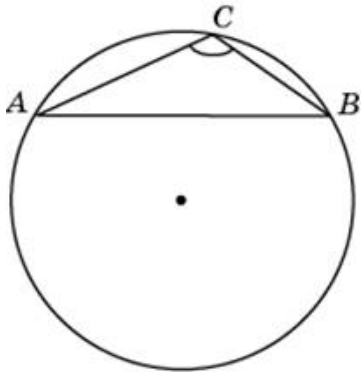


1. Найдите хорду, на которую опирается угол 120° , вписанный в окружность радиуса $\sqrt{3}$.



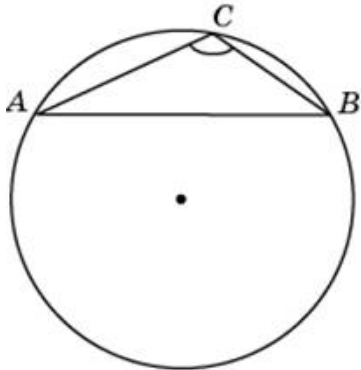
2.

Найдите хорду, на которую опирается угол 120° , вписанный в окружность радиуса $22\sqrt{3}$.



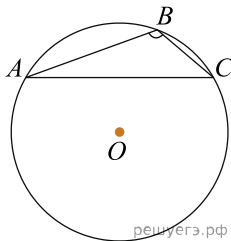
3.

Найдите хорду, на которую опирается угол 120° , вписанный в окружность радиуса $37\sqrt{3}$.



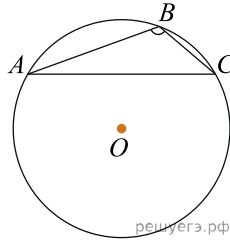
4.

Найдите хорду, на которую опирается угол 120° , вписанный в окружность радиуса $35\sqrt{3}$.



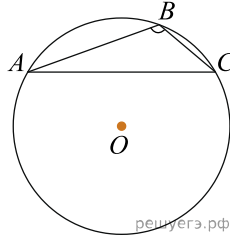
5.

Найдите хорду, на которую опирается угол 120° , вписанный в окружность радиуса $4\sqrt{3}$.



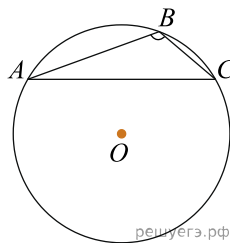
6.

Найдите хорду, на которую опирается угол 120° , вписанный в окружность радиуса $48\sqrt{3}$.



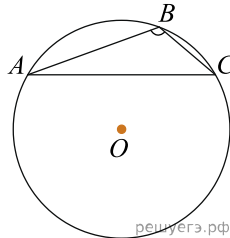
7.

Найдите хорду, на которую опирается угол 120° , вписанный в окружность радиуса $33\sqrt{3}$.



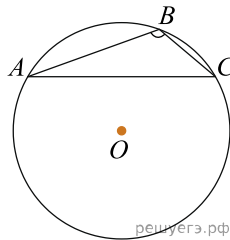
8.

Найдите хорду, на которую опирается угол 120° , вписанный в окружность радиуса $39\sqrt{3}$.



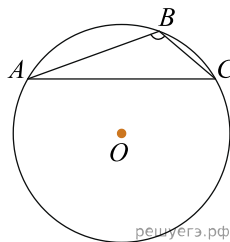
9.

Найдите хорду, на которую опирается угол 120° , вписанный в окружность радиуса $45\sqrt{3}$.



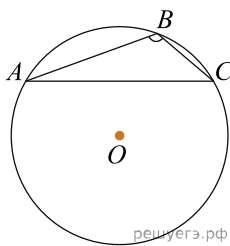
10.

Найдите хорду, на которую опирается угол 120° , вписанный в окружность радиуса $2\sqrt{3}$.



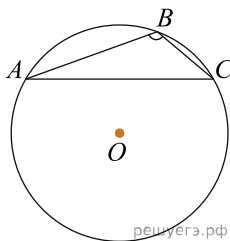
11.

Найдите хорду, на которую опирается угол 120° ,
вписанный в окружность радиуса $19\sqrt{3}$.



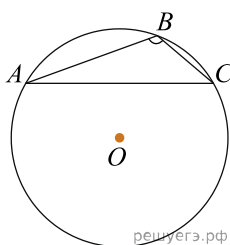
12.

Найдите хорду, на которую опирается угол 120° ,
вписанный в окружность радиуса $50\sqrt{3}$.



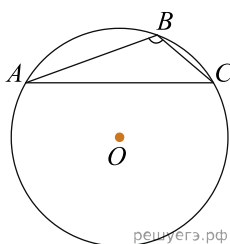
13.

Найдите хорду, на которую опирается угол 120° ,
вписанный в окружность радиуса $43\sqrt{3}$.



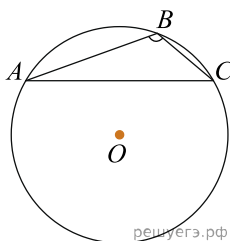
14.

Найдите хорду, на которую опирается угол 120° ,
вписанный в окружность радиуса $49\sqrt{3}$.



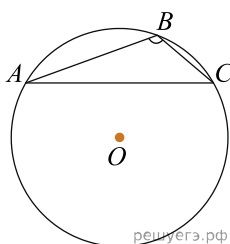
15.

Найдите хорду, на которую опирается угол 120° ,
вписанный в окружность радиуса $27\sqrt{3}$.



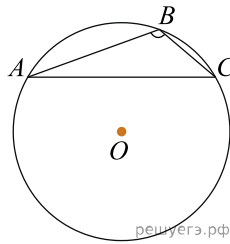
16.

Найдите хорду, на которую опирается угол 120° ,
вписанный в окружность радиуса $16\sqrt{3}$.



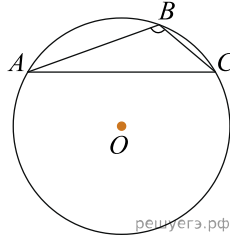
17.

Найдите хорду, на которую опирается угол 120° , вписанный в окружность радиуса $24\sqrt{3}$.



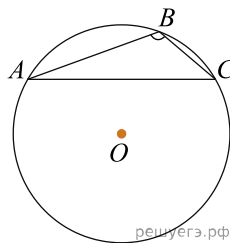
18.

Найдите хорду, на которую опирается угол 120° , вписанный в окружность радиуса $25\sqrt{3}$.



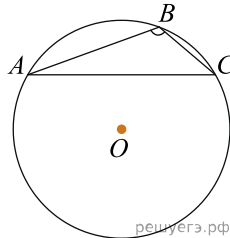
19.

Найдите хорду, на которую опирается угол 120° , вписанный в окружность радиуса $30\sqrt{3}$.



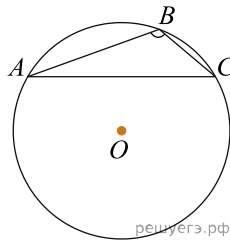
20.

Найдите хорду, на которую опирается угол 120° , вписанный в окружность радиуса $40\sqrt{3}$.



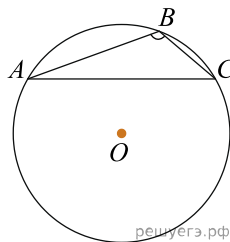
21.

Найдите хорду, на которую опирается угол 120° , вписанный в окружность радиуса $44\sqrt{3}$.



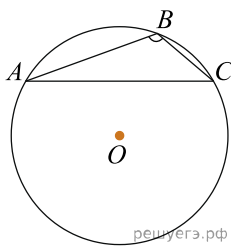
22.

Найдите хорду, на которую опирается угол 120° , вписанный в окружность радиуса $15\sqrt{3}$.



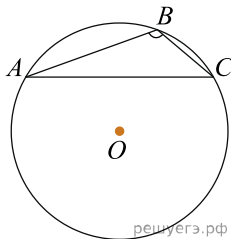
23.

Найдите хорду, на которую опирается угол 120° ,
вписанный в окружность радиуса $21\sqrt{3}$.



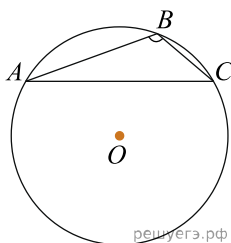
24.

Найдите хорду, на которую опирается угол 120° ,
вписанный в окружность радиуса $13\sqrt{3}$.



25.

Найдите хорду, на которую опирается угол 120° ,
вписанный в окружность радиуса $46\sqrt{3}$.



26.

Найдите хорду, на которую опирается угол 120° ,
вписанный в окружность радиуса $41\sqrt{3}$.

