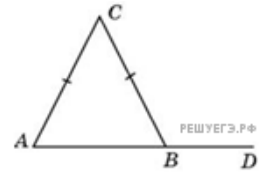
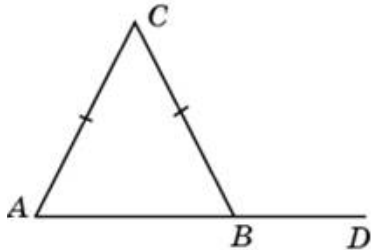


1. В треугольнике ABC $AC = BC$, угол C равен 52° . Найдите внешний угол CBD . Ответ дайте в градусах.



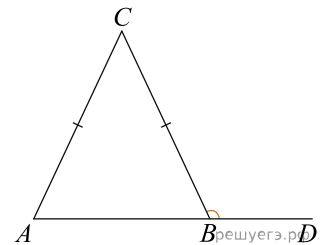
2.

В треугольнике ABC $AC = BC$, угол C равен 134° . Найдите внешний угол CBD . Ответ дайте в градусах.



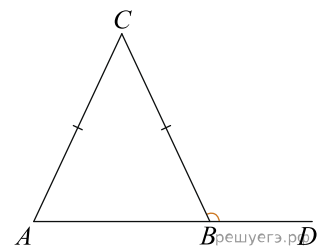
3.

В треугольнике ABC $AC = BC$, угол C равен 72° . Найдите внешний угол CBD . Ответ дайте в градусах.



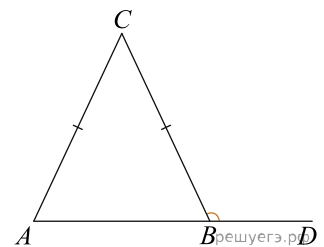
4.

В треугольнике ABC $AC = BC$, угол C равен 60° . Найдите внешний угол CBD . Ответ дайте в градусах.



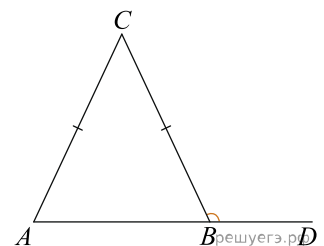
5.

В треугольнике ABC $AC = BC$, угол C равен 62° . Найдите внешний угол CBD . Ответ дайте в градусах.



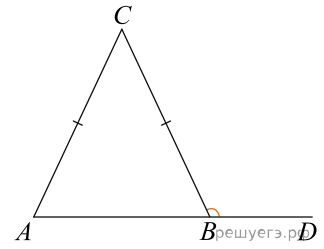
6.

В треугольнике ABC $AC = BC$, угол C равен 138° . Найдите внешний угол CBD . Ответ дайте в градусах.



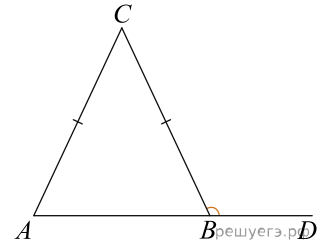
7.

В треугольнике ABC $AC = BC$, угол C равен 86° . Найдите внешний угол CBD . Ответ дайте в градусах.



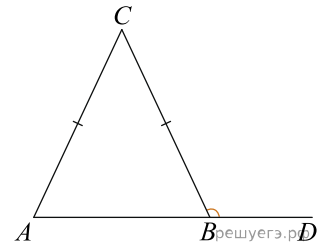
8.

В треугольнике ABC $AC = BC$, угол C равен 120° . Найдите внешний угол CBD . Ответ дайте в градусах.



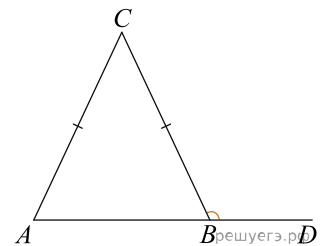
9.

В треугольнике ABC $AC = BC$, угол C равен 162° . Найдите внешний угол CBD . Ответ дайте в градусах.



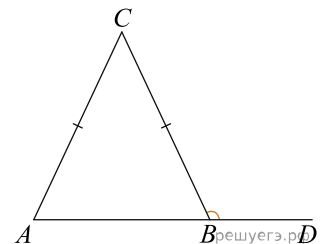
10.

В треугольнике ABC $AC = BC$, угол C равен 24° . Найдите внешний угол CBD . Ответ дайте в градусах.



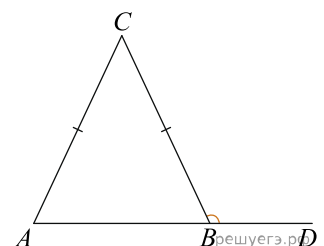
11.

В треугольнике ABC $AC = BC$, угол C равен 104° . Найдите внешний угол CBD . Ответ дайте в градусах.



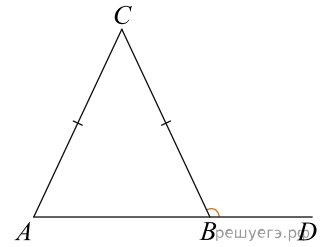
12.

В треугольнике ABC $AC = BC$, угол C равен 88° . Найдите внешний угол CBD . Ответ дайте в градусах.



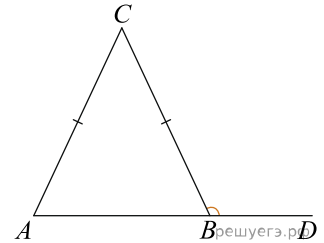
13.

В треугольнике ABC $AC = BC$, угол C равен 122° . Найдите внешний угол CBD . Ответ дайте в градусах.



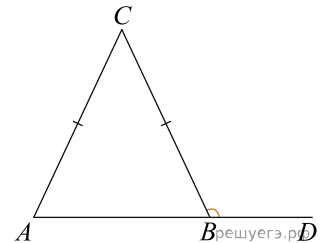
14.

В треугольнике ABC $AC = BC$, угол C равен 92° . Найдите внешний угол CBD . Ответ дайте в градусах.



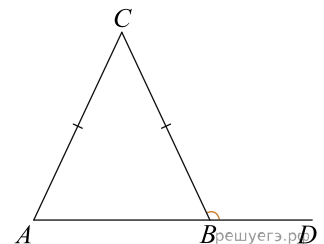
15.

В треугольнике ABC $AC = BC$, угол C равен 106° . Найдите внешний угол CBD . Ответ дайте в градусах.



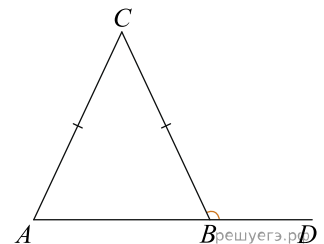
16.

В треугольнике ABC $AC = BC$, угол C равен 76° . Найдите внешний угол CBD . Ответ дайте в градусах.



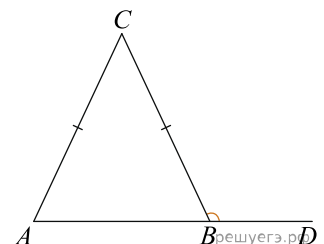
17.

В треугольнике ABC $AC = BC$, угол C равен 108° . Найдите внешний угол CBD . Ответ дайте в градусах.



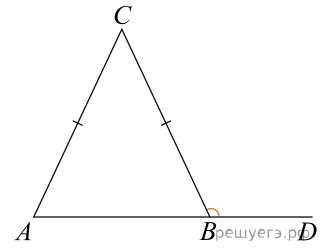
18.

В треугольнике ABC $AC = BC$, угол C равен 164° . Найдите внешний угол CBD . Ответ дайте в градусах.



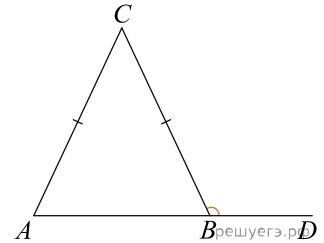
19.

В треугольнике ABC $AC = BC$, угол C равен 4° . Найдите внешний угол CBD . Ответ дайте в градусах.



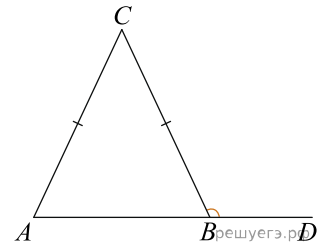
20.

В треугольнике ABC $AC = BC$, угол C равен 148° . Найдите внешний угол CBD . Ответ дайте в градусах.



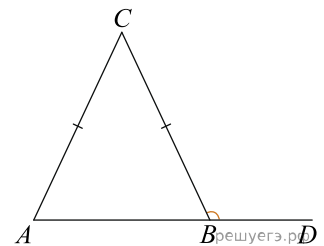
21.

В треугольнике ABC $AC = BC$, угол C равен 130° . Найдите внешний угол CBD . Ответ дайте в градусах.



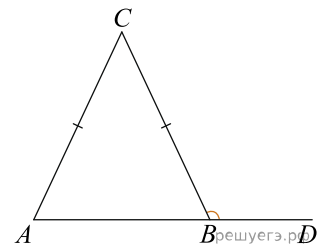
22.

В треугольнике ABC $AC = BC$, угол C равен 36° . Найдите внешний угол CBD . Ответ дайте в градусах.



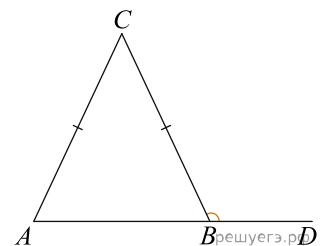
23.

В треугольнике ABC $AC = BC$, угол C равен 2° . Найдите внешний угол CBD . Ответ дайте в градусах.



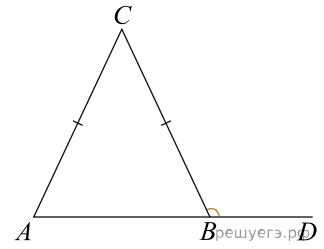
24.

В треугольнике ABC $AC = BC$, угол C равен 124° . Найдите внешний угол CBD . Ответ дайте в градусах.



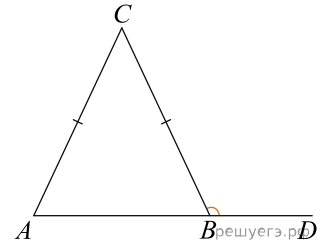
25.

В треугольнике ABC $AC = BC$, угол C равен 44° . Найдите внешний угол CBD . Ответ дайте в градусах.



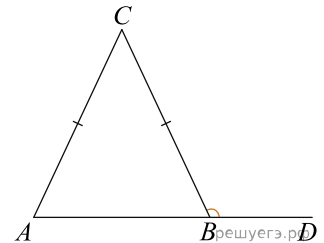
26.

В треугольнике ABC $AC = BC$, угол C равен 10° . Найдите внешний угол CBD . Ответ дайте в градусах.



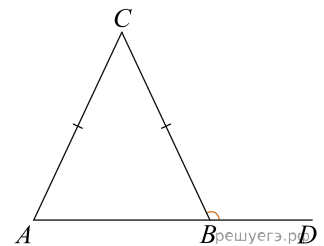
27.

В треугольнике ABC $AC = BC$, угол C равен 158° . Найдите внешний угол CBD . Ответ дайте в градусах.



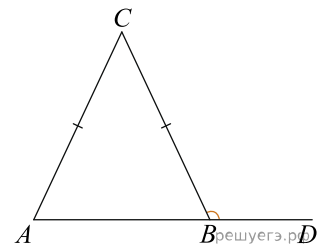
28.

В треугольнике ABC $AC = BC$, угол C равен 146° . Найдите внешний угол CBD . Ответ дайте в градусах.



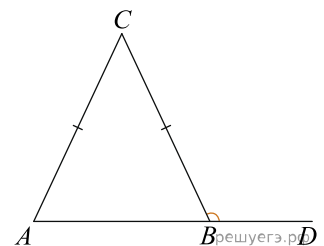
29.

В треугольнике ABC $AC = BC$, угол C равен 48° . Найдите внешний угол CBD . Ответ дайте в градусах.



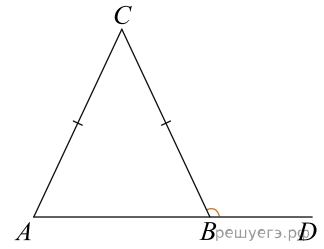
30.

В треугольнике ABC $AC = BC$, угол C равен 152° . Найдите внешний угол CBD . Ответ дайте в градусах.



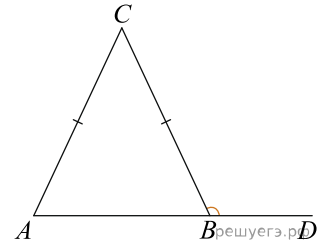
31.

В треугольнике ABC $AC = BC$, угол C равен 58° . Найдите внешний угол CBD . Ответ дайте в градусах.



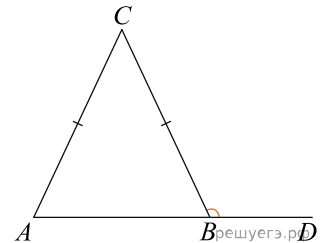
32.

В треугольнике ABC $AC = BC$, угол C равен 90° . Найдите внешний угол CBD . Ответ дайте в градусах.



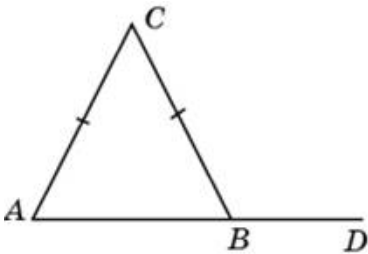
33.

В треугольнике ABC $AC = BC$, угол C равен 132° . Найдите внешний угол CBD . Ответ дайте в градусах.



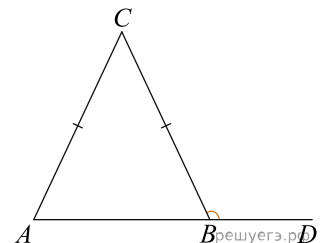
34.

В треугольнике ABC $AC = BC$, угол C равен 82° . Найдите внешний угол CBD . Ответ дайте в градусах.



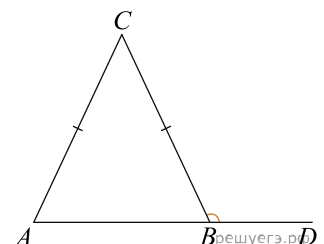
35.

В треугольнике ABC $AC = BC$, угол C равен 118° . Найдите внешний угол CBD . Ответ дайте в градусах.



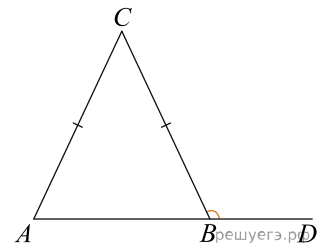
36.

В треугольнике ABC $AC = BC$, угол C равен 110° . Найдите внешний угол CBD . Ответ дайте в градусах.



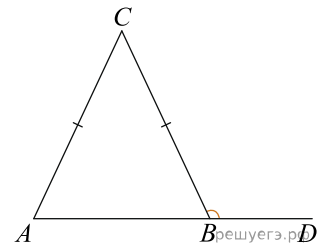
37.

В треугольнике ABC $AC = BC$, угол C равен 34° . Найдите внешний угол CBD . Ответ дайте в градусах.



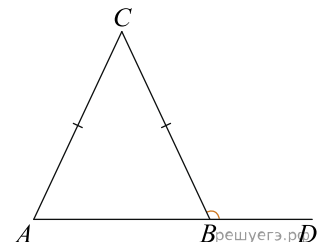
38.

В треугольнике ABC $AC = BC$, угол C равен 150° . Найдите внешний угол CBD . Ответ дайте в градусах.



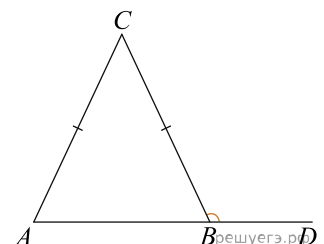
39.

В треугольнике ABC $AC = BC$, угол C равен 28° . Найдите внешний угол CBD . Ответ дайте в градусах.



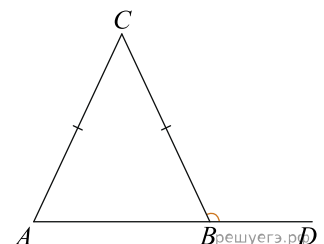
40.

В треугольнике ABC $AC = BC$, угол C равен 114° . Найдите внешний угол CBD . Ответ дайте в градусах.



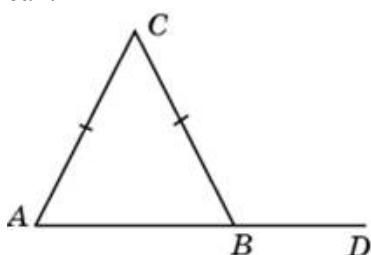
41.

В треугольнике ABC $AC = BC$, угол C равен 94° . Найдите внешний угол CBD . Ответ дайте в градусах.



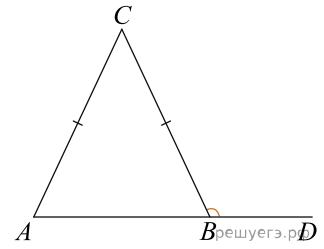
42.

В треугольнике ABC $AC = BC$, угол C равен 40° . Найдите внешний угол CBD . Ответ дайте в градусах.



43.

В треугольнике ABC $AC = BC$, угол C равен 46° . Найдите внешний угол CBD . Ответ дайте в градусах.



44.

В треугольнике ABC $AC = BC$, угол C равен 156° . Найдите внешний угол CBD . Ответ дайте в градусах.

