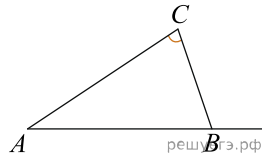


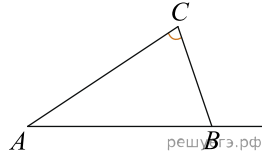
1.

В треугольнике ABC угол A равен 40° , внешний угол при вершине B равен 102° . Найдите угол C . Ответ дайте в градусах.



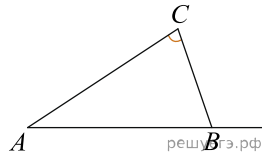
2.

В треугольнике ABC угол A равен 7° , внешний угол при вершине B равен 22° . Найдите угол C . Ответ дайте в градусах.



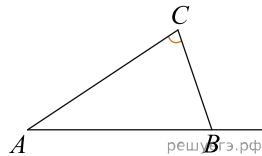
3.

В треугольнике ABC угол A равен 40° , внешний угол при вершине B равен 102° . Найдите угол C . Ответ дайте в градусах.



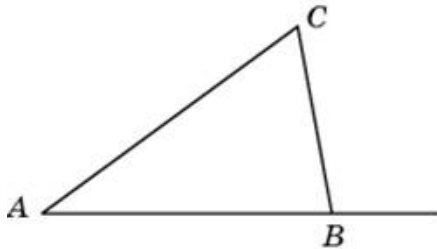
4.

В треугольнике ABC угол A равен 62° , внешний угол при вершине B равен 118° . Найдите угол C . Ответ дайте в градусах.



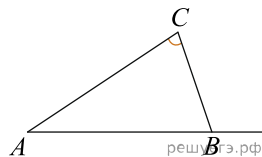
5.

В треугольнике ABC угол A равен 10° , внешний угол при вершине B равен 31° . Найдите угол C . Ответ дайте в градусах.



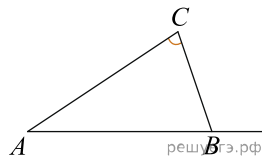
6.

В треугольнике ABC угол A равен 36° , внешний угол при вершине B равен 118° . Найдите угол C . Ответ дайте в градусах.



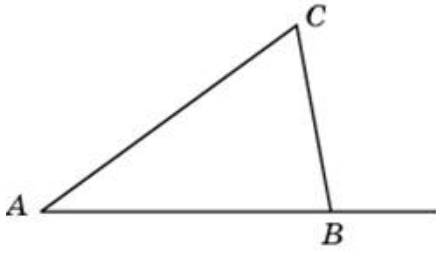
7.

В треугольнике ABC угол A равен 80° , внешний угол при вершине B равен 104° . Найдите угол C . Ответ дайте в градусах.



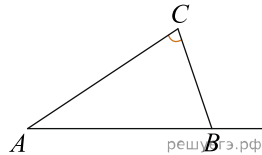
8.

В треугольнике ABC угол A равен 72° , внешний угол при вершине B равен 84° . Найдите угол C . Ответ дайте в градусах.



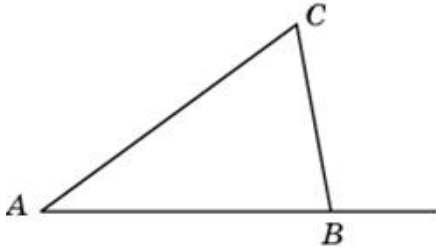
9.

В треугольнике ABC угол A равен 70° , внешний угол при вершине B равен 79° . Найдите угол C . Ответ дайте в градусах.



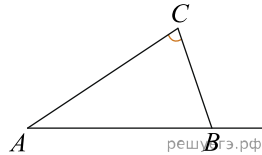
10.

В треугольнике ABC угол A равен 48° , внешний угол при вершине B равен 118° . Найдите угол C . Ответ дайте в градусах.



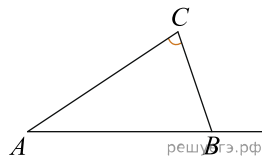
11.

В треугольнике ABC угол A равен 88° , внешний угол при вершине B равен 124° . Найдите угол C . Ответ дайте в градусах.



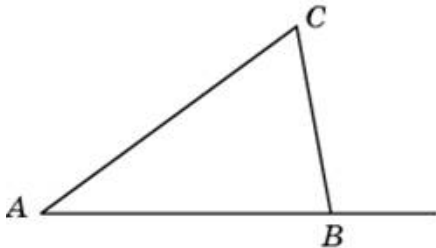
12.

В треугольнике ABC угол A равен 44° , внешний угол при вершине B равен 118° . Найдите угол C . Ответ дайте в градусах.



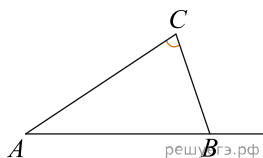
13.

В треугольнике ABC угол A равен 68° , внешний угол при вершине B равен 74° . Найдите угол C . Ответ дайте в градусах.



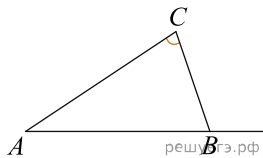
14.

В треугольнике ABC угол A равен 30° , внешний угол при вершине B равен 120° . Найдите угол C . Ответ дайте в градусах.



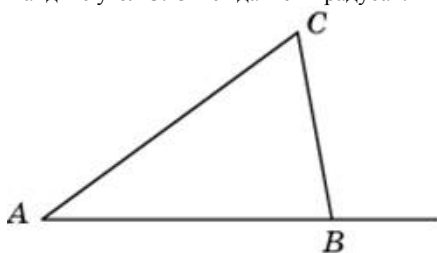
15.

В треугольнике ABC угол A равен 66° , внешний угол при вершине B равен 69° . Найдите угол C . Ответ дайте в градусах.



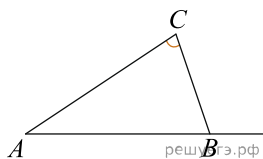
16.

В треугольнике ABC угол A равен 8° , внешний угол при вершине B равен 25° . Найдите угол C . Ответ дайте в градусах.



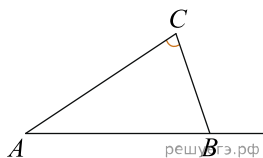
17.

В треугольнике ABC угол A равен 42° , внешний угол при вершине B равен 118° . Найдите угол C . Ответ дайте в градусах.



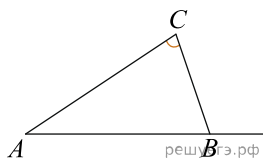
18.

В треугольнике ABC угол A равен 54° , внешний угол при вершине B равен 118° . Найдите угол C . Ответ дайте в градусах.



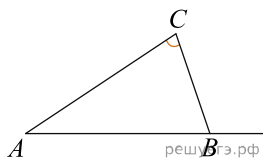
19.

В треугольнике ABC угол A равен 31° , внешний угол при вершине B равен 119° . Найдите угол C . Ответ дайте в градусах.



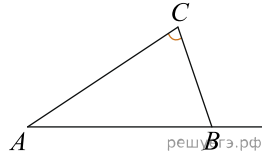
20.

В треугольнике ABC угол A равен 24° , внешний угол при вершине B равен 73° . Найдите угол C . Ответ дайте в градусах.



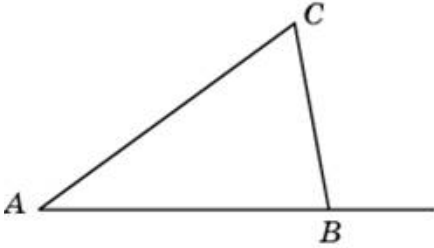
21.

В треугольнике ABC угол A равен 29° , внешний угол при вершине B равен 121° . Найдите угол C . Ответ дайте в градусах.



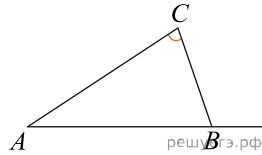
22.

В треугольнике ABC угол A равен 20° , внешний угол при вершине B равен 61° . Найдите угол C . Ответ дайте в градусах.



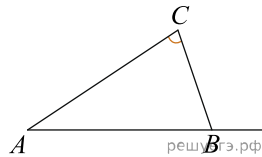
23.

В треугольнике ABC угол A равен 22° , внешний угол при вершине B равен 67° . Найдите угол C . Ответ дайте в градусах.



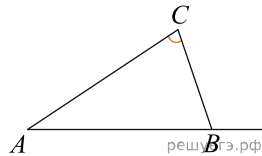
24.

В треугольнике ABC угол A равен 23° , внешний угол при вершине B равен 70° . Найдите угол C . Ответ дайте в градусах.



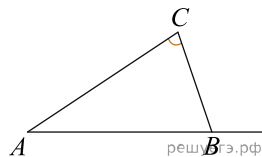
25.

В треугольнике ABC угол A равен 60° , внешний угол при вершине B равен 118° . Найдите угол C . Ответ дайте в градусах.



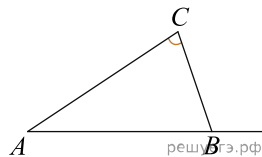
26.

В треугольнике ABC угол A равен 56° , внешний угол при вершине B равен 118° . Найдите угол C . Ответ дайте в градусах.



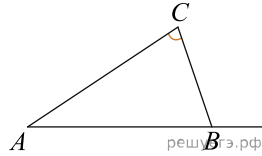
27.

В треугольнике ABC угол A равен 64° , внешний угол при вершине B равен 118° . Найдите угол C . Ответ дайте в градусах.



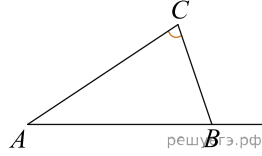
28.

В треугольнике ABC угол A равен 90° , внешний угол при вершине B равен 129° . Найдите угол C . Ответ дайте в градусах.



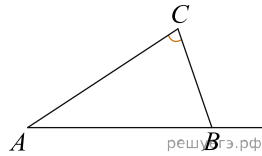
29.

В треугольнике ABC угол A равен 52° , внешний угол при вершине B равен 118° . Найдите угол C . Ответ дайте в градусах.



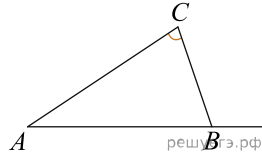
30.

В треугольнике ABC угол A равен 92° , внешний угол при вершине B равен 134° . Найдите угол C . Ответ дайте в градусах.



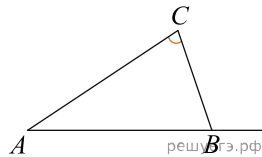
31.

В треугольнике ABC угол A равен 74° , внешний угол при вершине B равен 89° . Найдите угол C . Ответ дайте в градусах.



32.

В треугольнике ABC угол A равен 28° , внешний угол при вершине B равен 122° . Найдите угол C . Ответ дайте в градусах.



33.

В треугольнике ABC угол A равен 46° , внешний угол при вершине B равен 118° . Найдите угол C . Ответ дайте в градусах.

