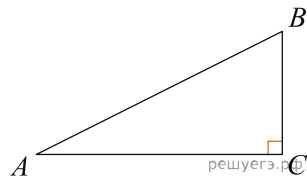
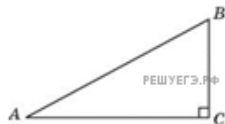


1.

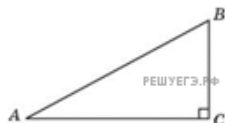
Один острый угол прямоугольного треугольника на 32° больше другого. Найдите больший острый угол. Ответ дайте в градусах.



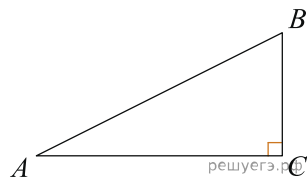
2. Один острый угол прямоугольного треугольника на 6° больше другого. Найдите больший острый угол. Ответ дайте в градусах.



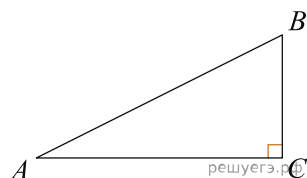
3. Один острый угол прямоугольного треугольника на 38° больше другого. Найдите больший острый угол. Ответ дайте в градусах.



4. Один острый угол прямоугольного треугольника на 6° больше другого. Найдите больший острый угол. Ответ дайте в градусах.

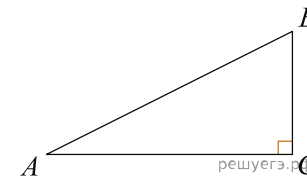


5. Один острый угол прямоугольного треугольника на 42° больше другого. Найдите больший острый угол. Ответ дайте в градусах.



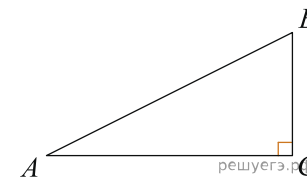
6.

Один острый угол прямоугольного треугольника на 38° больше другого. Найдите больший острый угол. Ответ дайте в градусах.



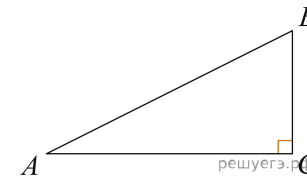
7.

Один острый угол прямоугольного треугольника на 1° больше другого. Найдите больший острый угол. Ответ дайте в градусах.



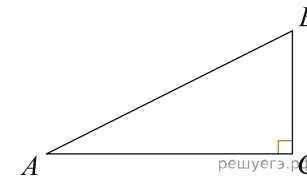
8.

Один острый угол прямоугольного треугольника на 60° больше другого. Найдите больший острый угол. Ответ дайте в градусах.



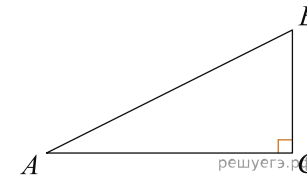
9.

Один острый угол прямоугольного треугольника на 29° больше другого. Найдите больший острый угол. Ответ дайте в градусах.



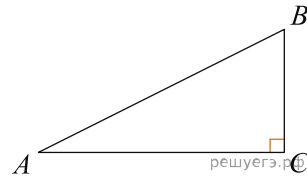
10.

Один острый угол прямоугольного треугольника на 85° больше другого. Найдите больший острый угол. Ответ дайте в градусах.



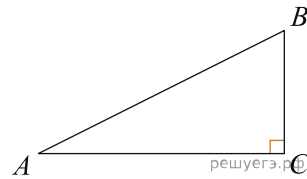
11.

Один острый угол прямоугольного треугольника на 26° больше другого. Найдите больший острый угол. Ответ дайте в градусах.



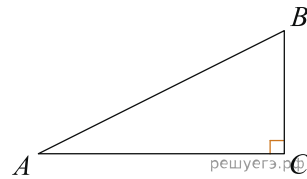
12.

Один острый угол прямоугольного треугольника на 22° больше другого. Найдите больший острый угол. Ответ дайте в градусах.



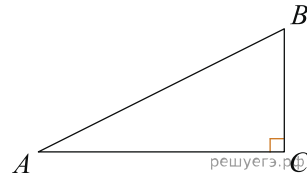
13.

Один острый угол прямоугольного треугольника на 50° больше другого. Найдите больший острый угол. Ответ дайте в градусах.



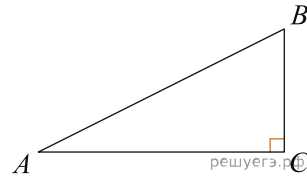
14.

Один острый угол прямоугольного треугольника на 56° больше другого. Найдите больший острый угол. Ответ дайте в градусах.




15.

Один острый угол прямоугольного треугольника на 40° больше другого. Найдите больший острый угол. Ответ дайте в градусах.



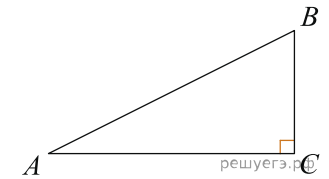
16.

Один острый угол прямоугольного треугольника на 66° больше другого. Найдите больший острый угол. Ответ дайте в градусах.



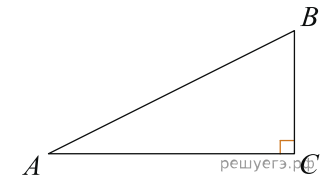
17.

Один острый угол прямоугольного треугольника на 71° больше другого. Найдите больший острый угол. Ответ дайте в градусах.



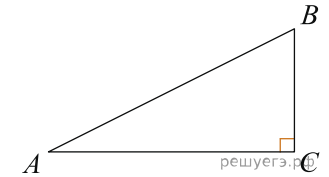
18.

Один острый угол прямоугольного треугольника на 52° больше другого. Найдите больший острый угол. Ответ дайте в градусах.



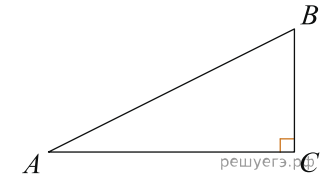
19.

Один острый угол прямоугольного треугольника на 24° больше другого. Найдите больший острый угол. Ответ дайте в градусах.



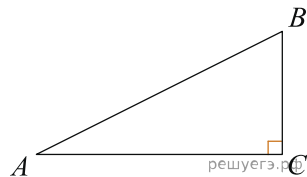
20.

Один острый угол прямоугольного треугольника на 64° больше другого. Найдите больший острый угол. Ответ дайте в градусах.



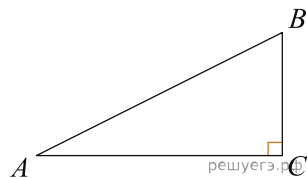
21.

Один острый угол прямоугольного треугольника на 32° больше другого. Найдите больший острый угол. Ответ дайте в градусах.

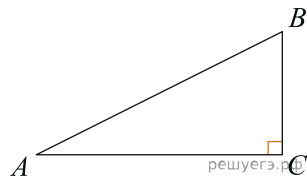


22.

Один острый угол прямоугольного треугольника на 76° больше другого. Найдите больший острый угол. Ответ дайте в градусах.

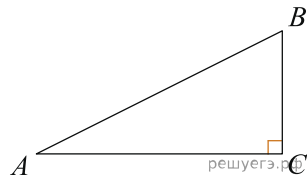


23. Один острый угол прямоугольного треугольника на 78° больше другого. Найдите больший острый угол. Ответ дайте в градусах.



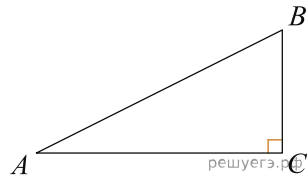
24.

Один острый угол прямоугольного треугольника на 65° больше другого. Найдите больший острый угол. Ответ дайте в градусах.



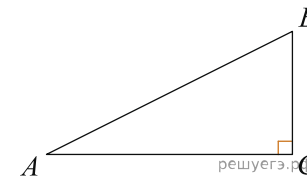
25.

Один острый угол прямоугольного треугольника на 47° больше другого. Найдите больший острый угол. Ответ дайте в градусах.



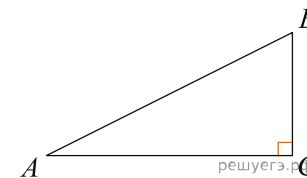
26.

Один острый угол прямоугольного треугольника на 82° больше другого. Найдите больший острый угол. Ответ дайте в градусах.



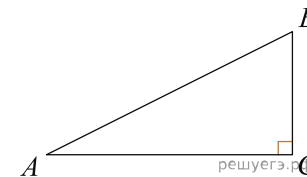
27.

Один острый угол прямоугольного треугольника на 2° больше другого. Найдите больший острый угол. Ответ дайте в градусах.



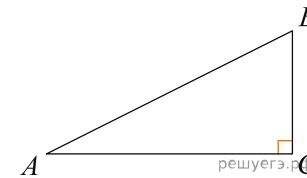
28.

Один острый угол прямоугольного треугольника на 89° больше другого. Найдите больший острый угол. Ответ дайте в градусах.



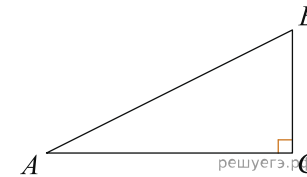
29.

Один острый угол прямоугольного треугольника на 74° больше другого. Найдите больший острый угол. Ответ дайте в градусах.



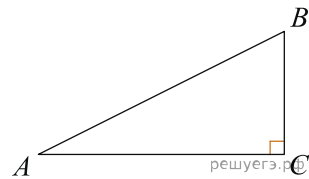
30.

Один острый угол прямоугольного треугольника на 73° больше другого. Найдите больший острый угол. Ответ дайте в градусах.



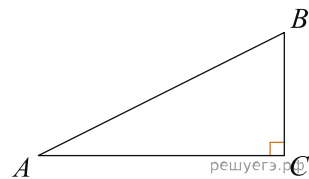
31.

Один острый угол прямоугольного треугольника на 75° больше другого. Найдите больший острый угол. Ответ дайте в градусах.



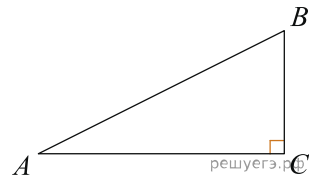
32.

Один острый угол прямоугольного треугольника на 3° больше другого. Найдите больший острый угол. Ответ дайте в градусах.



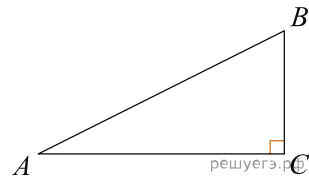
33.

Один острый угол прямоугольного треугольника на 4° больше другого. Найдите больший острый угол. Ответ дайте в градусах.



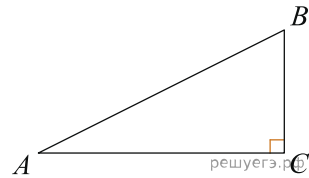
34.

Один острый угол прямоугольного треугольника на 34° больше другого. Найдите больший острый угол. Ответ дайте в градусах.



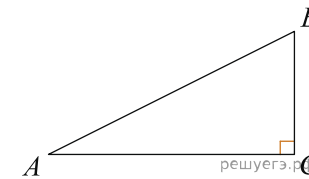
35.

Один острый угол прямоугольного треугольника на 20° больше другого. Найдите больший острый угол. Ответ дайте в градусах.



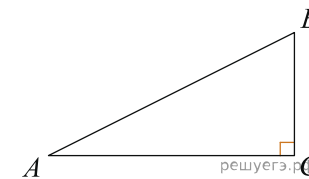
36.

Один острый угол прямоугольного треугольника на 53° больше другого. Найдите больший острый угол. Ответ дайте в градусах.



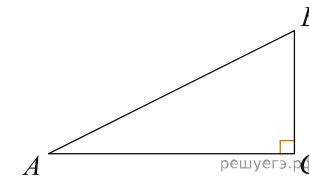
37.

Один острый угол прямоугольного треугольника на 88° больше другого. Найдите больший острый угол. Ответ дайте в градусах.



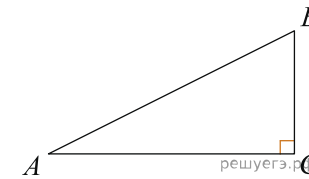
38.

Один острый угол прямоугольного треугольника на 80° больше другого. Найдите больший острый угол. Ответ дайте в градусах.



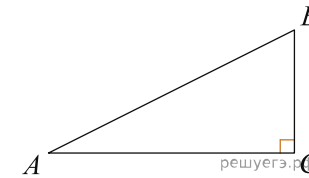
39.

Один острый угол прямоугольного треугольника на 58° больше другого. Найдите больший острый угол. Ответ дайте в градусах.



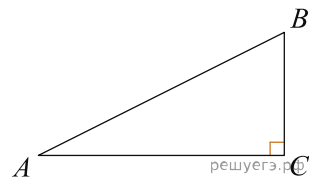
40.

Один острый угол прямоугольного треугольника на 49° больше другого. Найдите больший острый угол. Ответ дайте в градусах.



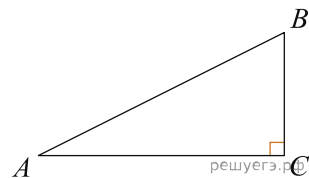
41.

Один острый угол прямоугольного треугольника на 68° больше другого. Найдите больший острый угол. Ответ дайте в градусах.



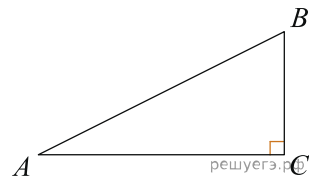
42.

Один острый угол прямоугольного треугольника на 17° больше другого. Найдите больший острый угол. Ответ дайте в градусах.



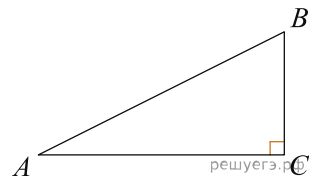
43.

Один острый угол прямоугольного треугольника на 14° больше другого. Найдите больший острый угол. Ответ дайте в градусах.



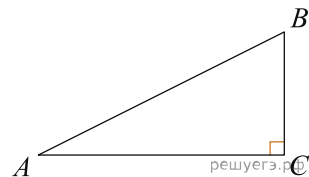
44.

Один острый угол прямоугольного треугольника на 57° больше другого. Найдите больший острый угол. Ответ дайте в градусах.



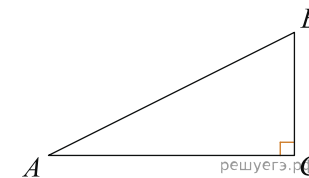
45.

Один острый угол прямоугольного треугольника на 23° больше другого. Найдите больший острый угол. Ответ дайте в градусах.



46.

Один острый угол прямоугольного треугольника на 31° больше другого. Найдите больший острый угол. Ответ дайте в градусах.



47.

Один острый угол прямоугольного треугольника на 7° больше другого. Найдите больший острый угол. Ответ дайте в градусах.

