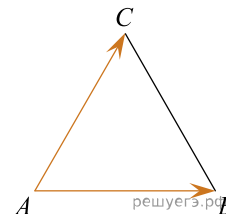


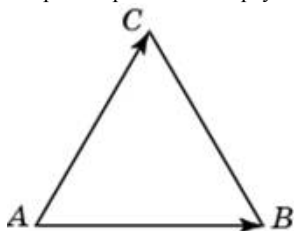
1. Стороны правильного треугольника ABC равны 3. Найдите скалярное произведение векторов \vec{AB} и \vec{AC} .



2. Стороны правильного треугольника ABC равны 36. Найдите скалярное произведение векторов \vec{AB} и \vec{AC} .

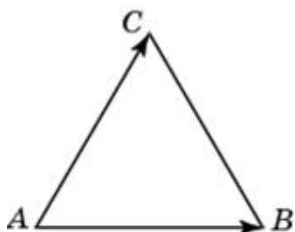
3.

Стороны правильного треугольника ABC равны 35. Найдите скалярное произведение векторов \vec{AB} и \vec{AC} .



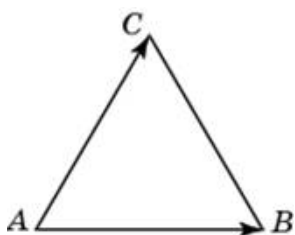
4.

Стороны правильного треугольника ABC равны 12. Найдите скалярное произведение векторов \vec{AB} и \vec{AC} .



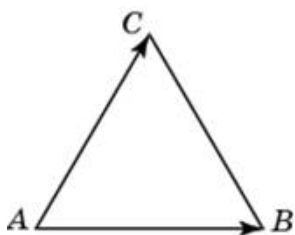
5.

Стороны правильного треугольника ABC равны 34. Найдите скалярное произведение векторов \vec{AB} и \vec{AC} .



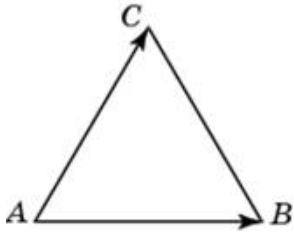
6.

Стороны правильного треугольника ABC равны 14. Найдите скалярное произведение векторов \vec{AB} и \vec{AC} .



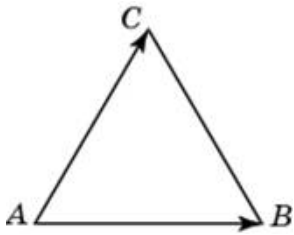
7.

Стороны правильного треугольника ABC равны 29. Найдите скалярное произведение векторов \vec{AB} и \vec{AC} .



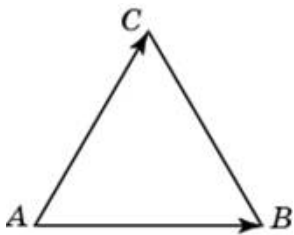
8.

Стороны правильного треугольника ABC равны 25. Найдите скалярное произведение векторов \vec{AB} и \vec{AC} .



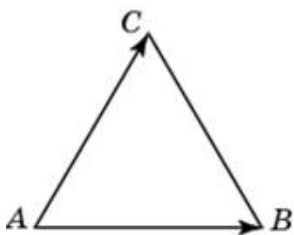
9.

Стороны правильного треугольника ABC равны 28. Найдите скалярное произведение векторов \vec{AB} и \vec{AC} .



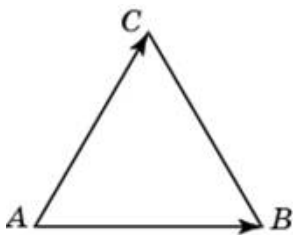
10.

Стороны правильного треугольника ABC равны 27. Найдите скалярное произведение векторов \vec{AB} и \vec{AC} .



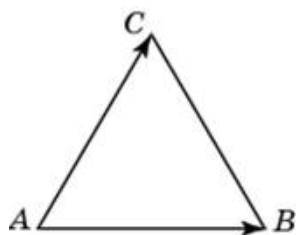
11.

Стороны правильного треугольника ABC равны 16. Найдите скалярное произведение векторов \vec{AB} и \vec{AC} .



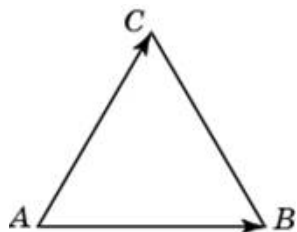
12.

Стороны правильного треугольника ABC равны 45. Найдите скалярное произведение векторов \vec{AB} и \vec{AC} .



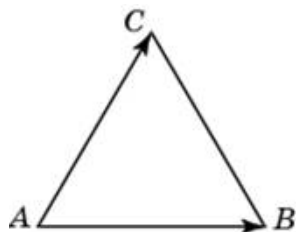
13.

Стороны правильного треугольника ABC равны 11. Найдите скалярное произведение векторов \vec{AB} и \vec{AC} .



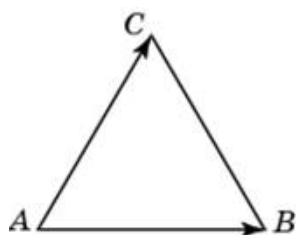
14.

Стороны правильного треугольника ABC равны 43. Найдите скалярное произведение векторов \vec{AB} и \vec{AC} .



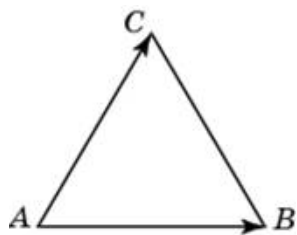
15.

Стороны правильного треугольника ABC равны 5. Найдите скалярное произведение векторов \vec{AB} и \vec{AC} .



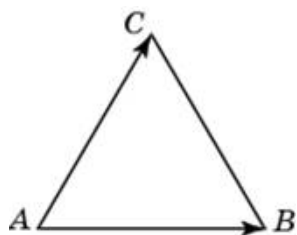
16.

Стороны правильного треугольника ABC равны 26. Найдите скалярное произведение векторов \vec{AB} и \vec{AC} .



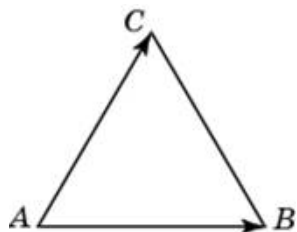
17.

Стороны правильного треугольника ABC равны 46. Найдите скалярное произведение векторов \vec{AB} и \vec{AC} .



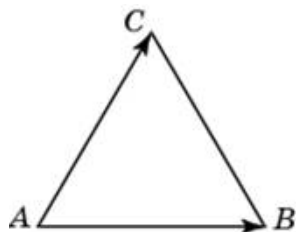
18.

Стороны правильного треугольника ABC равны 8. Найдите скалярное произведение векторов \vec{AB} и \vec{AC} .



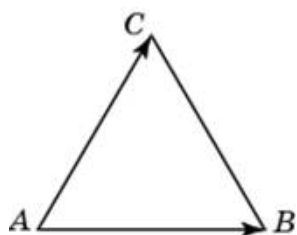
19.

Стороны правильного треугольника ABC равны 44. Найдите скалярное произведение векторов \vec{AB} и \vec{AC} .



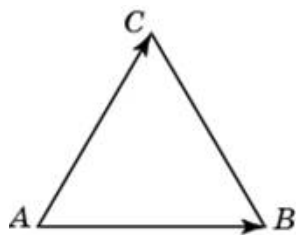
20.

Стороны правильного треугольника ABC равны 48. Найдите скалярное произведение векторов \vec{AB} и \vec{AC} .



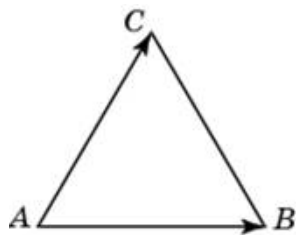
21.

Стороны правильного треугольника ABC равны 24. Найдите скалярное произведение векторов \vec{AB} и \vec{AC} .



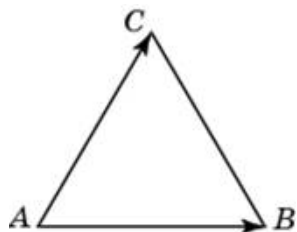
22.

Стороны правильного треугольника ABC равны 17. Найдите скалярное произведение векторов \vec{AB} и \vec{AC} .



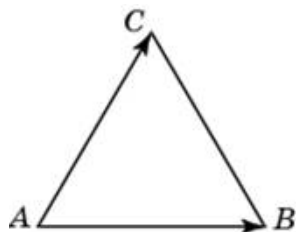
23.

Стороны правильного треугольника ABC равны 30. Найдите скалярное произведение векторов \vec{AB} и \vec{AC} .



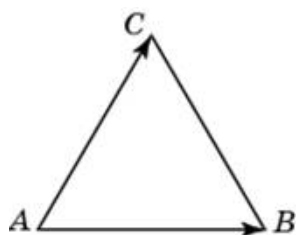
24.

Стороны правильного треугольника ABC равны 20. Найдите скалярное произведение векторов \vec{AB} и \vec{AC} .



25.

Стороны правильного треугольника ABC равны 21. Найдите скалярное произведение векторов \vec{AB} и \vec{AC} .



26.

Стороны правильного треугольника ABC равны 15. Найдите скалярное произведение векторов \vec{AB} и \vec{AC} .

