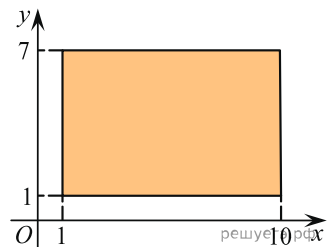


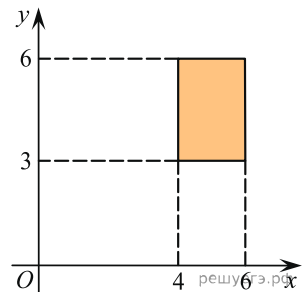
1.

Найдите площадь прямоугольника, вершины которого имеют координаты $(1;1)$, $(10;1)$, $(10;7)$, $(1;7)$.



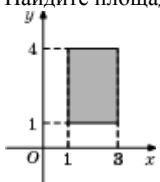
2.

Найдите площадь прямоугольника, изображенного на рисунке.



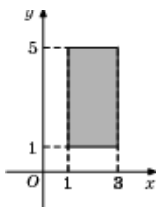
3.

Найдите площадь прямоугольника, изображенного на рисунке.



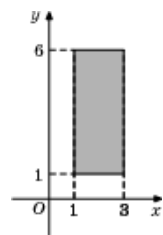
4.

Найдите площадь прямоугольника, изображенного на рисунке.



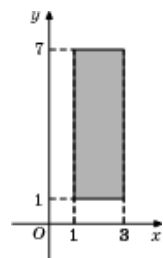
5.

Найдите площадь прямоугольника, изображенного на рисунке.



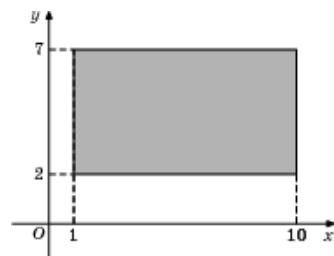
6.

Найдите площадь прямоугольника, изображенного на рисунке.



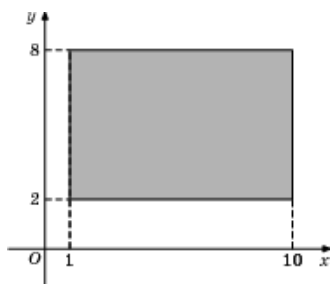
7.

Найдите площадь прямоугольника, вершины которого имеют координаты $(1;2)$, $(10;2)$, $(10;7)$, $(1;7)$.



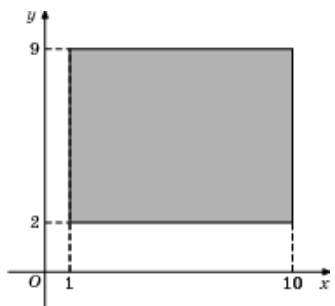
8.

Найдите площадь прямоугольника, вершины которого имеют координаты $(1;2)$, $(10;2)$, $(10;8)$, $(1;8)$.



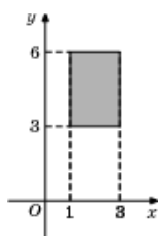
9.

Найдите площадь прямоугольника, вершины которого имеют координаты $(1;2)$, $(10;2)$, $(10;9)$, $(1;9)$.



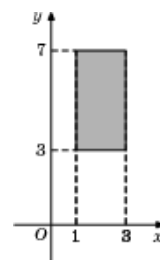
10.

Найдите площадь прямоугольника, изображенного на рисунке.



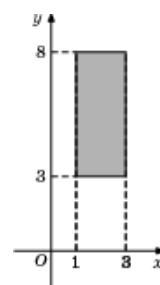
11.

Найдите площадь прямоугольника, изображенного на рисунке.



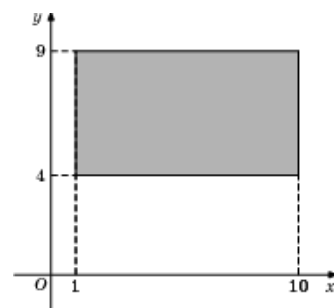
12.

Найдите площадь прямоугольника, изображенной на рисунке.



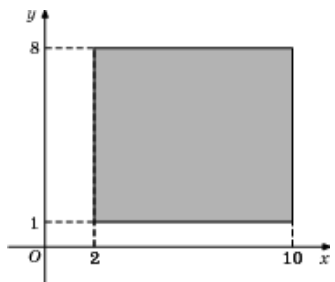
13.

Найдите площадь прямоугольника, вершины которого имеют координаты $(1;4)$, $(10;4)$, $(10;9)$, $(1;9)$.



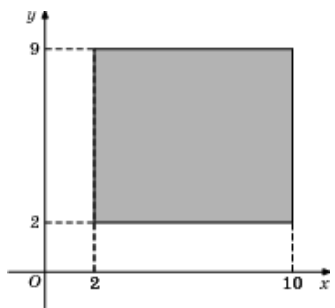
14.

Найдите площадь прямоугольника, вершины которого имеют координаты $(2;1)$, $(10;1)$, $(10;8)$, $(2;8)$.



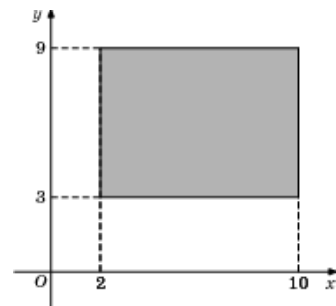
15.

Найдите площадь прямоугольника, вершины которого имеют координаты $(2;2)$, $(10;2)$, $(10;9)$, $(2;9)$.



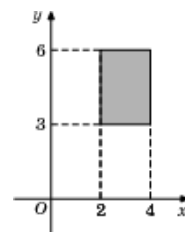
16.

Найдите площадь прямоугольника, вершины которого имеют координаты $(2;3)$, $(10;3)$, $(10;9)$, $(2;9)$.



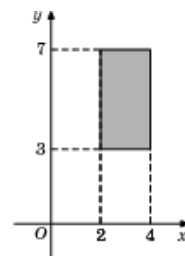
17.

Найдите площадь прямоугольника, изображенной на рисунке.



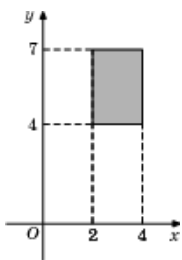
18.

Найдите площадь прямоугольника, изображенной на рисунке.



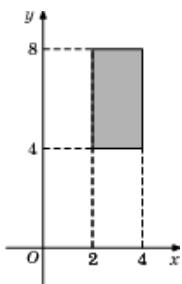
19.

Найдите площадь прямоугольника, изображенной на рисунке.



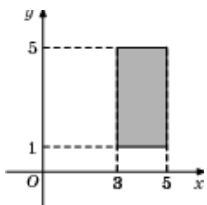
20.

Найдите площадь прямоугольника, изображенной на рисунке.



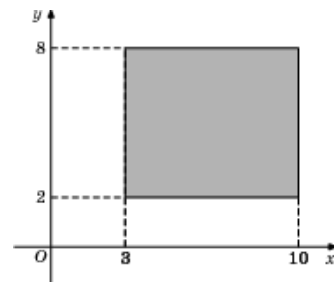
21.

Найдите площадь прямоугольника, изображенной на рисунке.



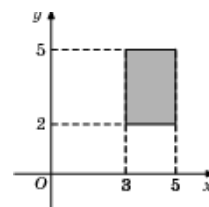
22.

Найдите площадь прямоугольника, вершины которого имеют координаты (3;2), (10;2), (10;8), (3;8).



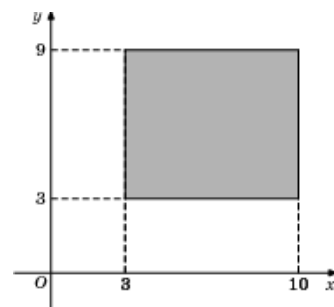
23.

Найдите площадь прямоугольника, изображенной на рисунке.



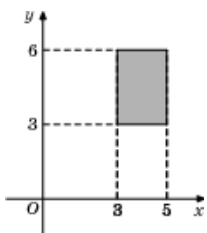
24.

Найдите площадь прямоугольника, вершины которого имеют координаты (3;3), (10;3), (10;9), (3;9).



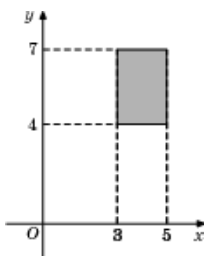
25.

Найдите площадь прямоугольника, изображенной на рисунке.



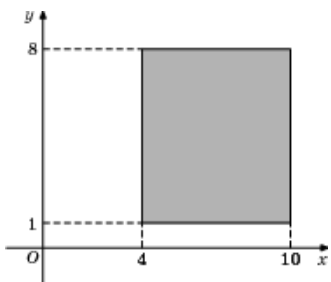
26.

Найдите площадь прямоугольника, изображенной на рисунке.



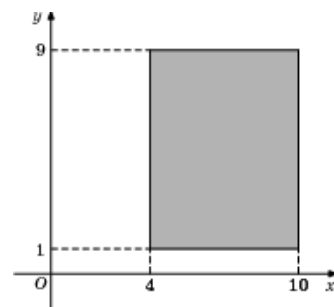
27.

Найдите площадь прямоугольника, вершины которого имеют координаты (4;1), (10;1), (10;8), (4;8).



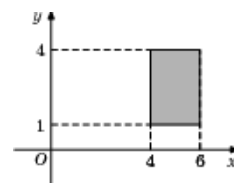
28.

Найдите площадь прямоугольника, вершины которого имеют координаты (4;1), (10;1), (10;9), (4;9).



29.

Найдите площадь прямоугольника, изображенной на рисунке.



30.

Найдите площадь прямоугольника, изображенной на рисунке.

