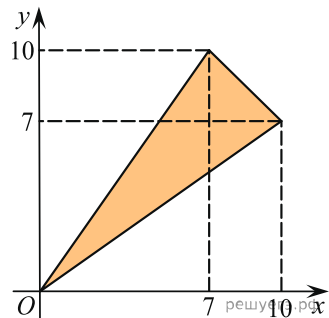


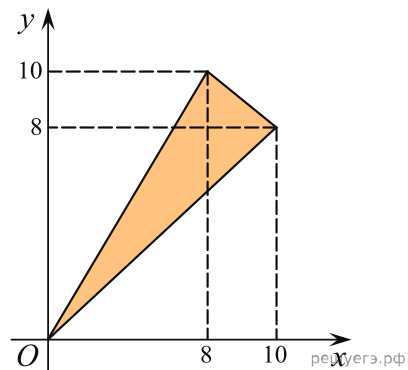
1.

Найдите площадь треугольника, вершины которого имеют координаты $(0;0)$, $(10;7)$, $(7;10)$.



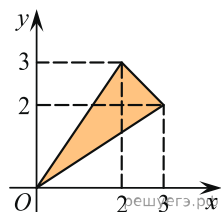
2.

Найдите площадь треугольника, вершины которого имеют координаты $(0;0)$, $(10;8)$, $(8;10)$.



3.

Найдите площадь треугольника, изображенного на рисунке.



4.

Найдите площадь треугольника, изображенного на рисунке.

