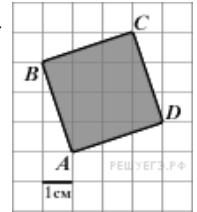
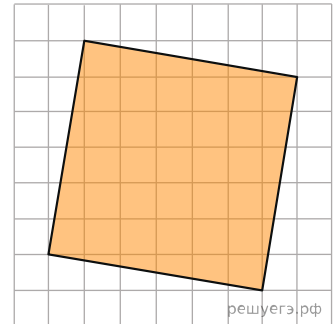


1. Найдите площадь квадрата $ABCD$, считая стороны квадратных клеток равными 1.

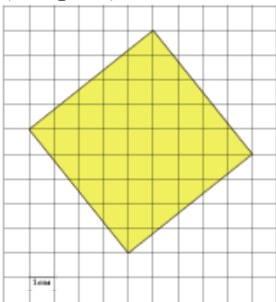


2. Найдите площадь квадрата, изображенного на клетчатой бумаге с размером клетки $1\text{ см} \times 1\text{ см}$ (см. рис.). Ответ дайте в квадратных сантиметрах.



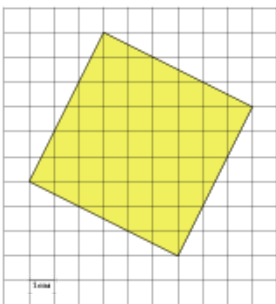
3.

Найдите площадь квадрата, изображенного на клетчатой бумаге с размером клетки $1\text{ см} \times 1\text{ см}$ (см. рис.). Ответ дайте в квадратных сантиметрах.



4.

Найдите площадь квадрата, изображенного на клетчатой бумаге с размером клетки $1\text{ см} \times 1\text{ см}$ (см. рис.). Ответ дайте в квадратных сантиметрах.




5.

Найдите площадь квадрата, изображенного на клетчатой бумаге с размером клетки $1\text{ см} \times 1\text{ см}$ (см. рис.). Ответ дайте в квадратных сантиметрах.



6.

Найдите площадь квадрата, изображенного на клетчатой бумаге с размером клетки 1 см \times 1 см (см. рис.). Ответ дайте в квадратных сантиметрах.



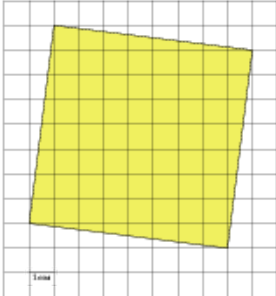
7.

Найдите площадь квадрата, изображенного на клетчатой бумаге с размером клетки 1 см \times 1 см (см. рис.). Ответ дайте в квадратных сантиметрах.




8.

Найдите площадь квадрата, изображенного на клетчатой бумаге с размером клетки 1 см \times 1 см (см. рис.). Ответ дайте в квадратных сантиметрах.




9.

Найдите площадь квадрата, изображенного на клетчатой бумаге с размером клетки 1 см \times 1 см (см. рис.). Ответ дайте в квадратных сантиметрах.




10.

Найдите площадь квадрата, изображенного на клетчатой бумаге с размером клетки $1\text{ см} \times 1\text{ см}$ (см. рис.). Ответ дайте в квадратных сантиметрах.



11.

Найдите площадь квадрата, изображенного на клетчатой бумаге с размером клетки $1\text{ см} \times 1\text{ см}$ (см. рис.). Ответ дайте в квадратных сантиметрах.



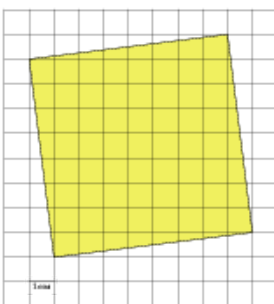
12.

Найдите площадь квадрата, изображенного на клетчатой бумаге с размером клетки $1\text{ см} \times 1\text{ см}$ (см. рис.). Ответ дайте в квадратных сантиметрах.



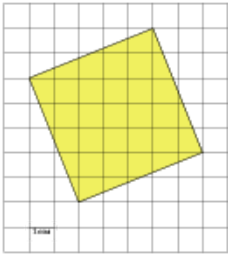
13.

Найдите площадь квадрата, изображенного на клетчатой бумаге с размером клетки $1\text{ см} \times 1\text{ см}$ (см. рис.). Ответ дайте в квадратных сантиметрах.




14.

Найдите площадь квадрата, изображенного на клетчатой бумаге с размером клетки $1\text{ см} \times 1\text{ см}$ (см. рис.). Ответ дайте в квадратных сантиметрах.



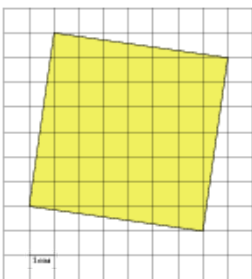
15.

Найдите площадь квадрата, изображенного на клетчатой бумаге с размером клетки $1\text{ см} \times 1\text{ см}$ (см. рис.). Ответ дайте в квадратных сантиметрах.



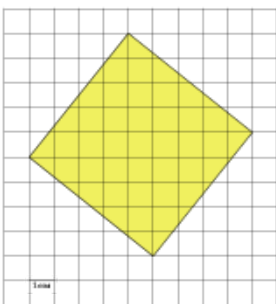
16.

Найдите площадь квадрата, изображенного на клетчатой бумаге с размером клетки $1\text{ см} \times 1\text{ см}$ (см. рис.). Ответ дайте в квадратных сантиметрах.




17.

Найдите площадь квадрата, изображенного на клетчатой бумаге с размером клетки $1\text{ см} \times 1\text{ см}$ (см. рис.). Ответ дайте в квадратных сантиметрах.



18.

Найдите площадь квадрата, изображенного на клетчатой бумаге с размером клетки $1\text{ см} \times 1\text{ см}$ (см. рис.). Ответ дайте в квадратных сантиметрах.



19.

Найдите площадь квадрата, изображенного на клетчатой бумаге с размером клетки $1\text{ см} \times 1\text{ см}$ (см. рис.). Ответ дайте в квадратных сантиметрах.

