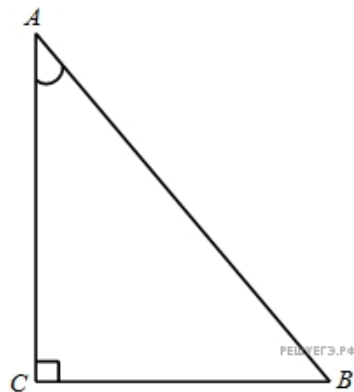
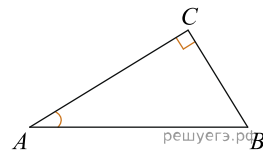


1. В треугольнике ABC угол C равен 90° , $AC = 4$, $\cos A = 0,5$. Найдите AB .



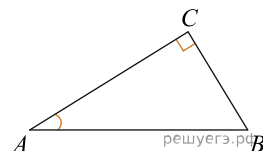
2.

В треугольнике ABC угол C равен 90° , $AC = 2$, $\cos A = 0,1$. Найдите AB .



3.

В треугольнике ABC угол C равен 90° , $AC = 4$, $\cos A = 0,2$. Найдите AB .



4.

В треугольнике ABC угол C равен 90° , $AC = 1$, $\cos A = 0,2$. Найдите AB .

5.

В треугольнике ABC угол C равен 90° , $AC = 7$, $\cos A = 0,5$. Найдите AB .

6.

В треугольнике ABC угол C равен 90° , $AC = 2$, $\cos A = 0,5$. Найдите AB .

7.

В треугольнике ABC угол C равен 90° , $AC = 2$, $\cos A = 0,25$. Найдите AB .

8.

В треугольнике ABC угол C равен 90° , $AC = 5$, $\cos A = 0,25$. Найдите AB .

9.

В треугольнике ABC угол C равен 90° , $AC = 3$, $\cos A = 0,5$. Найдите AB .

10.

В треугольнике ABC угол C равен 90° , $AC = 2$, $\cos A = 0,4$. Найдите AB .

11. В треугольнике ABC угол C равен 90° , $AC = 2$, $\cos A = 0,2$. Найдите AB .

12. В треугольнике ABC угол C равен 90° , $AC = 9$, $\cos A = 0,5$. Найдите AB .

13. В треугольнике ABC угол C равен 90° , $AC = 10$, $\cos A = 0,5$. Найдите AB .

14. В треугольнике ABC угол C равен 90° , $AC = 3$, $\cos A = 0,3$. Найдите AB .

15.

В треугольнике ABC угол C равен 90° , $AC = 12$, $\cos A = 0,8$. Найдите AB .

16.

В треугольнике ABC угол C равен 90° , $AC = 8$, $\cos A = 0,4$. Найдите AB .

17. В треугольнике ABC угол C равен 90° , $AC = 1$, $\cos A = 0,5$. Найдите AB .

18. В треугольнике ABC угол C равен 90° , $AC = 9$, $\cos A = 0,75$. Найдите AB .

19. В треугольнике ABC угол C равен 90° , $AC = 6$, $\cos A = 0,3$. Найдите AB .

20.

В треугольнике ABC угол C равен 90° , $AC = 4$, $\cos A = 0,4$. Найдите AB .

21.

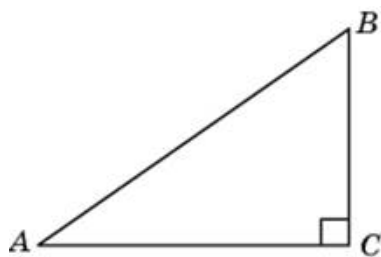
В треугольнике ABC угол C равен 90° , $AC = 3$, $\cos A = 0,6$. Найдите AB .

22.

В треугольнике ABC угол C равен 90° , $AC = 4$, $\cos A = 0,25$. Найдите AB .

23.

В треугольнике ABC угол C равен 90° , $\cos A = \frac{2}{3}$, $AC = 8$. Найдите AB .



24.

В треугольнике ABC угол C равен 90° , $AC = 16$, $\cos A = 0,8$. Найдите AB .

25.

В треугольнике ABC угол C равен 90° , $AC = 3$, $\cos A = 0,25$. Найдите AB .

26.

В треугольнике ABC угол C равен 90° , $AC = 14$, $\cos A = 0,7$. Найдите AB .

27.

В треугольнике ABC угол C равен 90° , $AC = 9$, $\cos A = 0,6$. Найдите AB .

28.

В треугольнике ABC угол C равен 90° , $AC = 6$, $\cos A = 0,6$. Найдите AB .

29.

В треугольнике ABC угол C равен 90° , $AC = 6$, $\cos A = 0,5$. Найдите AB .

30.

В треугольнике ABC угол C равен 90° , $AC = 3$, $\cos A = 0,2$. Найдите AB .

31.

В треугольнике ABC угол C равен 90° , $AC = 5$, $\cos A = 0,5$. Найдите AB .

32.

В треугольнике ABC угол C равен 90° , $AC = 3$, $\cos A = 0,75$. Найдите AB .

33.

В треугольнике ABC угол C равен 90° , $AC = 12$, $\cos A = 0,6$. Найдите AB .

34.

В треугольнике ABC угол C равен 90° , $AC = 1$, $\cos A = 0,25$. Найдите AB .

35.

В треугольнике ABC угол C равен 90° , $AC = 12$, $\cos A = 0,75$. Найдите AB .

36.

В треугольнике ABC угол C равен 90° , $AC = 6$, $\cos A = 0,75$. Найдите AB .

37.

В треугольнике ABC угол C равен 90° , $AC = 7$, $\cos A = 0,7$. Найдите AB .

38.

В треугольнике ABC угол C равен 90° , $AC = 6$, $\cos A = 0,4$. Найдите AB .

39.

В треугольнике ABC угол C равен 90° , $AC = 8$, $\cos A = 0,8$. Найдите AB .

40.

В треугольнике ABC угол C равен 90° , $AC = 4$, $\cos A = 0,8$. Найдите AB .

41.

В треугольнике ABC угол C равен 90° , $AC = 1$, $\cos A = 0,1$. Найдите AB .

42.

В треугольнике ABC угол C равен 90° , $AC = 18$, $\cos A = 0,9$. Найдите AB .

43.

В треугольнике ABC угол C равен 90° , $AC = 8$, $\cos A = 0,5$. Найдите AB .

44.

В треугольнике ABC угол C равен 90° , $AC = 9$, $\cos A = 0,9$. Найдите AB .

45.

В треугольнике ABC угол C равен 90° , $AC = 15$, $\cos A = 0,75$. Найдите AB .