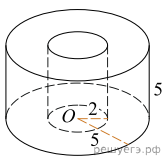
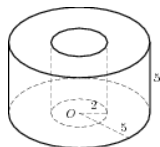


1. Найдите объем V части цилиндра, изображенной на рисунке. В ответе укажите V/π .



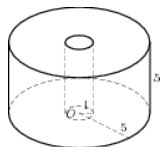
2.

Найдите объем V части цилиндра, изображенной на рисунке. В ответе укажите V/π .



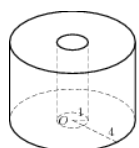
3.

Найдите объем V части цилиндра, изображенной на рисунке. В ответе укажите V/π .



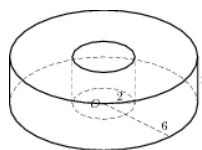
4.

Найдите объем V части цилиндра, изображенной на рисунке. В ответе укажите V/π .



5.

Найдите объем V части цилиндра, изображенной на рисунке. В ответе укажите V/π .



6.

Найдите объем V части цилиндра, изображенной на рисунке. В ответе укажите V/π .

