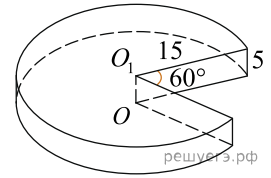


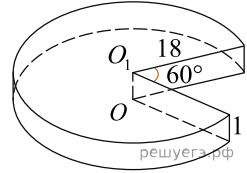
1.

Найдите объем  $V$  части цилиндра, изображенной на рисунке. В ответе укажите  $\frac{V}{\pi}$ .



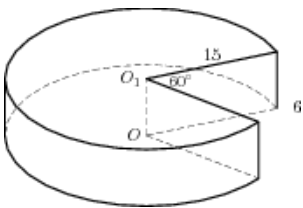
2.

Найдите объем  $V$  части цилиндра, изображенной на рисунке. В ответе укажите  $V/\pi$ .



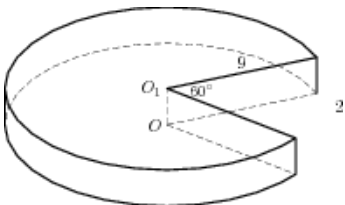
3.

Найдите объем  $V$  части цилиндра, изображенной на рисунке. В ответе укажите  $V/\pi$ .



4.

Найдите объем  $V$  части цилиндра, изображенной на рисунке. В ответе укажите  $V/\pi$ .



5.

Найдите объем  $V$  части цилиндра, изображенной на рисунке. В ответе укажите  $V/\pi$ .

