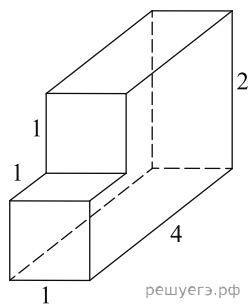
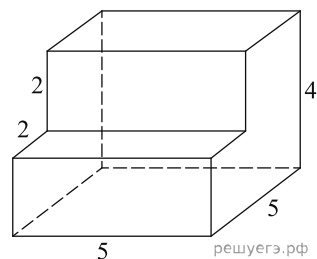


1. Найдите объем многогранника, изображенного на рисунке (все двугранные углы прямые).

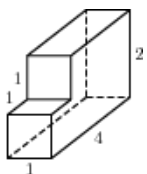


2. Найдите объем многогранника, изображенного на рисунке (все двугранные углы прямые).



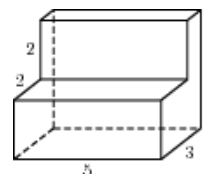
3.

Найдите объем многогранника, изображенного на рисунке (все двугранные углы прямые).



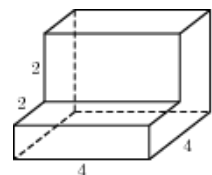
4.

Найдите объем многогранника, изображенного на рисунке (все двугранные углы прямые).



5.

Найдите объем многогранника, изображенного на рисунке (все двугранные углы прямые).



6.

Найдите объем многогранника, изображенного на рисунке (все двугранные углы прямые).

