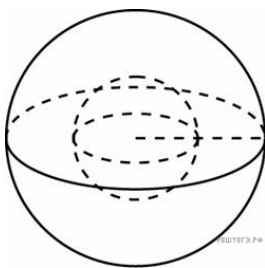
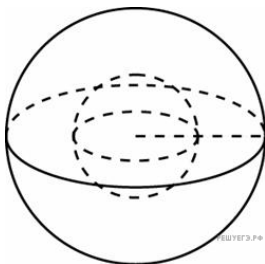


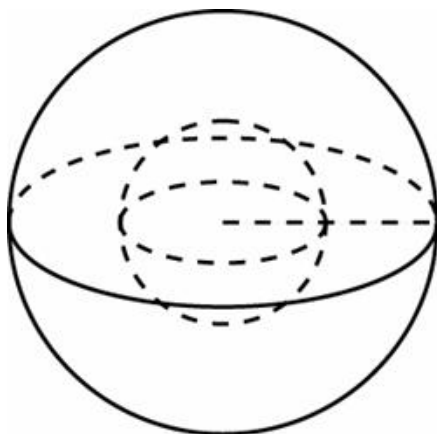
1. Во сколько раз увеличится площадь поверхности шара, если радиус шара увеличить в 2 раза?




2. Во сколько раз увеличится площадь поверхности шара, если радиус шара увеличить в 45 раз?



3. Во сколько раз увеличится площадь поверхности шара, если радиус шара увеличить в 2 раза?



4. Во сколько раз увеличится площадь поверхности шара, если его радиус увеличить в два раза?

 MA.OB10.B9.76/innerimg0.jpg

5.

Во сколько раз увеличится площадь поверхности шара, если радиус шара увеличить в 5 раз?

6.

Во сколько раз увеличится площадь поверхности шара, если радиус шара увеличить в 28 раз?

7.

Во сколько раз увеличится площадь поверхности шара, если радиус шара увеличить в 4 раза?

8.

Во сколько раз увеличится площадь поверхности шара, если радиус шара увеличить в 16 раз?

9.

Во сколько раз увеличится площадь поверхности шара, если радиус шара увеличить в 38 раз?

10.

Во сколько раз увеличится площадь поверхности шара, если радиус шара увеличить в 15 раз?

11.

Во сколько раз увеличится площадь поверхности шара, если радиус шара увеличить в 1,5 раза?

12.

Во сколько раз увеличится площадь поверхности шара, если радиус шара увеличить в 42 раза?

13.

Во сколько раз увеличится площадь поверхности шара, если радиус шара увеличить в 25 раз?

14.

Во сколько раз увеличится площадь поверхности шара, если радиус шара увеличить в 37 раз?

15.

Во сколько раз увеличится площадь поверхности шара, если радиус шара увеличить в 17 раз?

16.

Во сколько раз увеличится площадь поверхности шара, если радиус шара увеличить в 24 раза?

17.

Во сколько раз увеличится площадь поверхности шара, если радиус шара увеличить в 43 раза?

18.

Во сколько раз увеличится площадь поверхности шара, если радиус шара увеличить в 18 раз?

19.

Во сколько раз увеличится площадь поверхности шара, если радиус шара увеличить в 20 раз?

20.

Во сколько раз увеличится площадь поверхности шара, если радиус шара увеличить в 33 раза?

21.

Во сколько раз увеличится площадь поверхности шара, если радиус шара увеличить в 30 раз?

22.

Во сколько раз увеличится площадь поверхности шара, если радиус шара увеличить в 21 раз?

23.

Во сколько раз увеличится площадь поверхности шара, если радиус шара увеличить в 35 раз?

24.

Во сколько раз увеличится площадь поверхности шара, если радиус шара увеличить в 40 раз?

25.

Во сколько раз увеличится площадь поверхности шара, если радиус шара увеличить в 11 раз?

26.

Во сколько раз увеличится площадь поверхности шара, если радиус шара увеличить в 31 раз?