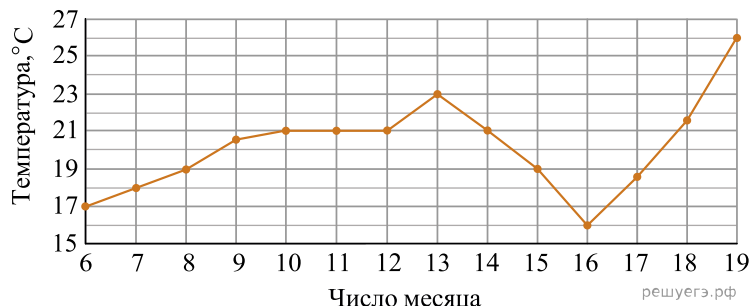
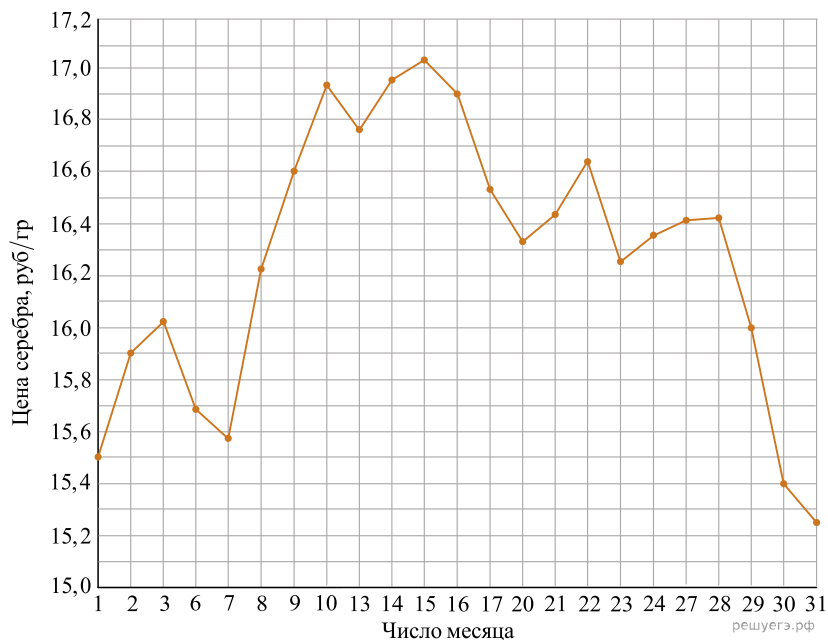


1. На рисунке жирными точками показана среднесуточная температура воздуха в Бресте каждый день с 6 по 19 июля 1981 года. По горизонтали указываются числа месяца, по вертикали — температура в градусах Цельсия. Для наглядности жирные точки соединены линией. Определите по рисунку, какая была температура 15 июля. Ответ дайте в градусах Цельсия.

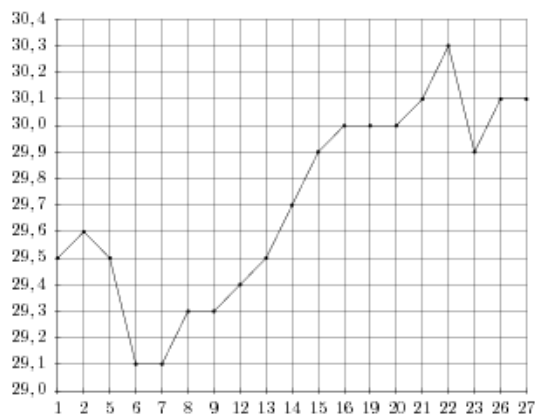


2. На рисунке жирными точками показана цена серебра, установленная Центробанком РФ во все рабочие дни в октябре 2009 года. По горизонтали указываются числа месяца, по вертикали — цена серебра в рублях за грамм. Для наглядности жирные точки на рисунке соединены линией. Определите по рисунку, какой была цена серебра 30 октября. Ответ дайте в рублях за грамм.



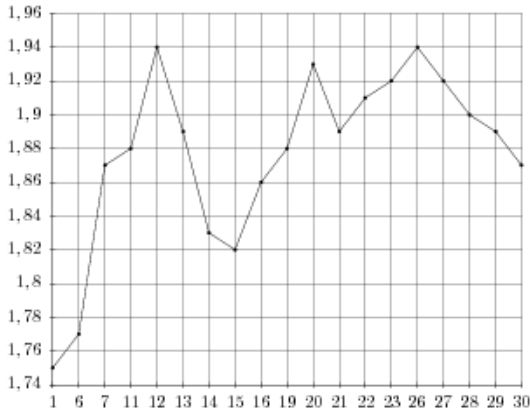
3.

На рисунке жирными точками показан курс австралийского доллара, установленный Центробанком РФ, во все рабочие дни с 1 по 27 октября 2010 года. По горизонтали указываются числа месяца, по вертикали — цена доллара в рублях. Для наглядности жирные точки на рисунке соединены линией. Определите по рисунку, какой был курс доллара 12 октября. Ответ дайте в рублях.



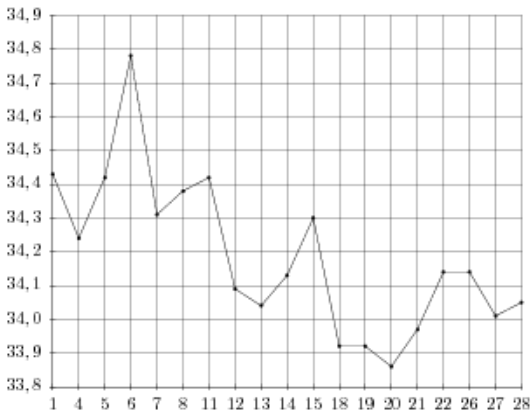
4.

На рисунке жирными точками показан курс австрийского шиллинга, установленный Центробанком РФ, во все рабочие дни с 1 по 30 января 1999 года. По горизонтали указываются числа месяца, по вертикали — цена шиллинга в рублях. Для наглядности жирные точки на рисунке соединены линией. Определите по рисунку, какой был курс шиллинга 15 января. Ответ дайте в рублях.



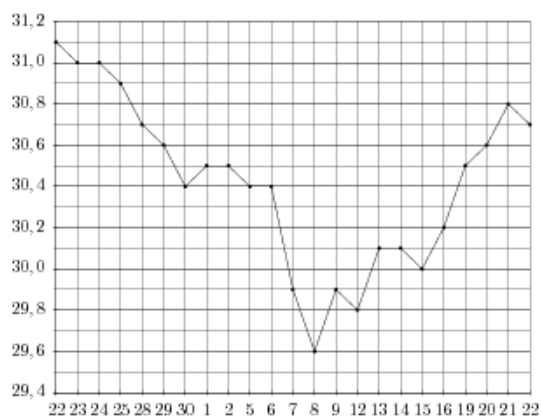
5.

На рисунке жирными точками показан курс евро, установленный Центробанком РФ, во все рабочие дни с 1 февраля по 28 февраля 2003 года. По горизонтали указываются числа месяца, по вертикали — цена евро в рублях. Для наглядности жирные точки на рисунке соединены линией. Определите по рисунку, какой был курс евро 15 февраля. Ответ дайте в рублях.



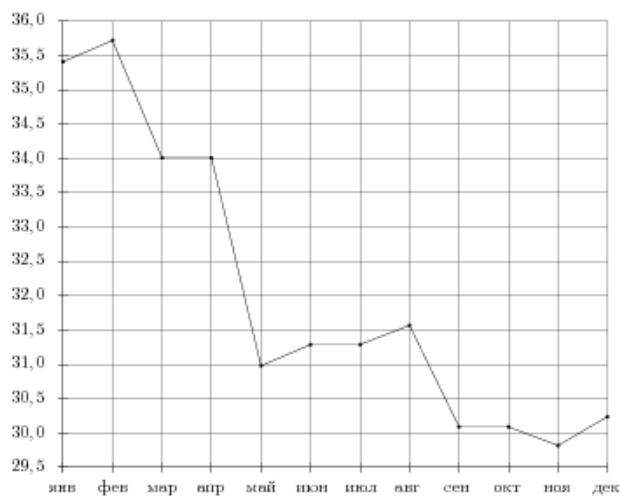
6.

На рисунке жирными точками показан курс доллара, установленный Центробанком РФ, во все рабочие дни с 22 сентября по 22 октября 2010 года. По горизонтали указываются числа месяца, по вертикали — цена доллара в рублях. Для наглядности жирные точки на рисунке соединены линией. Определите по рисунку, какой был курс доллара 9 октября. Ответ дайте в рублях.



7.

На рисунке жирными точками показан курс доллара, установленный Центробанком РФ, на конец каждого месяца 2009 года. По горизонтали указываются числа месяца, по вертикали — цена доллара в рублях. Для наглядности жирные точки на рисунке соединены линией. Определите по рисунку, какой был курс доллара в конце мая. Ответ дайте в рублях.



8.

На рисунке жирными точками показана цена серебра, установленная Центробанком РФ во все рабочие дни в октябре 2008 года. По горизонтали указываются числа месяца, по вертикали — цена серебра в рублях за грамм. Для наглядности жирные точки на рисунке соединены линией. Определите по рисунку, какой была цена серебра 8 октября. Ответ дайте в рублях за грамм.

