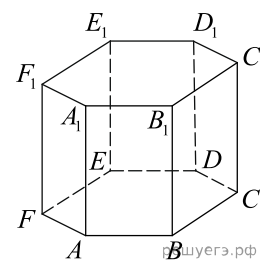
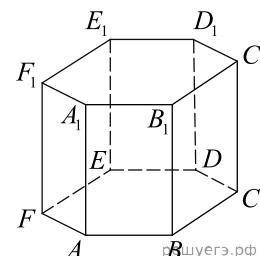


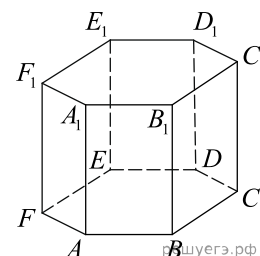
1. В правильной шестиугольной призме $ABCDEF A_1 B_1 C_1 D_1 E_1 F_1$ все ребра равны $\sqrt{5}$. Найдите расстояние между точками B и E_1 .



2. В правильной шестиугольной призме $ABCDEF A_1 B_1 C_1 D_1 E_1 F_1$ все ребра равны $40\sqrt{5}$. Найдите расстояние между точками B_1 и E .



3. В правильной шестиугольной призме $ABCDEF A_1 B_1 C_1 D_1 E_1 F_1$ все ребра равны $10\sqrt{5}$. Найдите расстояние между точками A_1 и D .



4. В правильной шестиугольной призме $ABCDEF A_1 B_1 C_1 D_1 E_1 F_1$ все ребра равны $14\sqrt{5}$. Найдите расстояние между точками C и F_1 .

5. В правильной шестиугольной призме $ABCDEF A_1 B_1 C_1 D_1 E_1 F_1$ все ребра равны $32\sqrt{5}$. Найдите расстояние между точками C и F_1 .

6. В правильной шестиугольной призме $ABCDEF A_1 B_1 C_1 D_1 E_1 F_1$ все ребра равны $40\sqrt{5}$. Найдите расстояние между точками A_1 и D .

7. В правильной шестиугольной призме $ABCDEF A_1 B_1 C_1 D_1 E_1 F_1$ все ребра равны $10\sqrt{5}$. Найдите расстояние между точками B и E_1 .

8. В правильной шестиугольной призме $ABCDEF A_1 B_1 C_1 D_1 E_1 F_1$ все ребра равны $25\sqrt{5}$. Найдите расстояние между точками C и F_1 .

9. В правильной шестиугольной призме $ABCDEF A_1 B_1 C_1 D_1 E_1 F_1$ все ребра равны $49\sqrt{5}$. Найдите расстояние между точками C_1 и F .

10. В правильной шестиугольной призме $ABCDEF A_1 B_1 C_1 D_1 E_1 F_1$ все ребра равны $19\sqrt{5}$. Найдите расстояние между точками A и D_1 .

11. В правильной шестиугольной призме $ABCDEF A_1 B_1 C_1 D_1 E_1 F_1$ все ребра равны $23\sqrt{5}$. Найдите расстояние между точками B_1 и E .

12. В правильной шестиугольной призме $ABCDEF A_1 B_1 C_1 D_1 E_1 F_1$ все ребра равны $24\sqrt{5}$. Найдите расстояние между точками C_1 и F .

13. В правильной шестиугольной призме $ABCDEF A_1 B_1 C_1 D_1 E_1 F_1$ все ребра равны $23\sqrt{5}$. Найдите расстояние между точками B и E_1 .
14. В правильной шестиугольной призме $ABCDEF A_1 B_1 C_1 D_1 E_1 F_1$ все ребра равны $4\sqrt{5}$. Найдите расстояние между точками A и D_1 .
15. В правильной шестиугольной призме $ABCDEF A_1 B_1 C_1 D_1 E_1 F_1$ все ребра равны $10\sqrt{5}$. Найдите расстояние между точками B_1 и E .
16. В правильной шестиугольной призме $ABCDEF A_1 B_1 C_1 D_1 E_1 F_1$ все ребра равны $9\sqrt{5}$. Найдите расстояние между точками B_1 и E .
17. В правильной шестиугольной призме $ABCDEF A_1 B_1 C_1 D_1 E_1 F_1$ все ребра равны $13\sqrt{5}$. Найдите расстояние между точками A и D_1 .
18. В правильной шестиугольной призме $ABCDEF A_1 B_1 C_1 D_1 E_1 F_1$ все ребра равны $22\sqrt{5}$. Найдите расстояние между точками B_1 и E .
19. В правильной шестиугольной призме $ABCDEF A_1 B_1 C_1 D_1 E_1 F_1$ все ребра равны $18\sqrt{5}$. Найдите расстояние между точками B_1 и E .
20. В правильной шестиугольной призме $ABCDEF A_1 B_1 C_1 D_1 E_1 F_1$ все ребра равны $20\sqrt{5}$. Найдите расстояние между точками C и F_1 .
21. В правильной шестиугольной призме $ABCDEF A_1 B_1 C_1 D_1 E_1 F_1$ все ребра равны $31\sqrt{5}$. Найдите расстояние между точками A_1 и D .
22. В правильной шестиугольной призме $ABCDEF A_1 B_1 C_1 D_1 E_1 F_1$ все ребра равны $15\sqrt{5}$. Найдите расстояние между точками A и D_1 .
23. В правильной шестиугольной призме $ABCDEF A_1 B_1 C_1 D_1 E_1 F_1$ все ребра равны $36\sqrt{5}$. Найдите расстояние между точками B_1 и E .
24. В правильной шестиугольной призме $ABCDEF A_1 B_1 C_1 D_1 E_1 F_1$ все ребра равны $2\sqrt{5}$. Найдите расстояние между точками C и F_1 .
25. В правильной шестиугольной призме $ABCDEF A_1 B_1 C_1 D_1 E_1 F_1$ все ребра равны $34\sqrt{5}$. Найдите расстояние между точками B и E_1 .
26. В правильной шестиугольной призме $ABCDEF A_1 B_1 C_1 D_1 E_1 F_1$ все ребра равны $39\sqrt{5}$. Найдите расстояние между точками A_1 и D .
27. В правильной шестиугольной призме $ABCDEF A_1 B_1 C_1 D_1 E_1 F_1$ все ребра равны $13\sqrt{5}$. Найдите расстояние между точками B_1 и E .
28. В правильной шестиугольной призме $ABCDEF A_1 B_1 C_1 D_1 E_1 F_1$ все ребра равны $2\sqrt{5}$. Найдите расстояние между точками B_1 и E .
29. В правильной шестиугольной призме $ABCDEF A_1 B_1 C_1 D_1 E_1 F_1$ все ребра равны $34\sqrt{5}$. Найдите расстояние между точками C и F_1 .
30. В правильной шестиугольной призме $ABCDEF A_1 B_1 C_1 D_1 E_1 F_1$ все ребра равны $22\sqrt{5}$. Найдите расстояние между точками C_1 и F .

31. В правильной шестиугольной призме $ABCDEF A_1 B_1 C_1 D_1 E_1 F_1$ все ребра равны $48\sqrt{5}$.
Найдите расстояние между точками A и D_1 .
32. В правильной шестиугольной призме $ABCDEF A_1 B_1 C_1 D_1 E_1 F_1$ все ребра равны $29\sqrt{5}$.
Найдите расстояние между точками A_1 и D .
33. В правильной шестиугольной призме $ABCDEF A_1 B_1 C_1 D_1 E_1 F_1$ все ребра равны $48\sqrt{5}$.
Найдите расстояние между точками C и F_1 .
34. В правильной шестиугольной призме $ABCDEF A_1 B_1 C_1 D_1 E_1 F_1$ все ребра равны $25\sqrt{5}$.
Найдите расстояние между точками C_1 и F .
35. В правильной шестиугольной призме $ABCDEF A_1 B_1 C_1 D_1 E_1 F_1$ все ребра равны $47\sqrt{5}$.
Найдите расстояние между точками A_1 и D .
36. В правильной шестиугольной призме $ABCDEF A_1 B_1 C_1 D_1 E_1 F_1$ все ребра равны $46\sqrt{5}$.
Найдите расстояние между точками B_1 и E .
37. В правильной шестиугольной призме $ABCDEF A_1 B_1 C_1 D_1 E_1 F_1$ все ребра равны $33\sqrt{5}$.
Найдите расстояние между точками A_1 и D .
38. В правильной шестиугольной призме $ABCDEF A_1 B_1 C_1 D_1 E_1 F_1$ все ребра равны $27\sqrt{5}$.
Найдите расстояние между точками A и D_1 .
39. В правильной шестиугольной призме $ABCDEF A_1 B_1 C_1 D_1 E_1 F_1$ все ребра равны $48\sqrt{5}$.
Найдите расстояние между точками A_1 и D .
40. В правильной шестиугольной призме $ABCDEF A_1 B_1 C_1 D_1 E_1 F_1$ все ребра равны $48\sqrt{5}$.
Найдите расстояние между точками B_1 и E .
41. В правильной шестиугольной призме $ABCDEF A_1 B_1 C_1 D_1 E_1 F_1$ все ребра равны $35\sqrt{5}$.
Найдите расстояние между точками A и D_1 .
42. В правильной шестиугольной призме $ABCDEF A_1 B_1 C_1 D_1 E_1 F_1$ все ребра равны $49\sqrt{5}$.
Найдите расстояние между точками A и D_1 .
43. В правильной шестиугольной призме $ABCDEF A_1 B_1 C_1 D_1 E_1 F_1$ все ребра равны $13\sqrt{5}$.
Найдите расстояние между точками A_1 и D .
44. В правильной шестиугольной призме $ABCDEF A_1 B_1 C_1 D_1 E_1 F_1$ все ребра равны $22\sqrt{5}$.
Найдите расстояние между точками A_1 и D .
45. В правильной шестиугольной призме $ABCDEF A_1 B_1 C_1 D_1 E_1 F_1$ все ребра равны $41\sqrt{5}$.
Найдите расстояние между точками B и E_1 .
46. В правильной шестиугольной призме $ABCDEF A_1 B_1 C_1 D_1 E_1 F_1$ все ребра равны $36\sqrt{5}$.
Найдите расстояние между точками C и F_1 .
47. В правильной шестиугольной призме $ABCDEF A_1 B_1 C_1 D_1 E_1 F_1$ все ребра равны $35\sqrt{5}$.
Найдите расстояние между точками B и E_1 .
48. В правильной шестиугольной призме $ABCDEF A_1 B_1 C_1 D_1 E_1 F_1$ все ребра равны $47\sqrt{5}$.
Найдите расстояние между точками B_1 и E .

49. В правильной шестиугольной призме $ABCDEF A_1 B_1 C_1 D_1 E_1 F_1$ все ребра равны $42\sqrt{5}$. Найдите расстояние между точками C_1 и F .
50. В правильной шестиугольной призме $ABCDEF A_1 B_1 C_1 D_1 E_1 F_1$ все ребра равны $12\sqrt{5}$. Найдите расстояние между точками A и D_1 .
51. В правильной шестиугольной призме $ABCDEF A_1 B_1 C_1 D_1 E_1 F_1$ все ребра равны $43\sqrt{5}$. Найдите расстояние между точками B_1 и E .
52. В правильной шестиугольной призме $ABCDEF A_1 B_1 C_1 D_1 E_1 F_1$ все ребра равны $6\sqrt{5}$. Найдите расстояние между точками C и F_1 .
53. В правильной шестиугольной призме $ABCDEF A_1 B_1 C_1 D_1 E_1 F_1$ все ребра равны $1\sqrt{5}$. Найдите расстояние между точками B и E_1 .
54. В правильной шестиугольной призме $ABCDEF A_1 B_1 C_1 D_1 E_1 F_1$ все ребра равны $9\sqrt{5}$. Найдите расстояние между точками C_1 и F .
55. В правильной шестиугольной призме $ABCDEF A_1 B_1 C_1 D_1 E_1 F_1$ все ребра равны $4\sqrt{5}$. Найдите расстояние между точками C и F_1 .
56. В правильной шестиугольной призме $ABCDEF A_1 B_1 C_1 D_1 E_1 F_1$ все ребра равны $5\sqrt{5}$. Найдите расстояние между точками A и D_1 .
57. В правильной шестиугольной призме $ABCDEF A_1 B_1 C_1 D_1 E_1 F_1$ все ребра равны $36\sqrt{5}$. Найдите расстояние между точками C_1 и F .
58. В правильной шестиугольной призме $ABCDEF A_1 B_1 C_1 D_1 E_1 F_1$ все ребра равны $38\sqrt{5}$. Найдите расстояние между точками B и E_1 .
59. В правильной шестиугольной призме $ABCDEF A_1 B_1 C_1 D_1 E_1 F_1$ все ребра равны $42\sqrt{5}$. Найдите расстояние между точками B_1 и E .
60. В правильной шестиугольной призме $ABCDEF A_1 B_1 C_1 D_1 E_1 F_1$ все ребра равны $41\sqrt{5}$. Найдите расстояние между точками A и D_1 .
61. В правильной шестиугольной призме $ABCDEF A_1 B_1 C_1 D_1 E_1 F_1$ все ребра равны $21\sqrt{5}$. Найдите расстояние между точками A_1 и D .
62. В правильной шестиугольной призме $ABCDEF A_1 B_1 C_1 D_1 E_1 F_1$ все ребра равны $26\sqrt{5}$. Найдите расстояние между точками A_1 и D .
63. В правильной шестиугольной призме $ABCDEF A_1 B_1 C_1 D_1 E_1 F_1$ все ребра равны $17\sqrt{5}$. Найдите расстояние между точками C и F_1 .
64. В правильной шестиугольной призме $ABCDEF A_1 B_1 C_1 D_1 E_1 F_1$ все ребра равны $18\sqrt{5}$. Найдите расстояние между точками A и D_1 .
65. В правильной шестиугольной призме $ABCDEF A_1 B_1 C_1 D_1 E_1 F_1$ все ребра равны $17\sqrt{5}$. Найдите расстояние между точками B_1 и E .
66. В правильной шестиугольной призме $ABCDEF A_1 B_1 C_1 D_1 E_1 F_1$ все ребра равны $34\sqrt{5}$. Найдите расстояние между точками A и D_1 .

67. В правильной шестиугольной призме $ABCDEF A_1 B_1 C_1 D_1 E_1 F_1$ все ребра равны $16\sqrt{5}$. Найдите расстояние между точками A и D_1 .
68. В правильной шестиугольной призме $ABCDEF A_1 B_1 C_1 D_1 E_1 F_1$ все ребра равны $45\sqrt{5}$. Найдите расстояние между точками A_1 и D .
69. В правильной шестиугольной призме $ABCDEF A_1 B_1 C_1 D_1 E_1 F_1$ все ребра равны $24\sqrt{5}$. Найдите расстояние между точками A_1 и D .
70. В правильной шестиугольной призме $ABCDEF A_1 B_1 C_1 D_1 E_1 F_1$ все ребра равны $20\sqrt{5}$. Найдите расстояние между точками B и E_1 .
71. В правильной шестиугольной призме $ABCDEF A_1 B_1 C_1 D_1 E_1 F_1$ все ребра равны $19\sqrt{5}$. Найдите расстояние между точками C_1 и F .
72. В правильной шестиугольной призме $ABCDEF A_1 B_1 C_1 D_1 E_1 F_1$ все ребра равны $49\sqrt{5}$. Найдите расстояние между точками A_1 и D .
73. В правильной шестиугольной призме $ABCDEF A_1 B_1 C_1 D_1 E_1 F_1$ все ребра равны $1\sqrt{5}$. Найдите расстояние между точками C_1 и F .
74. В правильной шестиугольной призме $ABCDEF A_1 B_1 C_1 D_1 E_1 F_1$ все ребра равны $49\sqrt{5}$. Найдите расстояние между точками B_1 и E .
75. В правильной шестиугольной призме $ABCDEF A_1 B_1 C_1 D_1 E_1 F_1$ все ребра равны $49\sqrt{5}$. Найдите расстояние между точками B и E_1 .
76. В правильной шестиугольной призме $ABCDEF A_1 B_1 C_1 D_1 E_1 F_1$ все ребра равны $44\sqrt{5}$. Найдите расстояние между точками C и F_1 .
77. В правильной шестиугольной призме $ABCDEF A_1 B_1 C_1 D_1 E_1 F_1$ все ребра равны $42\sqrt{5}$. Найдите расстояние между точками A и D_1 .
78. В правильной шестиугольной призме $ABCDEF A_1 B_1 C_1 D_1 E_1 F_1$ все ребра равны $45\sqrt{5}$. Найдите расстояние между точками B_1 и E .
79. В правильной шестиугольной призме $ABCDEF A_1 B_1 C_1 D_1 E_1 F_1$ все ребра равны $2\sqrt{5}$. Найдите расстояние между точками B и E_1 .
80. В правильной шестиугольной призме $ABCDEF A_1 B_1 C_1 D_1 E_1 F_1$ все ребра равны $9\sqrt{5}$. Найдите расстояние между точками A_1 и D .
81. В правильной шестиугольной призме $ABCDEF A_1 B_1 C_1 D_1 E_1 F_1$ все ребра равны $15\sqrt{5}$. Найдите расстояние между точками C и F_1 .
82. В правильной шестиугольной призме $ABCDEF A_1 B_1 C_1 D_1 E_1 F_1$ все ребра равны $12\sqrt{5}$. Найдите расстояние между точками C_1 и F .
83. В правильной шестиугольной призме $ABCDEF A_1 B_1 C_1 D_1 E_1 F_1$ все ребра равны $25\sqrt{5}$. Найдите расстояние между точками B_1 и E .
84. В правильной шестиугольной призме $ABCDEF A_1 B_1 C_1 D_1 E_1 F_1$ все ребра равны $31\sqrt{5}$. Найдите расстояние между точками C и F_1 .

85. В правильной шестиугольной призме $ABCDEF A_1 B_1 C_1 D_1 E_1 F_1$ все ребра равны $41\sqrt{5}$. Найдите расстояние между точками A_1 и D .
86. В правильной шестиугольной призме $ABCDEF A_1 B_1 C_1 D_1 E_1 F_1$ все ребра равны $9\sqrt{5}$. Найдите расстояние между точками C и F_1 .
87. В правильной шестиугольной призме $ABCDEF A_1 B_1 C_1 D_1 E_1 F_1$ все ребра равны $28\sqrt{5}$. Найдите расстояние между точками A и D_1 .
88. В правильной шестиугольной призме $ABCDEF A_1 B_1 C_1 D_1 E_1 F_1$ все ребра равны $2\sqrt{5}$. Найдите расстояние между точками A_1 и D .
89. В правильной шестиугольной призме $ABCDEF A_1 B_1 C_1 D_1 E_1 F_1$ все ребра равны $20\sqrt{5}$. Найдите расстояние между точками C_1 и F .
90. В правильной шестиугольной призме $ABCDEF A_1 B_1 C_1 D_1 E_1 F_1$ все ребра равны $12\sqrt{5}$. Найдите расстояние между точками B и E_1 .
91. В правильной шестиугольной призме $ABCDEF A_1 B_1 C_1 D_1 E_1 F_1$ все ребра равны $40\sqrt{5}$. Найдите расстояние между точками B и E_1 .
92. В правильной шестиугольной призме $ABCDEF A_1 B_1 C_1 D_1 E_1 F_1$ все ребра равны $44\sqrt{5}$. Найдите расстояние между точками A_1 и D .
93. В правильной шестиугольной призме $ABCDEF A_1 B_1 C_1 D_1 E_1 F_1$ все ребра равны $16\sqrt{5}$. Найдите расстояние между точками C_1 и F .
94. В правильной шестиугольной призме $ABCDEF A_1 B_1 C_1 D_1 E_1 F_1$ все ребра равны $43\sqrt{5}$. Найдите расстояние между точками C и F_1 .
95. В правильной шестиугольной призме $ABCDEF A_1 B_1 C_1 D_1 E_1 F_1$ все ребра равны $33\sqrt{5}$. Найдите расстояние между точками C и F_1 .
96. В правильной шестиугольной призме $ABCDEF A_1 B_1 C_1 D_1 E_1 F_1$ все ребра равны $3\sqrt{5}$. Найдите расстояние между точками A_1 и D .
97. В правильной шестиугольной призме $ABCDEF A_1 B_1 C_1 D_1 E_1 F_1$ все ребра равны $21\sqrt{5}$. Найдите расстояние между точками C_1 и F .
98. В правильной шестиугольной призме $ABCDEF A_1 B_1 C_1 D_1 E_1 F_1$ все ребра равны $4\sqrt{5}$. Найдите расстояние между точками B_1 и E .
99. В правильной шестиугольной призме $ABCDEF A_1 B_1 C_1 D_1 E_1 F_1$ все ребра равны $27\sqrt{5}$. Найдите расстояние между точками B_1 и E .
100. В правильной шестиугольной призме $ABCDEF A_1 B_1 C_1 D_1 E_1 F_1$ все ребра равны $29\sqrt{5}$. Найдите расстояние между точками B_1 и E .
101. В правильной шестиугольной призме $ABCDEF A_1 B_1 C_1 D_1 E_1 F_1$ все ребра равны $23\sqrt{5}$. Найдите расстояние между точками A и D_1 .
102. В правильной шестиугольной призме $ABCDEF A_1 B_1 C_1 D_1 E_1 F_1$ все ребра равны $42\sqrt{5}$. Найдите расстояние между точками A_1 и D .

- 103.** В правильной шестиугольной призме $ABCDEF A_1 B_1 C_1 D_1 E_1 F_1$ все ребра равны $19\sqrt{5}$.
Найдите расстояние между точками C и F_1 .
- 104.** В правильной шестиугольной призме $ABCDEF A_1 B_1 C_1 D_1 E_1 F_1$ все ребра равны $3\sqrt{5}$.
Найдите расстояние между точками C и F_1 .
- 105.** В правильной шестиугольной призме $ABCDEF A_1 B_1 C_1 D_1 E_1 F_1$ все ребра равны $29\sqrt{5}$.
Найдите расстояние между точками C_1 и F .
- 106.** В правильной шестиугольной призме $ABCDEF A_1 B_1 C_1 D_1 E_1 F_1$ все ребра равны $30\sqrt{5}$.
Найдите расстояние между точками A и D_1 .
- 107.** В правильной шестиугольной призме $ABCDEF A_1 B_1 C_1 D_1 E_1 F_1$ все ребра равны $33\sqrt{5}$.
Найдите расстояние между точками B_1 и E .
- 108.** В правильной шестиугольной призме $ABCDEF A_1 B_1 C_1 D_1 E_1 F_1$ все ребра равны $10\sqrt{5}$.
Найдите расстояние между точками C и F_1 .
- 109.** В правильной шестиугольной призме $ABCDEF A_1 B_1 C_1 D_1 E_1 F_1$ все ребра равны $16\sqrt{5}$.
Найдите расстояние между точками B_1 и E .
- 110.** В правильной шестиугольной призме $ABCDEF A_1 B_1 C_1 D_1 E_1 F_1$ все ребра равны $29\sqrt{5}$.
Найдите расстояние между точками A и D_1 .
- 111.** В правильной шестиугольной призме $ABCDEF A_1 B_1 C_1 D_1 E_1 F_1$ все ребра равны $37\sqrt{5}$.
Найдите расстояние между точками C_1 и F .
- 112.** В правильной шестиугольной призме $ABCDEF A_1 B_1 C_1 D_1 E_1 F_1$ все ребра равны $38\sqrt{5}$.
Найдите расстояние между точками A и D_1 .
- 113.** В правильной шестиугольной призме $ABCDEF A_1 B_1 C_1 D_1 E_1 F_1$ все ребра равны $28\sqrt{5}$.
Найдите расстояние между точками C и F_1 .
- 114.** В правильной шестиугольной призме $ABCDEF A_1 B_1 C_1 D_1 E_1 F_1$ все ребра равны $22\sqrt{5}$.
Найдите расстояние между точками C и F_1 .
- 115.** В правильной шестиугольной призме $ABCDEF A_1 B_1 C_1 D_1 E_1 F_1$ все ребра равны $5\sqrt{5}$.
Найдите расстояние между точками B и E_1 .
- 116.** В правильной шестиугольной призме $ABCDEF A_1 B_1 C_1 D_1 E_1 F_1$ все ребра равны $16\sqrt{5}$.
Найдите расстояние между точками B и E_1 .
- 117.** В правильной шестиугольной призме $ABCDEF A_1 B_1 C_1 D_1 E_1 F_1$ все ребра равны $40\sqrt{5}$.
Найдите расстояние между точками C_1 и F .
- 118.** В правильной шестиугольной призме $ABCDEF A_1 B_1 C_1 D_1 E_1 F_1$ все ребра равны $3\sqrt{5}$.
Найдите расстояние между точками B_1 и E .
- 119.** В правильной шестиугольной призме $ABCDEF A_1 B_1 C_1 D_1 E_1 F_1$ все ребра равны $28\sqrt{5}$.
Найдите расстояние между точками A_1 и D .
- 120.** В правильной шестиугольной призме $ABCDEF A_1 B_1 C_1 D_1 E_1 F_1$ все ребра равны $39\sqrt{5}$.
Найдите расстояние между точками B и E_1 .

121. В правильной шестиугольной призме $ABCDEF A_1 B_1 C_1 D_1 E_1 F_1$ все ребра равны $7\sqrt{5}$. Найдите расстояние между точками A_1 и D .
122. В правильной шестиугольной призме $ABCDEF A_1 B_1 C_1 D_1 E_1 F_1$ все ребра равны $27\sqrt{5}$. Найдите расстояние между точками C и F_1 .
123. В правильной шестиугольной призме $ABCDEF A_1 B_1 C_1 D_1 E_1 F_1$ все ребра равны $3\sqrt{5}$. Найдите расстояние между точками A и D_1 .
124. В правильной шестиугольной призме $ABCDEF A_1 B_1 C_1 D_1 E_1 F_1$ все ребра равны $18\sqrt{5}$. Найдите расстояние между точками B и E_1 .
125. В правильной шестиугольной призме $ABCDEF A_1 B_1 C_1 D_1 E_1 F_1$ все ребра равны $23\sqrt{5}$. Найдите расстояние между точками A_1 и D .
126. В правильной шестиугольной призме $ABCDEF A_1 B_1 C_1 D_1 E_1 F_1$ все ребра равны $7\sqrt{5}$. Найдите расстояние между точками B и E_1 .
127. В правильной шестиугольной призме $ABCDEF A_1 B_1 C_1 D_1 E_1 F_1$ все ребра равны $19\sqrt{5}$. Найдите расстояние между точками B и E_1 .
128. В правильной шестиугольной призме $ABCDEF A_1 B_1 C_1 D_1 E_1 F_1$ все ребра равны $13\sqrt{5}$. Найдите расстояние между точками C и F_1 .
129. В правильной шестиугольной призме $ABCDEF A_1 B_1 C_1 D_1 E_1 F_1$ все ребра равны $44\sqrt{5}$. Найдите расстояние между точками B_1 и E .
130. В правильной шестиугольной призме $ABCDEF A_1 B_1 C_1 D_1 E_1 F_1$ все ребра равны $50\sqrt{5}$. Найдите расстояние между точками C и F_1 .
131. В правильной шестиугольной призме $ABCDEF A_1 B_1 C_1 D_1 E_1 F_1$ все ребра равны $37\sqrt{5}$. Найдите расстояние между точками B_1 и E .
132. В правильной шестиугольной призме $ABCDEF A_1 B_1 C_1 D_1 E_1 F_1$ все ребра равны $50\sqrt{5}$. Найдите расстояние между точками A и D_1 .
133. В правильной шестиугольной призме $ABCDEF A_1 B_1 C_1 D_1 E_1 F_1$ все ребра равны $30\sqrt{5}$. Найдите расстояние между точками C_1 и F .
134. В правильной шестиугольной призме $ABCDEF A_1 B_1 C_1 D_1 E_1 F_1$ все ребра равны $14\sqrt{5}$. Найдите расстояние между точками A и D_1 .
135. В правильной шестиугольной призме $ABCDEF A_1 B_1 C_1 D_1 E_1 F_1$ все ребра равны $14\sqrt{5}$. Найдите расстояние между точками B_1 и E .
136. В правильной шестиугольной призме $ABCDEF A_1 B_1 C_1 D_1 E_1 F_1$ все ребра равны $36\sqrt{5}$. Найдите расстояние между точками A_1 и D .
137. В правильной шестиугольной призме $ABCDEF A_1 B_1 C_1 D_1 E_1 F_1$ все ребра равны $8\sqrt{5}$. Найдите расстояние между точками A и D_1 .
138. В правильной шестиугольной призме $ABCDEF A_1 B_1 C_1 D_1 E_1 F_1$ все ребра равны $38\sqrt{5}$. Найдите расстояние между точками A_1 и D .

139. В правильной шестиугольной призме $ABCDEF A_1 B_1 C_1 D_1 E_1 F_1$ все ребра равны $15\sqrt{5}$.
Найдите расстояние между точками B и E_1 .
140. В правильной шестиугольной призме $ABCDEF A_1 B_1 C_1 D_1 E_1 F_1$ все ребра равны $10\sqrt{5}$.
Найдите расстояние между точками A и D_1 .
141. В правильной шестиугольной призме $ABCDEF A_1 B_1 C_1 D_1 E_1 F_1$ все ребра равны $3\sqrt{5}$.
Найдите расстояние между точками C_1 и F .
142. В правильной шестиугольной призме $ABCDEF A_1 B_1 C_1 D_1 E_1 F_1$ все ребра равны $34\sqrt{5}$.
Найдите расстояние между точками B_1 и E .
143. В правильной шестиугольной призме $ABCDEF A_1 B_1 C_1 D_1 E_1 F_1$ все ребра равны $32\sqrt{5}$.
Найдите расстояние между точками B_1 и E .
144. В правильной шестиугольной призме $ABCDEF A_1 B_1 C_1 D_1 E_1 F_1$ все ребра равны $39\sqrt{5}$.
Найдите расстояние между точками A и D_1 .
145. В правильной шестиугольной призме $ABCDEF A_1 B_1 C_1 D_1 E_1 F_1$ все ребра равны $4\sqrt{5}$.
Найдите расстояние между точками B и E_1 .
146. В правильной шестиугольной призме $ABCDEF A_1 B_1 C_1 D_1 E_1 F_1$ все ребра равны $47\sqrt{5}$.
Найдите расстояние между точками C и F_1 .
147. В правильной шестиугольной призме $ABCDEF A_1 B_1 C_1 D_1 E_1 F_1$ все ребра равны $20\sqrt{5}$.
Найдите расстояние между точками B_1 и E .
148. В правильной шестиугольной призме $ABCDEF A_1 B_1 C_1 D_1 E_1 F_1$ все ребра равны $1\sqrt{5}$.
Найдите расстояние между точками A и D_1 .
149. В правильной шестиугольной призме $ABCDEF A_1 B_1 C_1 D_1 E_1 F_1$ все ребра равны $12\sqrt{5}$.
Найдите расстояние между точками B_1 и E .
150. В правильной шестиугольной призме $ABCDEF A_1 B_1 C_1 D_1 E_1 F_1$ все ребра равны $32\sqrt{5}$.
Найдите расстояние между точками A_1 и D .
151. В правильной шестиугольной призме $ABCDEF A_1 B_1 C_1 D_1 E_1 F_1$ все ребра равны $25\sqrt{5}$.
Найдите расстояние между точками A_1 и D .