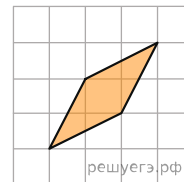
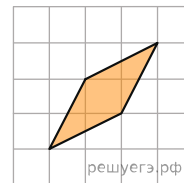


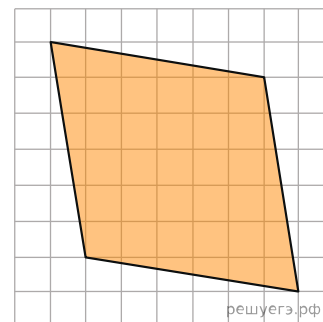
1. Найдите площадь ромба, изображенного на клетчатой бумаге с размером клетки 1 см × 1 см (см. рис.).  
Ответ дайте в квадратных сантиметрах.



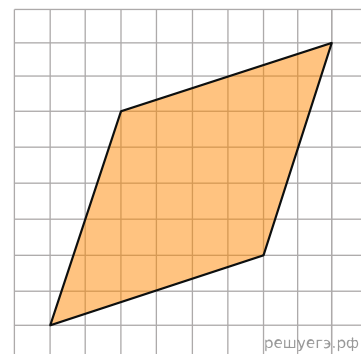
2. Найдите площадь ромба, изображенного на клетчатой бумаге с размером клетки 1 см × 1 см (см. рис.).  
Ответ дайте в квадратных сантиметрах.



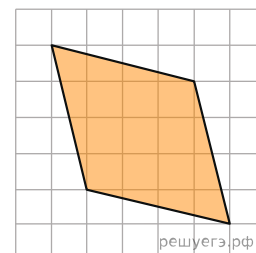
3. Найдите площадь ромба, изображенного на клетчатой бумаге с размером клетки 1 см × 1 см (см. рис.). Ответ дайте в квадратных сантиметрах.



4. Найдите площадь ромба, изображенного на клетчатой бумаге с размером клетки 1 см × 1 см (см. рис.). Ответ дайте в квадратных сантиметрах.



5. Найдите площадь ромба, изображенного на клетчатой бумаге с размером клетки 1 см × 1 см (см. рис.). Ответ дайте в квадратных сантиметрах.



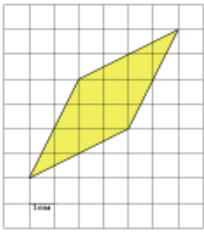
6.

Найдите площадь ромба, изображенного на клетчатой бумаге с размером клетки 1 см × 1 см (см. рис.). Ответ дайте в квадратных сантиметрах.




7.

Найдите площадь ромба, изображенного на клетчатой бумаге с размером клетки  $1\text{ см} \times 1\text{ см}$  (см. рис.). Ответ дайте в квадратных сантиметрах.



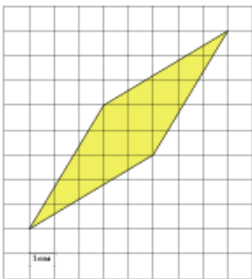
8.

Найдите площадь ромба, изображенного на клетчатой бумаге с размером клетки  $1\text{ см} \times 1\text{ см}$  (см. рис.). Ответ дайте в квадратных сантиметрах.



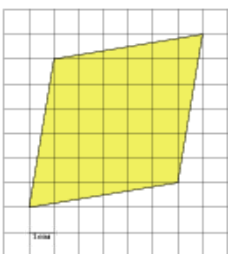
9.

Найдите площадь ромба, изображенного на клетчатой бумаге с размером клетки  $1\text{ см} \times 1\text{ см}$  (см. рис.). Ответ дайте в квадратных сантиметрах.



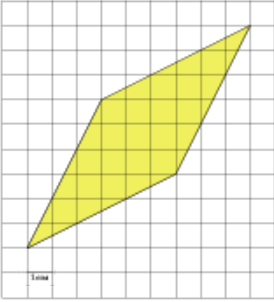
10.

Найдите площадь ромба, изображенного на клетчатой бумаге с размером клетки  $1\text{ см} \times 1\text{ см}$  (см. рис.). Ответ дайте в квадратных сантиметрах.



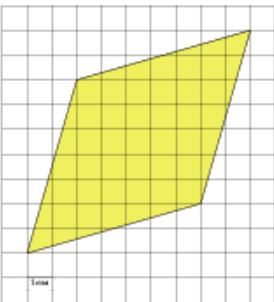
11.

Найдите площадь ромба, изображенного на клетчатой бумаге с размером клетки  $1\text{ см} \times 1\text{ см}$  (см. рис.). Ответ дайте в квадратных сантиметрах.



12.

Найдите площадь ромба, изображенного на клетчатой бумаге с размером клетки  $1\text{ см} \times 1\text{ см}$  (см. рис.). Ответ дайте в квадратных сантиметрах.



13.

Найдите площадь ромба, изображенного на клетчатой бумаге с размером клетки  $1\text{ см} \times 1\text{ см}$  (см. рис.). Ответ дайте в квадратных сантиметрах.




14.

Найдите площадь ромба, изображенного на клетчатой бумаге с размером клетки  $1\text{ см} \times 1\text{ см}$  (см. рис.). Ответ дайте в квадратных сантиметрах.



15.

Найдите площадь ромба, изображенного на клетчатой бумаге с размером клетки  $1\text{ см} \times 1\text{ см}$  (см. рис.). Ответ дайте в квадратных сантиметрах.



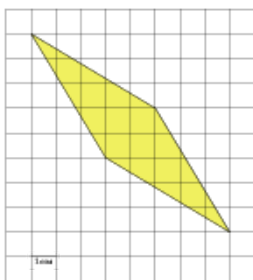
16.

Найдите площадь ромба, изображенного на клетчатой бумаге с размером клетки  $1\text{ см} \times 1\text{ см}$  (см. рис.). Ответ дайте в квадратных сантиметрах.



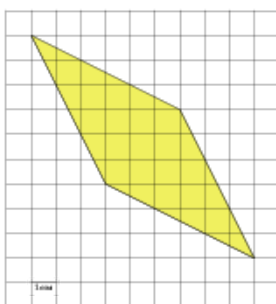
17.

Найдите площадь ромба, изображенного на клетчатой бумаге с размером клетки  $1\text{ см} \times 1\text{ см}$  (см. рис.). Ответ дайте в квадратных сантиметрах.



18.

Найдите площадь ромба, изображенного на клетчатой бумаге с размером клетки  $1\text{ см} \times 1\text{ см}$  (см. рис.). Ответ дайте в квадратных сантиметрах.



19.

Найдите площадь ромба, изображенного на клетчатой бумаге с размером клетки  $1\text{ см} \times 1\text{ см}$  (см. рис.). Ответ дайте в квадратных сантиметрах.

