

Апробация базового ЕГЭ по математике, 13—17 октября: вариант 153692.

При выполнении заданий с кратким ответом впишите в поле для ответа цифру, которая соответствует номеру правильного ответа, или число, слово, последовательность букв (слов) или цифр. Ответ следует записывать без пробелов и каких-либо дополнительных символов. Дробную часть отделяйте от целой десятичной запятой. Единицы измерений писать не нужно.

Если вариант задан учителем, вы можете вписать или загрузить в систему ответы к заданиям с развернутым ответом. Учитель увидит результаты выполнения заданий с кратким ответом и сможет оценить загруженные ответы к заданиям с развернутым ответом. Выставленные учителем баллы отобразятся в вашей статистике.

1. Найдите значение выражения $4\frac{1}{4} + \frac{5}{2} \cdot 7,5$.

2. Найдите значение выражения $\frac{5^3 \cdot 10^{-3}}{2^{-10}}$.

3. На пост председателя школьного совета претендовали два кандидата. В голосовании приняли участие 189 человек. Голоса между кандидатами распределились в отношении 2 : 7. Сколько голосов получил победитель?

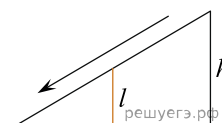
4. Среднее квадратичное трёх чисел a, b и c вычисляется по формуле $q = \sqrt{\frac{a^2 + b^2 + c^2}{3}}$. Найдите среднее квадратичное чисел $\sqrt{2}$, 3 и 17.

5. Найдите значение выражения $\log_6 0,8 + \log_6 45$.

6. В доме, в котором живёт Люда, 5 этажей и несколько подъездов. На каждом этаже находится по 3 квартиры. Люда живёт в квартире №23. В каком подъезде живёт Люда?

7. Найдите корень уравнения $\left(\frac{1}{4}\right)^{4x-10} = \frac{1}{16}$.

8. Детская горка укреплена вертикальным столбом, расположенным посередине спуска. Найдите высоту l этого столба, если высота h горки равна 2 метрам. Ответ дайте в метрах.



9. Установите соответствие между величинами и их возможными значениями: к каждому элементу первого столбца подберите соответствующий элемент из второго столбца.

ВЕЛИЧИНЫ	ВОЗМОЖНЫЕ ЗНАЧЕНИЯ
А) диаметр монеты	1) 6400 км
Б) рост жирафа	2) 324 м
В) высота Эйфелевой башни	3) 20 мм
Г) радиус Земли	4) 5 м

В таблице под каждой буквой, соответствующей величине, укажите номер её возможного значения.

А	Б	В	Г

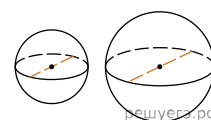
10. Вероятность того, что в случайный момент времени температура тела здорового человека окажется ниже $36,8^{\circ}\text{C}$, равна 0,71. Найдите вероятность того, что в случайный момент времени у здорового человека температура окажется $36,8^{\circ}\text{C}$ или выше.

11. На рисунке изображён график значений атмосферного давления в некотором городе за три дня. По горизонтали указаны дни недели, по вертикали — значения атмосферного давления в миллиметрах ртутного столба. Укажите наименьшее значение атмосферного давления во вторник (в мм рт. ст.).

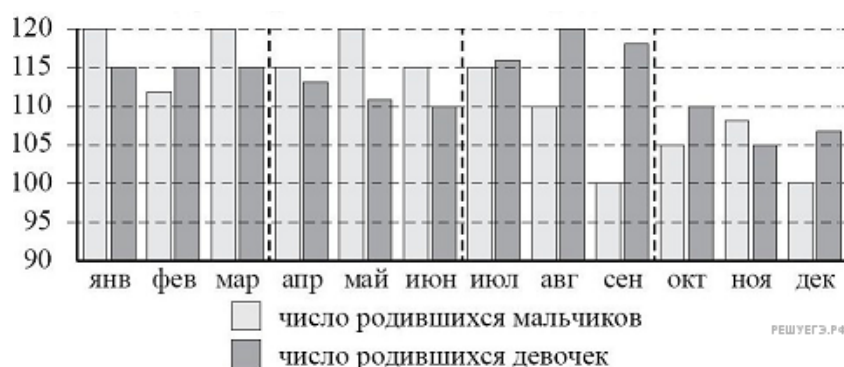


12. Для того чтобы связать свитер, хозяйке нужно 600 граммов шерстяной пряжи синего цвета. Можно купить синюю пряжу по цене 60 рублей за 100 граммов, а можно купить неокрашенную пряжу по цене 50 рублей за 100 граммов и окрасить её. Один пакетик краски стоит 40 рублей и рассчитан на окраску 300 граммов пряжи. Какой вариант покупки дешевле? В ответе напишите, сколько рублей будет стоить эта покупка.

13. Однородный шар диаметром 3 см имеет массу 81 грамм. Чему равна масса шара, изготовленного из того же материала, с диаметром 5 см? Ответ дайте в граммах.



14. На рисунке изображена сравнительная диаграмма ежемесячной рождаемости девочек и мальчиков в городском роддоме в течение 2013 года. По горизонтали указываются месяцы, по вертикали — количество родившихся.



Пользуясь диаграммой, поставьте в соответствие каждому из указанных периодов времени характеристику рождаемости в этот период.

ПЕРИОДЫ ВРЕМЕНИ

- А) 1-й квартал года
- Б) 2-й квартал года
- В) 3-й квартал года
- Г) 4-й квартал года

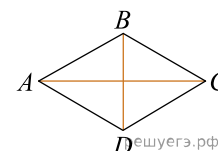
ХАРАКТЕРИСТИКИ РОЖДАЕМОСТИ

- 1) в каждом месяце мальчиков рождалось больше, чем девочек
- 2) рождаемость девочек была наименьшей за весь год
- 3) в каждом месяце девочек рождалось больше, чем мальчиков
- 4) рождаемость девочек почти не изменялась в течение этого периода

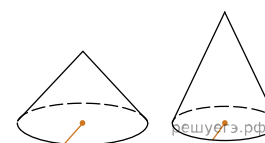
В таблице под каждой буквой укажите соответствующий номер.

А	Б	В	Г

15. В ромбе $ABCD$ $AB = 2$, $AC = \sqrt{7}$. Найдите синус угла BAC .



16. Даны два конуса. Радиус основания и образующая первого конуса равны соответственно 2 и 5, а второго — 5 и 6. Во сколько раз площадь боковой поверхности второго конуса больше площади боковой поверхности первого?



17. Каждому из четырёх неравенств в левом столбце соответствует одно из решений из правого столбца. Установите соответствие между неравенствами и их решениями.

НЕРАВЕНСТВА	РЕШЕНИЯ
А) $\frac{(x-2)^2}{x-1} < 0$	1) $(1; +\infty)$
Б) $2^{-x} < 0,5$	2) $(1; 2)$
В) $\log_2 x > 1$	3) $(2; +\infty)$
Г) $(x-1)(x-2) < 0$	4) $(-\infty; 1)$

Впишите в приведённую в ответе таблицу под каждой буквой соответствующую цифру.

А	Б	В	Г

18. В группе учится 30 студентов, из них 20 студентов получили зачёт по экономике и 20 студентов получили зачёт по английскому языку. Выберите утверждения, которые следуют из приведённых данных.

В этой группе

- 1) не менее 10 студентов не получили зачёта ни по экономике, ни по английскому языку
- 2) хотя бы 10 студентов получили зачёты и по экономике, и по английскому языку
- 3) не больше 20 студентов получили зачёты и по экономике, и по английскому языку
- 4) найдётся студент, который не получил зачёта по английскому языку, но получил зачёт по экономике.

В ответе запишите номера выбранных утверждений без пробелов, запятых и других дополнительных символов.

19. Приведите пример трёхзначного натурального числа, которое при делении на 4 и на 15 даёт равные ненулевые остатки и средняя цифра которого является средним арифметическим крайних цифр. В ответе укажите ровно одно такое число.

20. Во всех подъездах дома одинаковое число этажей, а на каждом этаже одинаковое число квартир. При этом число этажей в доме больше числа квартир на этаже, число квартир на этаже больше числа подъездов, а число подъездов больше одного. Сколько этажей в доме, если всего в нём 110 квартир?