

При выполнении заданий с кратким ответом впишите в поле для ответа цифру, которая соответствует номеру правильного ответа, или число, слово, последовательность букв (слов) или цифр. Ответ следует записывать без пробелов и каких-либо дополнительных символов. Дробную часть отделяйте от целой десятичной запятой. Единицы измерений писать не нужно.

Если вариант задан учителем, вы можете вписать или загрузить в систему ответы к заданиям с развернутым ответом. Учитель увидит результаты выполнения заданий с кратким ответом и сможет оценить загруженные ответы к заданиям с развернутым ответом. Выставленные учителем баллы отобразятся в вашей статистике.

1. Найдите значение выражения: $\left(\frac{11}{18} + \frac{2}{9}\right) : \frac{5}{48}$.

2. Найдите произведение чисел $7 \cdot 10^5$ и $1,3 \cdot 10^{-7}$.

3. В магазине вся мебель продаётся в разобранном виде. Покупатель может заказать сборку мебели на дому, стоимость которой составляет 5% от стоимости купленной мебели. Шкаф стоит 4200 рублей. Во сколько рублей обойдётся покупка этого шкафа вместе со сборкой?

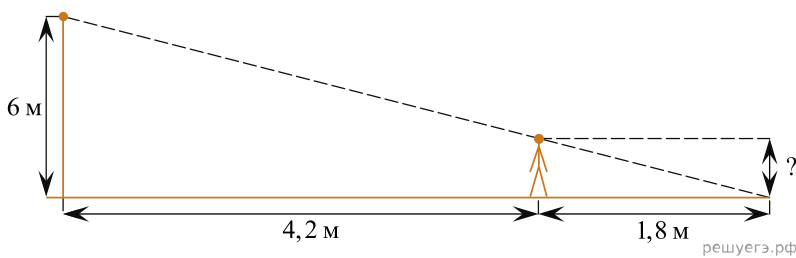
4. В фирме «Эх, прокачу!» стоимость поездки на такси длительностью меньше 5 минут составляет 150 рублей. Если поездка длится 5 минут или более, то её стоимость (в рублях) рассчитывается по формуле $C = 150 + 11(t - 5)$, где t — длительность поездки, выраженная в минутах ($t \geq 5$). Пользуясь этой формулой, рассчитайте стоимость 15-минутной поездки. Ответ укажите в рублях.

5. Найдите значение выражения $\log_4 8$.

6. В пачке 500 листов бумаги формата А4. За неделю в офисе расходуется 600 листов. Какого наименьшего количества пачек бумаги хватит на 6 недель?

7. Решите уравнение $\sqrt{-3+4x} = x$. Если уравнение имеет более одного корня, в ответе запишите меньший из корней.

8. Человек стоит на расстоянии 4,2 м от столба, на котором висит фонарь, расположенный на высоте 6 м. Тень человека равна 1,8 м. Какого роста человек (в метрах)?



9. Установите соответствие между величинами и их возможными значениями: к каждому элементу первого столбца подберите соответствующий элемент из второго столбца.

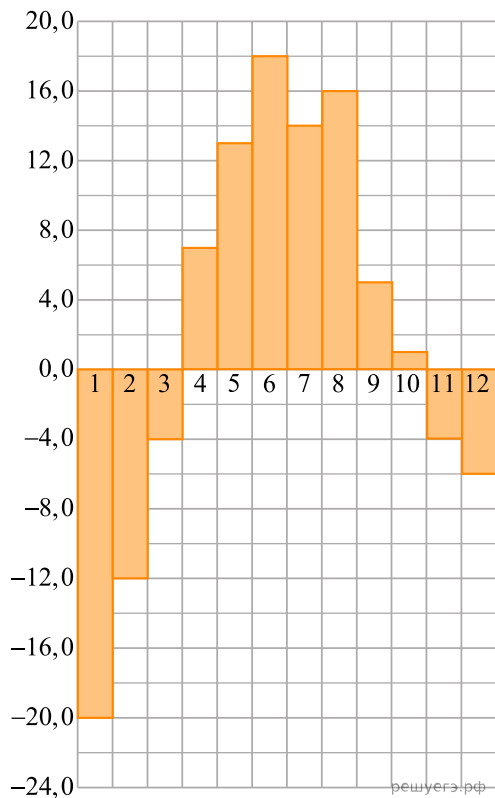
ВЕЛИЧИНЫ	ЗНАЧЕНИЯ
А) площадь волейбольной площадки	1) 162 кв. м
Б) площадь тетрадного листа	2) 600 кв. см
В) площадь письменного стола	3) 2511 кв. км
Г) площадь города Москвы	4) 1,2 кв. м

Запишите в ответ цифры, расположив их в порядке, соответствующем буквам:

А	Б	В	Г

10. На семинар приехали 7 ученых из Норвегии, 4 из России и 5 из Испании. Порядок докладов определяется жеребьевкой. Найдите вероятность того, что восьмым окажется доклад ученого из России.

11. На диаграмме показана среднемесячная температура воздуха в Екатеринбурге (Свердловске) за каждый месяц 1973 года. По горизонтали указываются месяцы, по вертикали — температура в градусах Цельсия. Определите по диаграмме наибольшую среднемесячную температуру во второй половине 1973 года. Ответ дайте в градусах Цельсия.



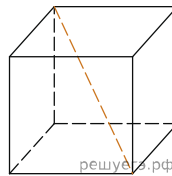
12. Рейтинговое агентство определяет рейтинг соотношения «цена-качество» электрических фенов для волос. Рейтинг вычисляется на основе средней цены P и оценок функциональности F , качества Q и дизайна D . Каждый отдельный показатель оценивается экспертами по пятибалльной шкале целыми числами от 0 до 4. Итоговый рейтинг вычисляется по формуле

$$R = 3(F + Q) + D - 0,01P.$$

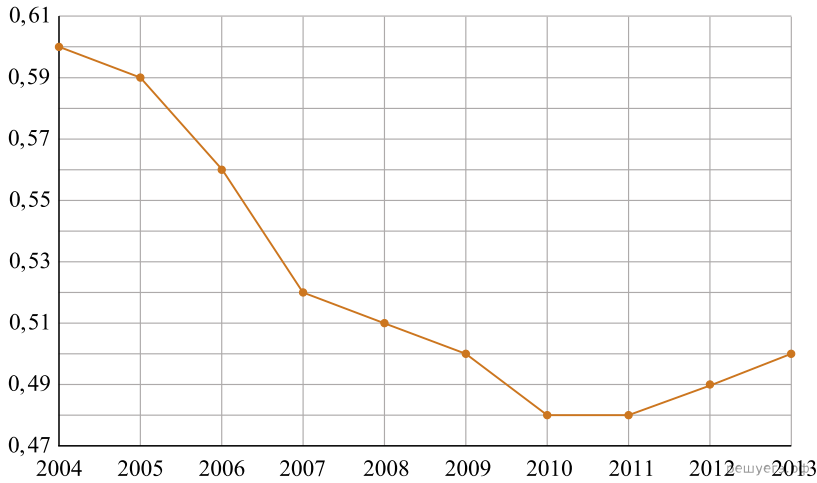
В таблице даны оценки каждого показателя для нескольких моделей фенов. Определите, какая модель имеет наименьший рейтинг. В ответ запишите значение этого рейтинга.

Модель фена	Средняя цена	Функциональность	Качество	Дизайн
А	1200	1	3	1
Б	3200	2	3	4
В	5500	3	0	0
Г	5700	3	2	3

13. Во сколько раз увеличится площадь поверхности куба, если его ребро увеличить в три раза?



14. На рисунке точками показан прирост населения Китая в период с 2004 по 2013 годы. По горизонтали указывается год, по вертикали — прирост населения в процентах (увеличение численности населения относительно прошлого года). Для наглядности точки соединены линией.



Пользуясь рисунком, поставьте в соответствие каждому из указанных периодов времени характеристику прироста населения Китая.

ИНТЕРВАЛЫ

- А) 2005–2007 гг.
- Б) 2007–2009 гг.
- В) 2009–2011 гг.
- Г) 2011–2013 гг.

ХАРАКТЕРИСТИКИ

- 1) Падение прироста остановилось.
- 2) Наибольшее падение прироста населения.
- 3) Прирост населения находился в пределах от 0,5% до 0,52%.
- 4) Прирост населения увеличивался.


Запишите в ответ цифры, расположив их в порядке, соответствующем буквам:

А	Б	В	Г

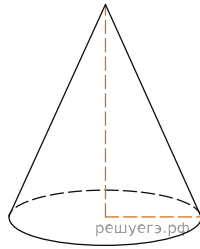
15.

Найдите (в см²) площадь S закрашенной фигуры, изображенной на клетчатой бумаге с размером клетки

1 см × 1 см (см. рис.). В ответе запишите $\frac{S}{\pi}$.



16. Площадь боковой поверхности конуса в два раза больше площади основания. Найдите угол между образующей конуса и плоскостью основания. Ответ дайте в градусах.



17. Каждому из четырёх неравенств в левом столбце соответствует одно из решений в правом столбце. Установите соответствие между неравенствами и их решениями.

НЕРАВЕНСТВА	РЕШЕНИЯ
А) $\log_2 x > 2$	1) $(4; +\infty)$
Б) $\log_2 x < -2$	2) $(0; 4)$
В) $\log_2 x > -2$	3) $\left(\frac{1}{4}; +\infty\right)$
Г) $\log_2 x < 2$	4) $\left(0; \frac{1}{4}\right)$

Запишите в ответ цифры, расположив их в порядке, соответствующем буквам:

А	Б	В	Г

Номер в банке ФИПИ: 96353F

18. Перед футбольным турниром измерили рост каждого игрока футбольной команды города N. Оказалось, что рост каждого из футболистов этой команды больше 170 см и меньше 190 см.

Выберите утверждения, которые следуют из данной информации.

- 1) В футбольной команде города N обязательно есть игрок, рост которого равен 180 см.
- 2) В футбольной команде города N нет игроков с ростом 169 см.
- 3) Рост любого футболиста этой команды меньше 190 см.
- 4) Разница в росте любых двух игроков футбольной команды города N составляет не более 20 см.

В ответе запишите номера выбранных утверждений без пробелов, запятых и других дополнительных символов.

19. Найдите четырехзначное число, кратное 66, все цифры которого различны и четны. В ответе укажите какое-нибудь такое число.

20. На поверхности глобуса фломастером проведены 12 параллелей и 22 меридиана. На сколько частей проведённые линии разделили поверхность глобуса?

Меридиан — это дуга окружности, соединяющая Северный и Южный полюсы. Параллель — это окружность, лежащая в плоскости, параллельной плоскости экватора.