

Апробация базового ЕГЭ по математике, 13—17 октября: вариант 120914.

При выполнении заданий с кратким ответом впишите в поле для ответа цифру, которая соответствует номеру правильного ответа, или число, слово, последовательность букв (слов) или цифр. Ответ следует записывать без пробелов и каких-либо дополнительных символов. Дробную часть отделяйте от целой десятичной запятой. Единицы измерений писать не нужно.

Если вариант задан учителем, вы можете вписать или загрузить в систему ответы к заданиям с развернутым ответом. Учитель увидит результаты выполнения заданий с кратким ответом и сможет оценить загруженные ответы к заданиям с развернутым ответом. Выставленные учителем баллы отобразятся в вашей статистике.

1. Найдите значение выражения $21 \cdot \left(\frac{13}{24} - \frac{7}{12} - \frac{1}{6} \right)$.

2. Найдите значение выражения $\frac{(9^{-4})^2}{9^{-10}}$.

3. Футболка стоила 500 рублей. После снижения цены она стала стоить 390 рублей. На сколько процентов была снижена цена на футболку?

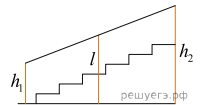
4. Среднее геометрическое трёх чисел a , b и c вычисляется по формуле $g = \sqrt[3]{abc}$. Вычислите среднее геометрическое чисел 5, 25, 27.

5. Найдите значение выражения $-22 \sin 390^\circ$.

6. В университетскую библиотеку привезли новые учебники по русскому языку для трёх курсов, по 60 штук для каждого курса. Все книги одинаковы по размеру. В книжном шкафу 5 полок, на каждой полке помещается 25 учебников. Сколько шкафов можно полностью заполнить новыми учебниками?

7. Найдите корень уравнения $\left(\frac{1}{3} \right)^{x-8} = \frac{1}{9}$.

8. Перила лестницы дачного дома для надёжности укреплены посередине вертикальным столбом. Найдите высоту l этого столба, если наименьшая высота h_1 перил относительно земли равна 1,5 м, а наибольшая h_2 равна 2,5 м. Ответ дайте в метрах.



9. Установите соответствие между величинами и их возможными значениями: к каждому элементу первого столбца подберите соответствующий элемент из второго столбца.

ВЕЛИЧИНЫ	ВОЗМОЖНЫЕ ЗНАЧЕНИЯ
А) площадь одной страницы учебника	1) 81,7 кв. м
Б) площадь территории республики Карелия	2) 330 кв. см
В) площадь одной стороны монеты	3) 180,5 тыс. кв. км
Г) площадь бадминтонной площадки	4) 300 кв. мм

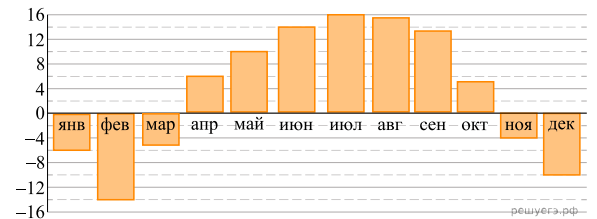
В таблице под каждой буквой, соответствующей величине, укажите номер её возможного значения.

А	Б	В	Г

Номер в банке ФИПИ: 2288Е3

10. В среднем из 2000 садовых насосов, поступивших в продажу, 14 подтекают. Найдите вероятность того, что один случайно выбранный для контроля насос не подтекает.

11. На диаграмме показана среднемесячная температура воздуха в Нижнем Новгороде за каждый месяц 1994 года. По горизонтали указываются месяцы, по вертикали — температура в градусах Цельсия. Определите по диаграмме наибольшую среднемесячную температуру в 1994 году. Ответ дайте в градусах Цельсия.

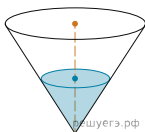


12. Путешественник из Москвы хочет посетить четыре города Золотого кольца России: Владимир, Ярославль, Суздаль и Ростов. Турагентство предлагает маршруты с посещением некоторых городов Золотого кольца. Сведения о стоимости билетов и составе маршрутов представлены в таблице.

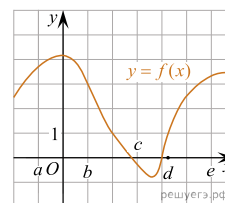
Номер маршрута	Посещаемые города	Стоимость (руб.)
1	Суздаль, Ярославль, Владимир	3900
2	Ростов, Владимир	2400
3	Ярославль, Владимир	2100
4	Суздаль	1650
5	Ростов, Суздаль	2700
6	Ярославль, Ростов	2350

Какие маршруты должен выбрать путешественник, чтобы побывать во всех четырёх городах и затратить на все поездки менее 5000 рублей? В ответе укажите ровно один набор маршрутов без пробелов, запятых и других дополнительных символов.

13. В сосуде, имеющем форму конуса, уровень жидкости достигает $\frac{1}{2}$ высоты. Объём жидкости равен 90 мл. Сколько миллилитров жидкости нужно долить, чтобы наполнить сосуд доверху?



14. На рисунке изображён график функции $y = f(x)$. Числа a, b, c, d и e задают на оси x четыре интервала. Пользуясь графиком, поставьте в соответствие каждому интервалу характеристику функции или её производной.



ИНТЕРВАЛЫ

- А) $(a; b)$
- Б) $(b; c)$
- В) $(c; d)$
- Г) $(d; e)$

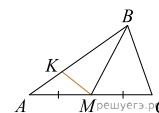
ЗНАЧЕНИЯ ПРОИЗВОДНОЙ

- 1) производная отрицательна на всём интервале
- 2) производная положительна в начале интервала и отрицательна в конце интервала
- 3) функция отрицательна в начале интервала и положительна в конце интервала
- 4) производная положительна на всём интервале

Запишите в ответ цифры, расположив их в порядке, соответствующем буквам:

А	Б	В	Г

15. В треугольнике ABC проведена медиана BM , на стороне AB взята точка K так, что $AK = \frac{1}{3}AB$. Площадь треугольника AMK равна 5. Найдите площадь треугольника ABC .



16. Два ребра прямоугольного параллелепипеда равны 7 и 4, а объём параллелепипеда равен 140. Найдите площадь поверхности этого параллелепипеда.



17. Каждому из четырёх неравенств в левом столбце соответствует одно из решений из правого столбца. Установите соответствие между неравенствами и их решениями.

НЕРАВЕНСТВА	РЕШЕНИЯ
А) $\frac{1}{(x-2)(x-3)} > 0$	1) $x < 2$ или $x > 3$
Б) $3^{-x+3} > 3$	2) $2 < x < 3$
В) $\log_3 x > 1$	3) $x < 2$
Г) $\frac{x-3}{x-2} < 0$	4) $x > 3$

Запишите в ответ цифры, расположив их в порядке, соответствующем буквам:

А	Б	В	Г

18. В доме Кости больше этажей, чем в доме Олега, в доме Тани меньше этажей, чем в доме Олега, а в доме Феде больше этажей, чем в Танином доме. Выберите утверждения, которые следуют из приведённых данных.

- 1) Дом Тани самый малоэтажный среди перечисленных четырёх.
- 2) В доме Олега меньше этажей, чем в доме Феде.
- 3) В Костином доме больше этажей, чем в Танином.
- 4) Среди этих четырёх домов точно нет двух с одинаковым количеством этажей.

В ответе запишите номера выбранных утверждений без пробелов, запятых и других дополнительных символов.

19. Цифры четырёхзначного числа, кратного 5, записали в обратном порядке и получили второе четырёхзначное число. Затем из первого числа вычли второе и получили 3627. Приведите ровно один пример такого числа.

20. На кольцевой дороге расположены четыре бензоколонки: А, В, С и D. Расстояние между А и В — 50 км, между А и С — 40 км, между С и D — 25 км, между D и А — 35 км (все расстояния измеряются вдоль кольцевой дороги в кратчайшую сторону). Найдите расстояние между В и С.