

## Апробация базового ЕГЭ по математике, 13—17 октября: вариант 152742.

При выполнении заданий с кратким ответом впишите в поле для ответа цифру, которая соответствует номеру правильного ответа, или число, слово, последовательность букв (слов) или цифр. Ответ следует записывать без пробелов и каких-либо дополнительных символов. Дробную часть отделяйте от целой десятичной запятой. Единицы измерений писать не нужно.

Если вариант задан учителем, вы можете вписать или загрузить в систему ответы к заданиям с развернутым ответом. Учитель увидит результаты выполнения заданий с кратким ответом и сможет оценить загруженные ответы к заданиям с развернутым ответом. Выставленные учителем баллы отобразятся в вашей статистике.

1. Найдите значение выражения  $\frac{1}{\frac{1}{9} - \frac{1}{12}}$ .

2. Найдите частное от деления  $4,5 \cdot 10^2$  на  $9 \cdot 10^{-2}$ .

3. В начале года число абонентов телефонной компании «Восток» составляло 800 тыс. человек, а в конце года их стало 880 тыс. человек. На сколько процентов увеличилось за год число абонентов этой компании?

Номер в банке ФИПИ: 28D0FF

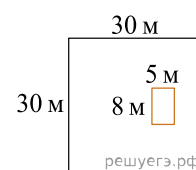
4. Зная длину своего шага, человек может приближённо подсчитать пройденное им расстояние  $s$  по формуле  $s = nl$ , где  $n$  — число шагов,  $l$  — длина шага. Какое расстояние прошёл человек, если  $l = 80$  см,  $n = 1100$ ? Ответ выразите в километрах.

5. Найдите значение выражения  $\log_4 512 - \log_4 2$ .

6. В университетскую библиотеку привезли новые учебники по геометрии для двух курсов, по 320 штук для каждого курса. Все книги одинаковы по размеру. В книжном шкафу 9 полок, на каждой полке помещается 20 учебников. Сколько шкафов можно полностью заполнить новыми учебниками?

7. Найдите корень уравнения  $2^{1-4x} = 32$ .

8. Дачный участок имеет форму квадрата, стороны которого равны 30 м. Размеры дома, расположенного на участке и имеющего форму прямоугольника, — 8 м × 5 м. Найдите площадь оставшейся части участка. Ответ дайте в квадратных метрах.



9. Установите соответствие между величинами и их возможными значениями: к каждому элементу первого столбца подберите соответствующий элемент из второго столбца.

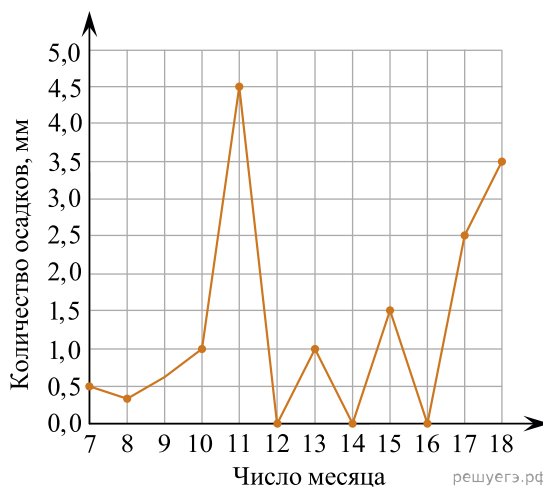
ВЕЛИЧИНЫ	ВОЗМОЖНЫЕ ЗНАЧЕНИЯ
А) площадь монитора компьютера	1) 75 500 кв. км
Б) площадь города Санкт-Петербурга	2) 960 кв. см
В) площадь ногтя на пальце взрослого человека	3) 100 кв. мм
Г) площадь Краснодарского края	4) 1399 кв. км

В таблице под каждой буквой, соответствующей величине, укажите номер её возможного значения.

А	Б	В	Г

10. На экзамене по геометрии школьник отвечает на один вопрос из списка экзаменационных вопросов. Вероятность того, что это вопрос по теме «Тригонометрия», равна 0,3. Вероятность того, что это вопрос по теме «Вписанная окружность», равна 0,25. Вопросов, которые одновременно относятся к этим двум темам, нет. Найдите вероятность того, что на экзамене школьнику достанется вопрос по одной из этих двух тем.

11. На рисунке жирными точками показано суточное количество осадков, выпавших в Элисте с 7 по 18 декабря 2001 года. По горизонтали указываются числа месяца, по вертикали — количество осадков, выпавших в соответствующий день, в миллиметрах. Для наглядности жирные точки на рисунке соединены линиями. Определите по рисунку, какое наибольшее суточное количество осадков выпало за данный период. Ответ дайте в миллиметрах.



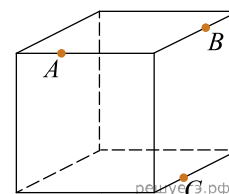
12. Путешественник из Москвы хочет посетить четыре города Золотого кольца России: Владимир, Ярославль, Суздаль и Ростов. Турагентство предлагает маршруты с посещением некоторых городов Золотого кольца. Сведения о стоимости билетов и составе маршрутов представлены в таблице.

Номер маршрута	Посещаемые города	Стоимость (руб.)
1	Владимир, Ростов	2150
2	Суздаль, Ярославль	2650
3	Владимир, Суздаль	2250
4	Ярославль	1700
5	Ярославль, Владимир, Ростов	3950
6	Суздаль, Ростов	2300

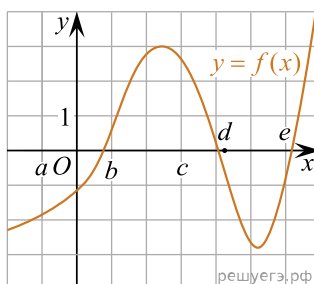
Какие маршруты должен выбрать путешественник, чтобы побывать во всех четырёх городах и затратить на все поездки менее 5000 рублей? В ответе укажите ровно один набор маршрутов без пробелов, запятых и других дополнительных символов.

Номер в банке ФИПИ: 5E7248

13. Плоскость, проходящая через три точки  $A$ ,  $B$  и  $C$ , разбивает куб на два многогранника. Сколько граней у многогранника, у которого больше граней?



14. На рисунке изображён график функции  $y = f(x)$ . Числа  $a$ ,  $b$ ,  $c$ ,  $d$  и  $e$  задают на оси  $x$  четыре интервала. Пользуясь графиком, поставьте в соответствие каждому интервалу характеристику функции или её производной.



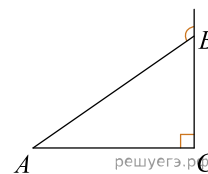
Ниже указаны значения производной в данных точках. Пользуясь графиком, поставьте в соответствие каждой точке значение производной в ней.

ТОЧКИ	ХАРАКТЕРИСТИКИ ФУНКЦИИ ИЛИ ПРОИЗВОДНОЙ
А) $(a; b)$	1) производная отрицательна на всём интервале
Б) $(b; c)$	2) производная положительна на всем интервале
В) $(c; d)$	3) функция отрицательна на всем интервале
Г) $(d; e)$	4) функция положительна на всём интервале

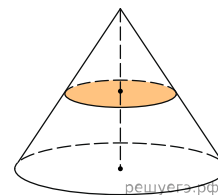
Запишите в ответ цифры, расположив их в порядке, соответствующем буквам:

А	Б	В	Г

15. В треугольнике  $ABC$  угол  $C$  равен  $90^\circ$ ,  $AB = 12$ . Внешний угол при вершине  $B$  равен  $120^\circ$ . Найдите  $BC$ .



16. Объём конуса равен 32. Через середину высоты конуса проведена плоскость, параллельная основанию. Найдите объём конуса, отсекаемого от данного конуса проведённой плоскостью.



17. Каждому из четырёх неравенств в левом столбце соответствует одно из решений из правого столбца. Установите соответствие между неравенствами и их решениями.

НЕРАВЕНСТВА	РЕШЕНИЯ
А) $\frac{1}{(x-2)(x-3)} > 0$	1) $(-\infty; 2) \cup (3; +\infty)$
Б) $3^{-x+3} > 3$	2) $(3; +\infty)$
В) $\log_3 x > 1$	3) $(-\infty; 2)$
Г) $\frac{x-3}{x-2} < 0$	4) $(2; 3)$

Впишите в приведённую в ответе таблицу под каждой буквой соответствующую цифру.

А	Б	В	Г

18. В доме Кости больше этажей, чем в доме Олега, в доме Тани меньше этажей, чем в доме Олега, а в доме Феде больше этажей, чем в Танином доме. Выберите утверждения, которые следуют из приведённых данных.

- 1) Дом Тани самый малоэтажный среди перечисленных четырёх.
- 2) В доме Олега меньше этажей, чем в доме Феде.
- 3) В Костином доме больше этажей, чем в Танином.
- 4) Среди этих четырёх домов точно нет двух с одинаковым количеством этажей.

В ответе запишите номера выбранных утверждений без пробелов, запятых и других дополнительных символов.

19. Приведите пример четырёхзначного натурального числа, кратного 45, сумма цифр которого на 1 меньше их произведения. В ответе укажите ровно одно такое число.

20. В обменном пункте можно совершить одну из двух операций:

- 1) за 3 золотых монеты получить 4 серебряных и одну медную;
- 2) за 7 серебряных монет получить 4 золотых и одну медную.

У Николы были только серебряные монеты. После посещения обменного пункта серебряных монет у него стало меньше, золотых не появилось, зато появилось 42 медных. На сколько уменьшилось количество серебряных монет у Николы?