

При выполнении заданий с кратким ответом впишите в поле для ответа цифру, которая соответствует номеру правильного ответа, или число, слово, последовательность букв (слов) или цифр. Ответ следует записывать без пробелов и каких-либо дополнительных символов. Дробную часть отделяйте от целой десятичной запятой. Единицы измерений писать не нужно.

Если вариант задан учителем, вы можете вписать или загрузить в систему ответы к заданиям с развернутым ответом. Учитель увидит результаты выполнения заданий с кратким ответом и сможет оценить загруженные ответы к заданиям с развернутым ответом. Выставленные учителем баллы отобразятся в вашей статистике.

1. На день рождения полагается дарить букет из нечетного числа цветов. Тюльпаны стоят 30 рублей за штуку. У Вани есть 500 рублей. Из какого наибольшего числа тюльпанов он может купить букет Маше на день рождения?

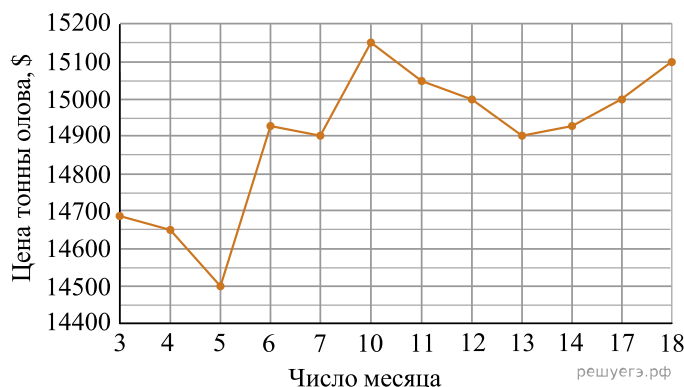
2. Установите соответствие между величинами и их возможными значениями:

ВЕЛИЧИНЫ	ВОЗМОЖНЫЕ ЗНАЧЕНИЯ
А) скорость движения автомобиля	1) 0,5 м/мин
Б) скорость движения пешехода	2) 60 км/час
В) скорость движения улитки	3) 330 м/сек
Г) скорость звука в воздушной среде	4) 4 км/час

Запишите в ответ цифры, расположив их в порядке, соответствующем буквам:

А	Б	В	Г

3. На рисунке жирными точками показана цена олова на момент закрытия биржевых торгов во все рабочие дни с 3 по 18 сентября 2007 года. По горизонтали указываются числа месяца, по вертикали — цена тонны олова в долларах США. Для наглядности жирные точки на рисунке соединены линией. Определите по рисунку, какого числа цена олова на момент закрытия торгов была наибольшей за данный период.



4. Площадь любого выпуклого четырехугольника можно вычислять по формуле $S = \frac{1}{2}d_1d_2 \sin \alpha$, где d_1 , d_2 — длины его диагоналей, а α — угол между ними. Вычислите $\sin \alpha$, если $S = 21$, $d_1 = 7$, $d_2 = 15$.

5. Ковбой Джон попадает в муху на стене с вероятностью 0,9, если стреляет из пристрелянного револьвера. Если Джон стреляет из непристрелянного револьвера, то он попадает в муху с вероятностью 0,2. На столе лежит 10 револьверов, из них только 4 пристрелянные. Ковбой Джон видит на стене муху, наудачу хватая первый попавшийся револьвер и стреляет в муху. Найдите вероятность того, что Джон промахнется.

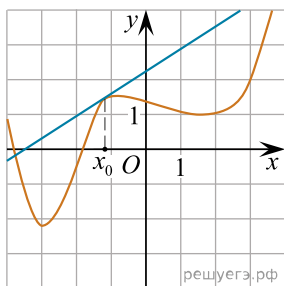
6. В городском парке имеется пять аттракционов: карусель, колесо обозрения, автодром, «Ромашка» и «Весёлый тир». В кассах продаётся шесть видов билетов, каждый из которых позволяет посетить один или два аттракциона. Сведения о стоимости билетов представлены в таблице.

Вид билета	Набор аттракционов	Стоимость (руб.)
1	«Весёлый тир», «Ромашка»	350
2	«Весёлый тир», карусель	450
3	Автодром, колесо обозрения	200
4	«Ромашка»	250
5	«Ромашка», автодром	300
6	Колесо обозрения, карусель	400

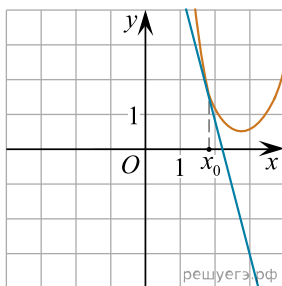
Андрей хочет посетить все пять аттракционов, но имеет в наличии только 900 рублей. Какие виды билетов он должен купить? В ответе укажите номера, соответствующие видам билетов, без пробелов, запятых и других дополнительных символов.

7. На рисунках изображены графики функций и касательные, проведённые к ним в точках с абсциссой x_0 . Установите соответствие между графиками функций и значениями производной этих функций в точке x_0 .

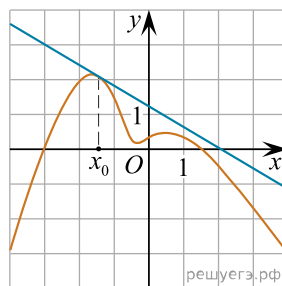
ГРАФИКИ



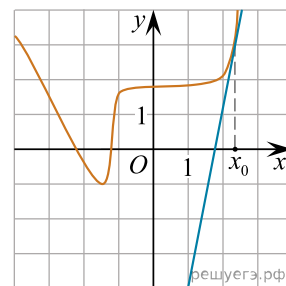
А)



Б)



В)



Г)

ЗНАЧЕНИЯ ПРОИЗВОДНОЙ

- 1) $\frac{2}{3}$
- 2) 5
- 3) -4
- 4) -0,6

В таблице под каждой буквой укажите соответствующий номер.

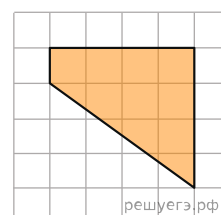
А	Б	В	Г

8. Согласно русской поговорке «Пока гром не грянет, мужик не перекрестится». Выберите утверждения, которые следуют из этой поговорки. Указание: *понимайте эту поговорку как условие «Без грома мужик не будет креститься».*

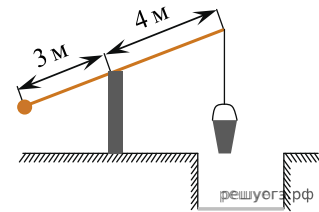
- 1. Если грянул гром, мужик перекрестится.
- 2. Если мужик не крестился, то грома не было.
- 3. Если не было грома, то мужик не крестился.
- 4. Если мужик перекрестился, то был гром.

В ответе укажите номера выбранных утверждений без пробелов, запятых и других дополнительных символов.

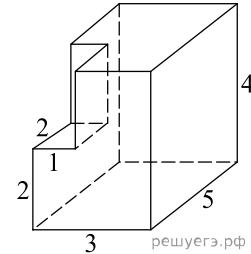
9. Найдите площадь трапеции, изображенной на клетчатой бумаге с размером клетки 1 см × 1 см (см. рис.). Ответ дайте в квадратных сантиметрах.



10. На рисунке изображен колодец с «журавлем». Короткое плечо имеет длину 3 м, а длинное плечо — 4 м. На сколько метров опустится конец длинного плеча, когда конец короткого поднимется на 1,5 м?

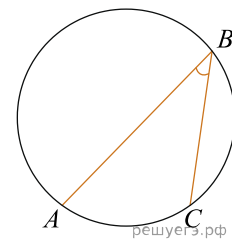


11. Найдите площадь поверхности многогранника, изображенного на рисунке (все двугранные углы прямые).

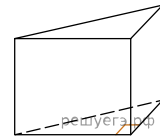


12.

Найдите вписанный угол, опирающийся на дугу, которая составляет $\frac{1}{5}$ окружности. Ответ дайте в градусах.



13. В основании прямой призмы лежит прямоугольный треугольник, один из катетов которого равен 2, а гипотенуза равна $\sqrt{53}$. Найдите объём призмы, если её высота равна 3.



14. Найдите значение выражения $\frac{2}{5} + \frac{1}{4} + 2$.

15. Только 94% из 27 500 выпускников города правильно решили задачу В1. Сколько человек правильно решили задачу В1?

16. Найдите значение выражения $\frac{8^{11} \cdot 32^{-2}}{4^7}$.

17. Найдите корень уравнения $2^{2x-3} = 2^{x-2}$.

18. Каждому из четырёх неравенств в левом столбце соответствует одно из решений в правом столбце. Установите соответствие между неравенствами и их решениями.

НЕРАВЕНСТВА	РЕШЕНИЯ
А) $2^x \geq 2$	1) $x \geq 1$
Б) $0,5^x \geq 2$	2) $x \leq 1$
В) $0,5^x \leq 2$	3) $x \leq -1$
Г) $2^x \leq 2$	4) $x \geq -1$

Запишите в ответ цифры, расположив их в порядке, соответствующем буквам:

А	Б	В	Г

Номер в банке ФИПИ: В1С5FD

19. Найдите наименьшее пятизначное число, кратное 55, произведение цифр которого больше 50, но меньше 75.

20. Двое рабочих, работая вместе, могут выполнить работу за 12 дней. За сколько дней, работая отдельно, выполнит эту работу первый рабочий, если он за два дня выполняет такую же часть работы, какую второй — за три дня?

21. Список заданий викторины состоял из 25 вопросов. За каждый правильный ответ ученик получал 7 очков, за неправильный ответ с него списывали 10 очков, а при отсутствии ответа давали 0 очков. Сколько верных ответов дал ученик, набравший 42 очка, если известно, что по крайней мере один раз он ошибся?