

Демонстрационная версия ЕГЭ — 2017.

При выполнении заданий с кратким ответом впишите в поле для ответа цифру, которая соответствует номеру правильного ответа, или число, слово, последовательность букв (слов) или цифр. Ответ следует записывать без пробелов и каких-либо дополнительных символов. Дробную часть отделяйте от целой десятичной запятой. Единицы измерений писать не нужно.

Если вариант задан учителем, вы можете вписать или загрузить в систему ответы к заданиям с развернутым ответом. Учитель увидит результаты выполнения заданий с кратким ответом и сможет оценить загруженные ответы к заданиям с развернутым ответом. Выставленные учителем баллы отобразятся в вашей статистике.

1. Вычислите: $(6,7 - 3,2) \cdot 2,4$.

ИЛИ

Вычислите: $\left(\frac{1}{3} + \frac{1}{5}\right) \cdot 6$.

2. Найдите значение выражения: $\frac{0,24 \cdot 10^6}{0,6 \cdot 10^4}$.

ИЛИ

Найдите значение выражения $\frac{2^6 \cdot 3^8}{6^5}$.

3. Ивану Кузьмичу начислена заработная плата 20 000 рублей. Из этой суммы вычитается налог на доходы физических лиц в размере 13%. Сколько рублей он получит после уплаты подоходного налога?

ИЛИ

ЕГЭ по физике сдавали 25 выпускников школы, что составляет треть от общего количества выпускников. Сколько выпускников этой школы не сдавали экзамен по физике?

4. Найдите m из равенства $F = ma$, если $F = 84$ и $a = 12$.

ИЛИ

Найдите v_0 из равенства $v = v_0 + at$, если $v = 20$, $t = 2$ и $a = 7$.

ИЛИ

Найдите S из равенства $S = v_0 \cdot t + \frac{at^2}{2}$, если $v_0 = 6$, $t = 2$, $a = -2$.

5. Найдите $\cos \alpha$, если $\sin \alpha = 0,8$ и $90^\circ < \alpha < 180^\circ$.

ИЛИ

Найдите значение выражения $(2\sqrt{13} - 1)(2\sqrt{13} + 1)$.

ИЛИ

Найдите значение выражения $5^{\log_5 6 + 1}$.

6. Баночка йогурта стоит 14 рублей 60 копеек. Какое наибольшее количество баночек йогурта можно купить на 100 рублей?

ИЛИ

Килограмм моркови стоит 40 рублей. Олег купил 1 кг 600 г моркови. Сколько рублей сдачи он должен получить со 100 рублей?

ИЛИ

Для ремонта требуется 63 рулона обоев. Какое наименьшее количество пачек обойного клея нужно для такого ремонта, если 1 пачка клея рассчитана на 6 рулонов?

7. Найдите корень уравнения $3^{x-3} = 81$.

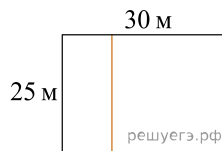
ИЛИ

Найдите корень уравнения $\log_2(x-3) = 6$.

ИЛИ

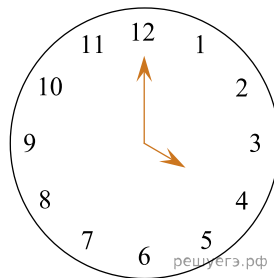
Найдите отрицательный корень уравнения $x^2 - x - 6 = 0$.

8. Дачный участок имеет форму прямоугольника со сторонами 25 метров и 30 метров. Хозяин планирует обнести его забором и разделить таким же забором на две части, одна из которых имеет форму квадрата. Найдите общую длину забора в метрах.



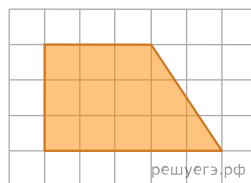
ИЛИ

Какой наименьший угол (в градусах) образуют минутная и часовая стрелки часов в 16:00?



ИЛИ

План местности разбит на клетки. Каждая клетка обозначает квадрат $1 \text{ м} \times 1 \text{ м}$. Найдите площадь участка, выделенного на плане. Ответ дайте в квадратных метрах.



9. Установите соответствие между величинами и их возможными значениями: к каждому элементу первого столбца подберите соответствующий элемент из второго столбца.

ВЕЛИЧИНЫ	ВОЗМОЖНЫЕ ЗНАЧЕНИЯ
А) рост ребёнка	1) 32 км
Б) толщина листа бумаги	2) 30 м
В) длина автобусного маршрута	3) 0,2 мм
Г) высота жилого дома	4) 110 см

ИЛИ

Установите соответствие между величинами и их возможными значениями: к каждому элементу первого столбца подберите соответствующий элемент из второго столбца.

ВЕЛИЧИНЫ	ВОЗМОЖНЫЕ ЗНАЧЕНИЯ
А) масса взрослого человека	1) 8 т
Б) масса грузового автомобиля	2) 5 г
В) масса книги	3) 65 кг
Г) масса пуговицы	4) 300 г

Запишите в ответ цифры, расположив их в порядке, соответствующем буквам:

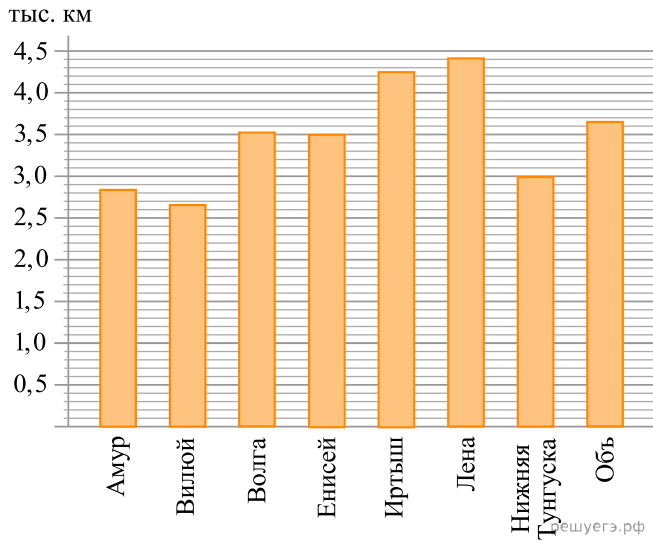
А	Б	В	Г

10. В чемпионате по прыжкам в воду участвуют 35 спортсменов: 7 из России, 12 из Китая, 9 из Японии и 7 из США. Порядок, в котором выступают спортсмены, определяется жребием. Найдите вероятность того, что спортсмен, выступающий первым, окажется представителем России.

ИЛИ

Из каждых 100 лампочек, поступающих в продажу, в среднем 3 неисправны. Какова вероятность того, что случайно выбранная в магазине лампочка окажется исправной?

11. На диаграмме приведены данные о длине восьми крупнейших рек России (в тысячах километров). Первое место по длине занимает Лена. На каком месте по длине, согласно этим данным, находится Амур?



ИЛИ

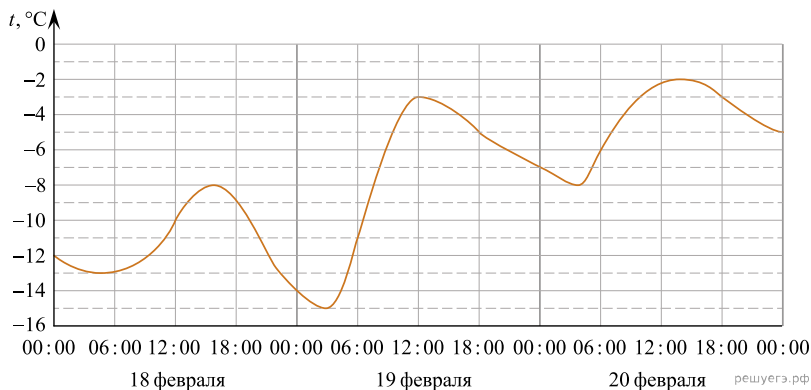
В таблице показано распределение медалей на зимних Олимпийских играх в Сочи среди стран, занявших первые 10 мест по количеству золотых медалей.

Место	Страна	Медали			
		Золотые	Серебряные	Бронзовые	Всего
1	Россия	13	11	9	33
2	Норвегия	11	5	10	26
3	Канада	10	10	5	25
4	США	9	7	12	28
5	Нидерланды	8	7	9	24
6	Германия	8	6	5	19
7	Швейцария	6	3	2	11
8	Белоруссия	5	0	1	6
9	Австрия	4	8	5	17
10	Франция	4	4	7	15

Определите с помощью таблицы, сколько серебряных медалей у страны, занявшей второе место по числу золотых медалей.

ИЛИ

На графике показано изменение температуры воздуха на протяжении трёх суток. На горизонтальной оси отчается число, месяц, время суток в часах; на вертикальной оси — значение температуры в градусах Цельсия.



Определите по графику наибольшую температуру воздуха 19 февраля. Ответ дайте в градусах Цельсия.

12. Для обслуживания международного семинара необходимо собрать группу переводчиков. Сведения о кандидатах представлены в таблице.

Переводчики	Языки	Стоимость услуг (рублей в день)
1	Немецкий, испанский	7000
2	Английский, немецкий	6000
3	Английский	3000
4	Английский, французский	6000
5	Французский	2000
6	Испанский	4000

Пользуясь таблицей, соберите хотя бы одну группу, в которой переводчики вместе владеют четырьмя иностранными языками — английским, немецким, французским и испанским, а суммарная стоимость их услуг не превышает 12 000 рублей в день. В ответе укажите ровно один набор номеров переводчиков без пробелов, запятых и других дополнительных символов. *Перечислите в порядке возрастания номеров.*

ИЛИ

Турист подбирает себе экскурсии. Сведения об экскурсиях представлены в таблице.

Номер экскурсии	Посещаемый объект	Стоимость (руб.)
1	Крепость, загородный дворец	350
2	Музей живописи	200
3	Парк	150
4	Парк, музей живописи	300
5	Парк, крепость	300
6	Загородный дворец	200

Пользуясь таблицей, подберите экскурсии так, чтобы турист посетил четыре объекта: крепость, загородный дворец, парк и музей живописи, а суммарная стоимость экскурсий не превышала 650 рублей. В ответе укажите ровно один набор номеров экскурсий без пробелов, запятых и других дополнительных символов.

ИЛИ

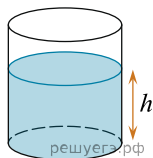
Строительная фирма планирует купить 70 м^3 пеноблоков у одного из трёх поставщиков. Цены и условия доставки приведены в таблице.

Поставщик	Стоимость пеноблоков (руб. за 1 м^3)	Стоимость доставки (руб.)	Дополнительные условия
А	2600	10 000	Нет
Б	2800	8000	При заказе товара на сумму свыше 150 000 рублей доставка бесплатная
В	2700	8000	При заказе товара на сумму свыше 200 000 рублей доставка бесплатная

У какого поставщика стоимость покупки (с доставкой) будет наименьшей? В ответе укажите эту стоимость.

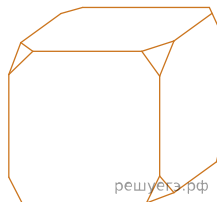
13.

Вода в сосуде цилиндрической формы находится на уровне $h = 80$ см. На каком уровне окажется вода, если её перелить в другой цилиндрический сосуд, у которого радиус основания в четыре раза больше, чем у данного? Ответ дайте в сантиметрах.

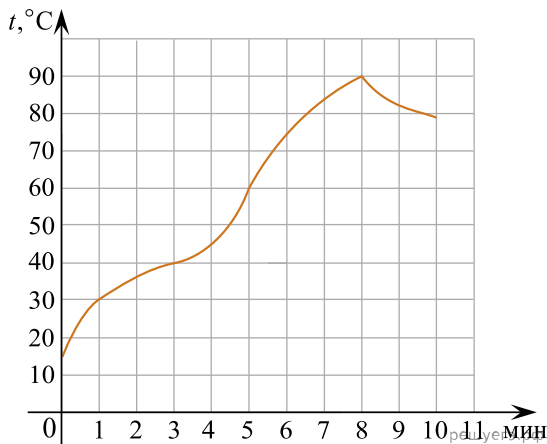


ИЛИ

От деревянного кубика отпилили все его вершины (см. рис.). Сколько граней у получившегося многогранника (невидимые ребра на рисунке не обозначены)?



14. На графике показан процесс разогрева двигателя легкового автомобиля. На оси абсцисс откладывается время в минутах, прошедшее с момента запуска двигателя, на оси ординат — температура двигателя в градусах Цельсия.



Пользуясь графиком, поставьте в соответствие каждому интервалу времени характеристику процесса разогрева двигателя на этом интервале.

ИНТЕРВАЛЫ ВРЕМЕНИ

- А) 0–1 мин.
- Б) 1–3 мин.
- В) 3–6 мин.
- Г) 8–10 мин.

ХАРАКТЕРИСТИКИ ПРОЦЕССА

- 1) температура росла медленнее всего
- 2) температура падала
- 3) температура находилась в пределах от 40°C до 80°C
- 4) температура не превышала 30 °C

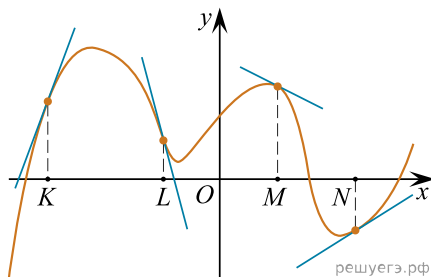
В таблице под каждой буквой, соответствующей интервалу времени, укажите номер характеристики процесса.

Запишите в ответ цифры, расположив их в порядке, соответствующем буквам:

А	Б	В	Г

ИЛИ

На рисунке изображён график функции, к которому проведены касательные в четырёх точках.



Ниже указаны значения производной в данных точках. Пользуясь графиком, поставьте в соответствие каждой точке значение производной в ней.

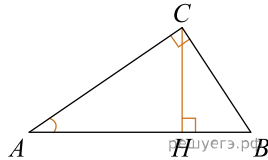
ТОЧКИ ЗНАЧЕНИЯ ПРОИЗВОДНОЙ

А) K	1) -4
Б) L	2) 3
В) M	3) $\frac{2}{3}$
Г) N	4) $-0,5$

Запишите в ответ цифры, расположив их в порядке, соответствующем буквам:

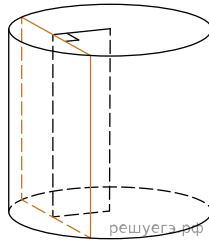
А	Б	В	Г

15. В треугольнике ABC угол ACB равен 90° , $\cos A = 0,8$, $AC = 4$. Отрезок CH — высота треугольника ABC (см. рис.). Найдите длину отрезка AH .



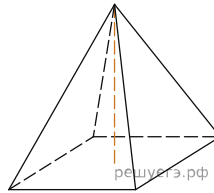
16.

Радиус основания цилиндра равен 13, а его образующая равна 18. Сечение, параллельное оси цилиндра, удалено от неё на расстояние, равное 12. Найдите площадь этого сечения.

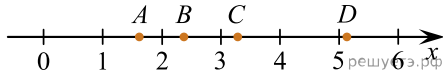


ИЛИ

Найдите объём правильной четырёхугольной пирамиды, сторона основания которой равна 4, а боковое ребро равно $\sqrt{17}$.



17. На координатной прямой отмечены точки A , B , C и D .



Каждой точке соответствует одно из чисел в правом столбце. Установите соответствие между указанными точками и числами.

ТОЧКИ	ЧИСЛА
A	1) $\log_2 10$
B	2) $\frac{7}{3}$
C	3) $\sqrt{26}$
D	4) $\left(\frac{3}{5}\right)^{-1}$

Запишите в ответ цифры, расположив их в порядке, соответствующем буквам:

A	B	C	D

ИЛИ

Каждому из четырёх неравенств в левом столбце соответствует одно из решений в правом столбце. Установите соответствие между неравенствами и их решениями.

НЕРАВЕНСТВА	РЕШЕНИЯ
А) $2^x \geq 4$	1)
Б) $0,5^x \geq 4$	2)
В) $0,5^x \leq 4$	3)
Г) $2^x \leq 4$	4)

Запишите в ответ цифры, расположив их в порядке, соответствующем буквам:

А	Б	В	Г

18. В классе учится 20 человек, из них 13 человек посещают кружок по истории, а 10 — кружок по математике. Выберите утверждения, которые верны при указанных условиях.

- 1) Каждый ученик этого класса посещает оба кружка.
- 2) Если ученик из этого класса ходит на кружок по истории, то он обязательно ходит на кружок по математике.
- 3) Найдутся хотя бы двое из этого класса, кто посещает оба кружка.
- 4) Не найдётся 11 человек из этого класса, которые посещают оба кружка.

В ответе запишите номера выбранных утверждений без пробелов, запятых и других дополнительных символов.

ИЛИ

Витя выше Коли, но ниже Маши. Аня не выше Вити. Выберите утверждения, которые верны при указанных условиях.

- 1) Маша самая высокая из указанных четырёх человек.
- 2) Аня и Маша одного роста.
- 3) Витя и Коля одного роста.
- 4) Коля ниже Маши.

В ответе запишите номера выбранных утверждений без пробелов, запятых и других дополнительных символов.

19. Приведите пример трёхзначного числа, сумма цифр которого равна 20, а сумма квадратов цифр делится на 3, но не делится на 9.

20. В обменном пункте можно совершить одну из двух операций:

- 1) за 2 золотых монеты получить 3 серебряных и одну медную;
- 2) за 5 серебряных монет получить 3 золотых и одну медную.

У Николая были только серебряные монеты. После нескольких посещений обменного пункта серебряных монет у него стало меньше, золотых не появилось, зато появилось 50 медных. На сколько уменьшилось количество серебряных монет у Николая?

ИЛИ

Прямоугольник разбит на четыре меньших прямоугольника двумя прямолинейными разрезами. Периметры трёх из них, начиная с левого верхнего и далее по часовой стрелке, равны 24, 28 и 16. Найдите периметр четвёртого прямоугольника.

24	28
?	16

решу.егэ.рф