

При выполнении заданий с кратким ответом впишите в поле для ответа цифру, которая соответствует номеру правильного ответа, или число, слово, последовательность букв (слов) или цифр. Ответ следует записывать без пробелов и каких-либо дополнительных символов. Дробную часть отделяйте от целой десятичной запятой. Единицы измерений писать не нужно.

Если вариант задан учителем, вы можете вписать или загрузить в систему ответы к заданиям с развернутым ответом. Учитель увидит результаты выполнения заданий с кратким ответом и сможет оценить загруженные ответы к заданиям с развернутым ответом. Выставленные учителем баллы отобразятся в вашей статистике.

1. Найдите значение выражения $(3,9 - 2,4) \cdot 8,2$.

2. Найдите значение выражения $\frac{6\sqrt{3} \cdot 7\sqrt{3}}{42\sqrt{3}-1}$.

3. Держатели дисконтной карты книжного магазина получают при покупке скидку 5%. Книга стоит 200 рублей. Сколько рублей заплатит держатель дисконтной карты за эту книгу?

Номер в банке ФИПИ: A2A7AD

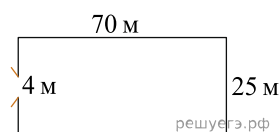
4. Перевести температуру из шкалы Фаренгейта в шкалу Цельсия позволяет формула $t_C = \frac{5}{9}(t_F - 32)$, где t_C — температура в градусах по шкале Цельсия, t_F — температура в градусах по шкале Фаренгейта. Скольким градусам по шкале Цельсия соответствует 50 градусов по шкале Фаренгейта?

5. Найдите $\cos x$, если $\sin x = -0,8$ и $180^\circ < x < 270^\circ$.

6. На бензоколонке один литр бензина стоит 32 руб. 60 коп. Водитель залил в бак 30 литров бензина и купил бутылку воды за 48 рублей. Сколько рублей сдачи он получит с 1500 рублей?

7. Найдите корень уравнения $\log_4(x + 3) = \log_4(4x - 15)$.

8. Участок земли имеет прямоугольную форму. Стороны прямоугольника 25 м и 70 м. Найдите длину забора (в метрах), которым нужно огородить участок, если в заборе нужно предусмотреть ворота шириной 4 м.



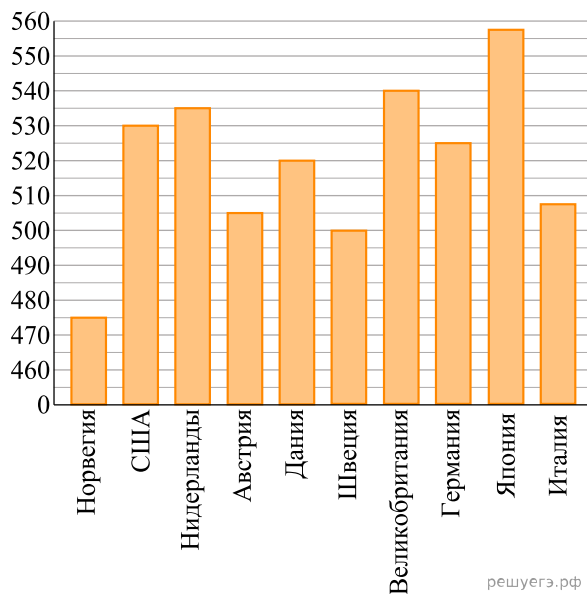
9. Установите соответствие между величинами и их возможными значениями: к каждому элементу первого столбца подберите соответствующий элемент из второго столбца.

ВЕЛИЧИНЫ	ВОЗМОЖНЫЕ ЗНАЧЕНИЯ
А) масса взрослого кита	1) 162 кв. м
Б) объём железнодорожного вагона	2) 100 т
В) площадь волейбольной площадки	3) 120 м ³
Г) ширина футбольного поля	4) 68 м

В таблице под каждой буквой укажите соответствующий номер.

10. Вероятность того, что новый DVD-проигрыватель в течение года поступит в гарантийный ремонт, равна 0,045. В некотором городе из 1000 проданных DVD-проигрывателей в течение года в гарантийную мастерскую поступила 51 штука. На сколько отличается частота события «гарантийный ремонт» от его вероятности в этом городе?

11. На диаграмме показан средний балл участников 10 стран в тестировании учащихся 4-го класса, по математике в 2007 году (по 1000-балльной шкале). По данным диаграммы найдите число стран, в которых средний балл ниже, чем в Нидерландах.



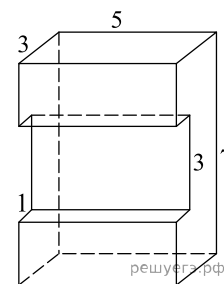
12. В нескольких эстафетах, которые проводились в школе, команды показали следующие результаты:

Команда	I эстафета, баллы	II эстафета, баллы	III эстафета, баллы
«Непобедимые»	4	4	1
«Прорыв»	1	2	3
«Чемпионы»	2	1	2
«Тайфун»	3	3	4

При подведении итогов для каждой команды баллы по всем эстафетам суммируются. Побеждает команда, набравшая наибольшее количество баллов. Какое итоговое место заняла команда «Чемпионы»?

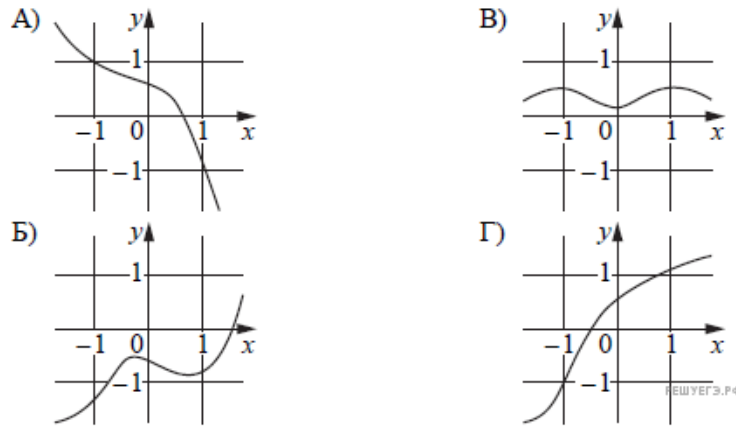
Номер в банке ФИПИ: 1E7105

13. Деталь имеет форму изображённого на рисунке многогранника (все двугранные углы прямые). Цифры на рисунке обозначают длины рёбер в сантиметрах. Найдите площадь поверхности этой детали. Ответ дайте в квадратных сантиметрах.



14. Установите соответствие между графиками функций и характеристиками этих функций на отрезке $[-1; 1]$.

ГРАФИКИ



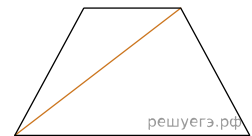
ХАРАКТЕРИСТИКИ

- 1) Функция принимает отрицательное значение в каждой точке отрезка $[-1; 1]$.
- 2) Функция принимает положительное значение в каждой точке отрезка $[-1; 1]$.
- 3) Функция убывает на отрезке $[-1; 1]$.
- 4) Функция возрастает на отрезке $[-1; 1]$.

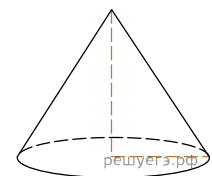
В таблице под каждой буквой укажите соответствующий номер.

А	Б	В	Г

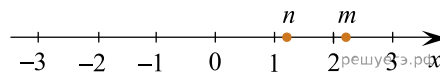
15. Основания равнобедренной трапеции равны 56 и 104, боковая сторона равна 30. Найдите длину диагонали трапеции.



16. Объем конуса равен 50π , а его высота равна 6. Найдите радиус основания конуса.



17. На прямой отмечены числа m и n .



Каждому из четырёх чисел в левом столбце соответствует отрезок, которому оно принадлежит. Установите соответствие между числами и отрезками из правого столбца.

ЧИСЛА	ОТРЕЗКИ
А) mn	1) $[0; 1]$
Б) $m + n$	2) $[1; 2]$
В) $\frac{n}{m}$	3) $[2; 3]$
Г) $\frac{1}{m} + n$	4) $[3; 4]$

Запишите в ответ цифры, расположив их в порядке, соответствующем буквам:

А	Б	В	Г

18. Школа приобрела стол, доску, магнитофон и принтер. Известно, что принтер дороже магнитофона, а доска дешевле магнитофона и дешевле стола. Выберите утверждения, которые верны при указанных условиях.

- 1) Магнитофон дешевле доски
- 2) Принтер дороже доски
- 3) Доска — самая дешёвая из покупок
- 4) Принтер и доска стоят одинаково

В бланк ответов запишите номера выбранных утверждений без пробелов, запятых и других дополнительных символов.

19. Найдите четырёхзначное число, кратное 88, все цифры которого различны и чётны. В ответе укажите какое-нибудь одно такое число.

20. Миша, Коля и Лёша играют в настольный теннис: игрок, проигравший партию, уступает место игроку, не участвовавшему в ней. В итоге оказалось, что Миша сыграл 10 партий, а Коля — 21. Сколько партий сыграл Лёша?