

При выполнении заданий с кратким ответом впишите в поле для ответа цифру, которая соответствует номеру правильного ответа, или число, слово, последовательность букв (слов) или цифр. Ответ следует записывать без пробелов и каких-либо дополнительных символов. Дробную часть отделяйте от целой десятичной запятой. Единицы измерений писать не нужно.

Если вариант задан учителем, вы можете вписать или загрузить в систему ответы к заданиям с развернутым ответом. Учитель увидит результаты выполнения заданий с кратким ответом и сможет оценить загруженные ответы к заданиям с развернутым ответом. Выставленные учителем баллы отобразятся в вашей статистике.

1. Найдите значение выражения $4\frac{4}{9} : \frac{4}{9}$.

2. Найдите значение выражения $\frac{0,5\sqrt{10}-1}{2-\sqrt{10}}$.

3. Одна таблетка лекарства весит 20 мг и содержит 5% активного вещества. Ребёнку в возрасте до 6 месяцев врач прописывает 1,4 мг активного вещества на каждый килограмм веса в сутки. Сколько таблеток этого лекарства следует дать ребёнку в возрасте четырёх месяцев и весом 5 кг в течение суток?

4. Площадь треугольника можно вычислить по формуле $S = \frac{bc \sin \alpha}{2}$, где b и c — стороны треугольника, а α — угол между этими сторонами. Пользуясь этой формулой, найдите площадь треугольника, если $\alpha = 30^\circ$, $c = 5$, $b = 6$.

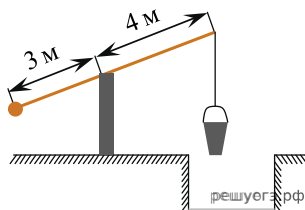
5. Найдите значение выражения $5 \operatorname{tg} 17^\circ \cdot \operatorname{tg} 107^\circ$.

6. Поступивший в продажу в апреле мобильный телефон стоил 2800 рублей. В мае он стал стоить 1820 рублей. На сколько процентов снизилась цена мобильного телефона в период с апреля по май?

Номер в банке ФИПИ: C95AF8

7. Найдите корень уравнения: $\left(\frac{1}{8}\right)^{-3+x} = 512$.

8. На рисунке изображен колодец с «журавлем». Короткое плечо имеет длину 3 м, а длинное плечо — 4 м. На сколько метров опустится конец длинного плеча, когда конец короткого поднимется на 1,5 м?



9. Установите соответствие между величинами и их возможными значениями:

ВЕЛИЧИНЫ	ВОЗМОЖНЫЕ ЗНАЧЕНИЯ
А) скорость движения автомобиля	1) 0,5 м/мин
Б) скорость движения пешехода	2) 60 км/час
В) скорость движения улитки	3) 330 м/сек
Г) скорость звука в воздушной среде	4) 4 км/час

Запишите в ответ цифры, расположив их в порядке, соответствующем буквам:

А	Б	В	Г

10. Конкурс исполнителей проводится в 5 дней. Всего заявлено 80 выступлений — по одному от каждой страны. В первый день 8 выступлений, остальные распределены поровну между оставшимися днями. Порядок выступлений определяется жеребьёвкой. Какова вероятность, что выступление представителя России состоится в третий день конкурса?

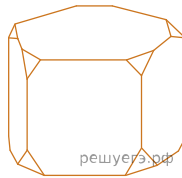
11. В соревнованиях по метанию молота участники показали следующие результаты:

Спортсмен	Результат попытки, м					
	I	II	III	IV	V	VI
Донников	49	50,5	50	51	51	49,5
Мелихов	51	52,5	49,5	50	52	51,5
Иванов	50,5	50	49	51,5	51	51,5
Теплицын	52	51	52	50,5	51,5	51

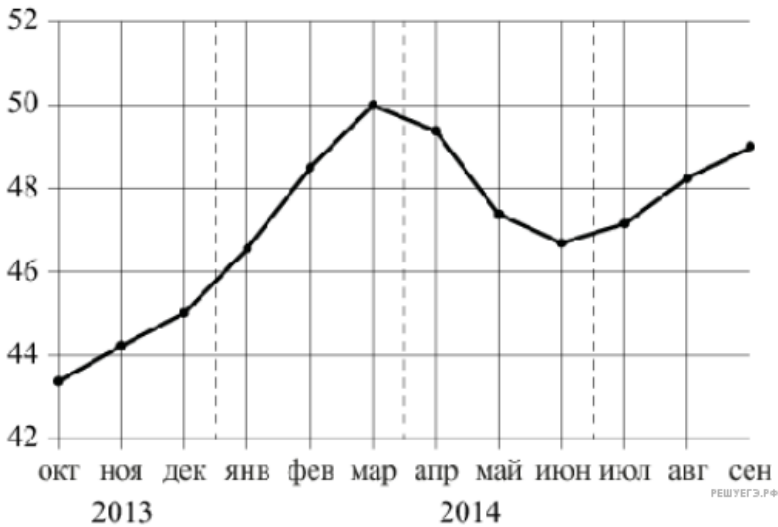
Места распределяются по результатам лучшей попытки каждого спортсмена: чем дальше он метнул молот, тем лучше. Каков результат лучшей попытки (в метрах) спортсмена, занявшего второе место?

12. В среднем гражданин А. в дневное время расходует 120 кВт·ч электроэнергии в месяц, а в ночное время — 185 кВт·ч электроэнергии. Раньше у А. в квартире был установлен однотарифный счетчик, и всю электроэнергию он оплачивал по тарифу 2,40 руб. за кВт·ч. Год назад А. установил двухтарифный счётчик, при этом дневной расход электроэнергии оплачивается по тарифу 2,40 руб. за кВт·ч, а ночной расход оплачивается по тарифу 0,60 руб. за кВт·ч. В течение 12 месяцев режим потребления и тарифы оплаты электроэнергии не менялись. На сколько больше заплатил бы А. за этот период, если бы не поменялся счетчик? Ответ дайте в рублях.

13. От деревянной правильной пятиугольной призмы отпилили все её вершины (см. рис.). Сколько граней у получившегося многогранника (невидимые рёбра на рисунке не изображены)?



14. На рисунке точками изображён среднемесячный курс евро в период с октября 2013 по года и по сентябрь 2014 года. По горизонтали указываются месяц и год, по вертикали – курс евро в рублях. Для наглядности точки соединены линиями.



Пользуясь рисунком, поставьте в соответствие каждому из указанных периодов времени характеристику курса евро.

ИНТЕРВАЛЫ ВРЕМЕНИ

- А) Октябрь — декабрь 2013 г.
- Б) Январь — март 2014 г.
- В) Апрель — июнь 2014 г.
- Г) Июль — сентябрь 2014 г.

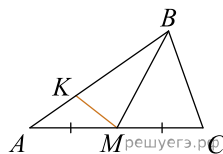
ХАРАКТЕРИСТИКИ КУРСА ЕВРО

- 1) Курс евро был выше 46 рублей и на протяжении всего этого периода возрастал
- 2) Курс евро был ниже 46 рублей
- 3) После роста курс евро начал падать
- 4) Курс евро достиг максимума

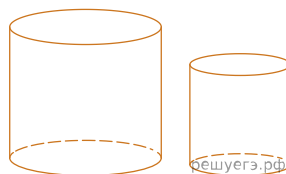
В таблице под каждой буквой укажите соответствующий номер.

А	Б	В	Г

15. В треугольнике ABC проведена медиана BM , на стороне AB взята точка K так, что $AK = \frac{1}{3}AB$. Площадь треугольника AMK равна 5. Найдите площадь треугольника ABC .



16. Даны два цилиндра. Радиус основания и высота первого равны соответственно 4 и 18, а второго — 2 и 3. Во сколько раз площадь боковой поверхности первого цилиндра больше площади боковой поверхности второго?



17. Каждому из четырёх неравенств в левом столбце соответствует одно из решений в правом столбце. Установите соответствие между неравенствами и их решениями.

НЕРАВЕНСТВА	РЕШЕНИЯ
А) $0,5^x \geq 4$ Б) $2^x \geq 4$ В) $0,5^x \leq 4$ Г) $2^x \leq 4$	1) $[-2; +\infty)$
	2) $[2; +\infty)$
	3) $(-\infty; 2]$
	4) $(-\infty; -2]$

Запишите в ответ цифры, расположив их в порядке, соответствующем буквам:

А	Б	В	Г

18. Известно, что берёзы — деревья, также известно, что все деревья выделяют кислород. Подсолнухи тоже выделяют кислород. Выберите утверждения, которые следуют из приведённых данных.

1. Все берёзы выделяют кислород.
2. Все подсолнухи являются берёзами.
3. Некоторые растения, выделяющие кислород, являются берёзами.
4. Если растение не выделяет кислород, то оно — не подсолнух.

В ответе укажите номера выбранных утверждений без пробелов, запятых и других дополнительных символов.

19. Вычеркните в числе 123 456 три цифры так, чтобы получившееся трёхзначное число делилось на 27. В ответе укажите получившееся число.

20. Кузнечик прыгает вдоль координатной прямой в любом направлении на единичный отрезок за прыжок. Сколько существует различных точек на координатной прямой, в которых кузнечик может оказаться, сделав ровно 6 прыжков, начиная прыгать из начала координат?