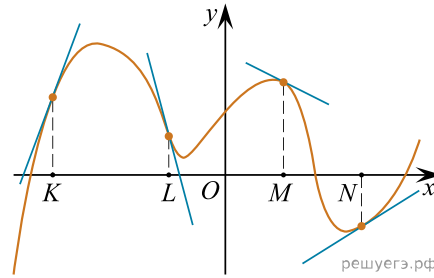


На рисунке изображён график функции, к которому проведены касательные в четырёх точках.



Ниже указаны значения производной в данных точках. Пользуясь графиком, поставьте в соответствие каждой точке значение производной в ней.

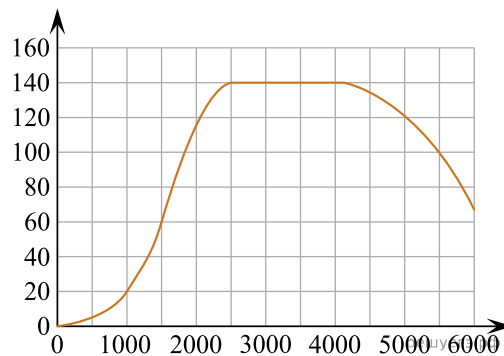
ТОЧКИ	ЗНАЧЕНИЯ ПРОИЗВОДНОЙ
А) K	1) -4
Б) L	2) 3
В) M	3) $\frac{2}{3}$
Г) N	4) $-0,5$

Запишите в ответ цифры, расположив их в порядке, соответствующем буквам:

А	Б	В	Г

ИЛИ

На графике изображена зависимость крутящего момента двигателя от числа его оборотов в минуту. На горизонтальной оси отмечено число оборотов в минуту, на вертикальной оси — крутящий момент в $\text{Н} \cdot \text{м}$.



Пользуясь графиком, поставьте в соответствие каждому интервалу числа оборотов в минуту характеристику крутящего момента на этом интервале.

ИНТЕРВАЛЫ ВРЕМЕНИ

- А) 0–500 об./мин.
- Б) 1000–2500 об./мин.
- В) 2500–4000 об./мин.
- Г) 4000–6000 об./мин.

ХАРАКТЕРИСТИКИ

- 1) при увеличении числа оборотов крутящий момент не меняется
- 2) при увеличении числа оборотов крутящий момент уменьшается
- 3) при увеличении числа оборотов самый быстрый рост крутящего момента
- 4) при увеличении числа оборотов крутящий момент не превышает $20 \text{ Н} \cdot \text{м}$ на всем интервале

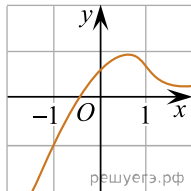
В таблице под каждой буквой укажите соответствующий номер.

<i>A</i>	<i>B</i>	<i>B</i>	<i>Г</i>

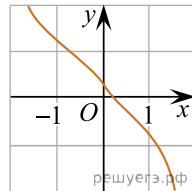
ИЛИ

Установите соответствие между графиками функций и характеристиками этих функций на отрезке $[-1; 1]$.

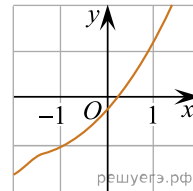
ГРАФИКИ ФУНКЦИЙ



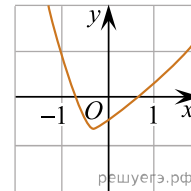
A)



B)



B)



Г)

ХАРАКТЕРИСТИКИ

- 1) на отрезке $[-1; 1]$ функция убывает
- 2) на отрезке $[-1; 1]$ функция имеет точку максимума
- 3) на отрезке $[-1; 1]$ функция имеет точку минимума
- 4) на отрезке $[-1; 1]$ функция возрастает

В таблице под каждой буквой укажите соответствующий номер.

<i>A</i>	<i>B</i>	<i>B</i>	<i>Г</i>